

نام و نام خانوادگی:

.....

پایه : دوم

جمهوری اسلامی ایران

اداره ی کل آموزش و پرورش شهر تهران

اداره ی آموزش و پرورش شهر تهران منطقه ۷ تهران

دبستان غیردولتی سرای دانش واحد شریعتی

آزمون میان‌ترم نوبت اول سال تحصیلی ۱۴۰۳-۱۴۰۲


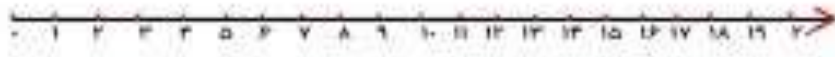
نام درس: ریاضی

نام دبیر: پریسا بهرامی

تاریخ امتحان: ۲۰ / ۰۸ / ۱۴۰۲

ساعت امتحان: ۸ صبح / عصر

مدت امتحان: ۴۵ دقیقه

ردیف	سوالات				
۱	- همهی عددهای دورقمی را بنویسید که رقم‌های یکان آن ۶ یا ۳ و دهگان آن ۷ یا ۸ باشد. (خوشه‌ای)				
۲	- جاهای خالی را کامل کنید. ۶ دسته‌ی ده‌تایی منهای دسته‌ی ده‌تایی می‌شود دسته‌ی ده‌تایی. $۶۰ - ۳۰ = \dots\dots\dots$ ۵۷ چند دسته‌ی ده‌تایی و چند یکی است ؟				
۳	- ساعت سمت چپ چه عددی را نشان می‌دهد ؟ برای ساعت سمت راست عقربه رسم کن.  ۷:۵۰				
۴	- الگوهای زیر را کامل کنید. ۴-۸-۱۲- - - <table border="1" data-bbox="343 1680 1268 1769"><tr><td></td><td>پنجاه و هفت</td><td></td><td>پنجاه و پنج</td></tr></table>		پنجاه و هفت		پنجاه و پنج
	پنجاه و هفت		پنجاه و پنج		
۵	- ۱۲ گنجشک روی درخت بودند. ۵ تا از گنجشک‌ها پرواز کردند. حالا چند گنجشک روی درخت مانده است؟ (روی محور نشان بده) 				

- پسر جمع جدول زیر را کامل کن.

۹	۰				۴				
		۸			۵				

۶

- حاصل جمع و تفریق‌های زیر را بنویسید.

$40 + 20 = \dots\dots\dots$

$30 + 10 + 20 + 5 = \dots\dots\dots$

$50 + 20 + 5 + 5 + 10 = \dots\dots\dots$


$52 + 6 = \dots\dots\dots$

$90 - 6 = \dots\dots\dots$

$9 + 9 = \dots\dots\dots$

۷

- جدول جمع و تفریق را کامل کن.

	۸	۲
۴		
۹		

۸

- با عددهای ۸ و ۴ تمام عددهای دورقمی را که می‌توان نوشت، بنویس.

۹

- بزرگترین عدد دورقمی را که می‌توان با رقم‌های ۴ و ۸ نوشت، چه اعدادی هستند؟

۱۰

- با کارت‌های ۷ و ۶ چند عدد دورقمی می‌توان نوشت؟

۱۱

- ۶ کودک در پارک بودند. ۴ کودک دیگر به پارک رفتند و ۳ نفر از پارک خارج شدند. حالا چند نفر در پارک

هستند؟ (عبارت را بنویس. جواب را بنویس. جلونویسی مسئله انجام شود.)

۱۲