




























نام و نام خانوادگی: .....  
مقطع و رشته: .....  
نام پدز: .....  
شماره داوطلب: .....  
تعداد صفحه سؤال: ۲ صفحه

جمهوری اسلامی ایران  
اداره ی کل آموزش و پرورش شهر تهران  
اداره ی آموزش و پرورش شهر تهران منطقه ۴ تهران  
دبستان غیردولتی دخترانه سرای دانش واحد رسالت  
جمع بندی پایان ترم نوبت اول سال تمصیلی 1402-1403

نام درس: ریاضی  
نام دبیر: رضازاده  
تاریخ امتحان: 1402/10/09  
ساعت امتحان: 7:30 صبح / عصر  
مدت امتحان: 90 دقیقه

محل مهر و امضاء مدیر	نمره به عدد: نمره به حروف:	نمره به عدد: نمره به حروف:
	نام دبیر: تاریخ و امضاء:	نام دبیر: تاریخ و امضاء:

سؤالات	نمره																		
<p>دخترم با توجه به تعداد عددها داده شده چوب خط بکش و در جای خالی علامت مناسب بگذار .</p> <table border="0" style="width: 100%; text-align: center;"><tr><td><input type="text"/></td><td><input type="text"/></td></tr><tr><td></td><td></td></tr><tr><td></td><td></td></tr><tr><td><input type="text"/></td><td><input type="text"/></td></tr><tr><td></td><td></td></tr><tr><td></td><td></td></tr><tr><td><input type="text"/></td><td><input type="text"/></td></tr><tr><td></td><td></td></tr><tr><td></td><td></td></tr></table>	<input type="text"/>	<input type="text"/>					<input type="text"/>	<input type="text"/>					<input type="text"/>	<input type="text"/>					۱
<input type="text"/>	<input type="text"/>																		
																			
																			
<input type="text"/>	<input type="text"/>																		
																			
																			
<input type="text"/>	<input type="text"/>																		
																			
																			

۵		۴		۲	۶
۶	۳	۲	۱	۴	۵
۴	۶	۳	۵	۱	
۱		۵	۴	۶	۳
	۵	۱	۶		۴
۳	۴	۶	۲	۵	۱

۱/۵

۲

عزیزم بین دو عدد علامت مناسب قرار بده یا در طرف دیگر علامت ، عدد مناسب بنویس

$$۵ < \text{-----}$$

$$۲ \text{ --- } ۲$$

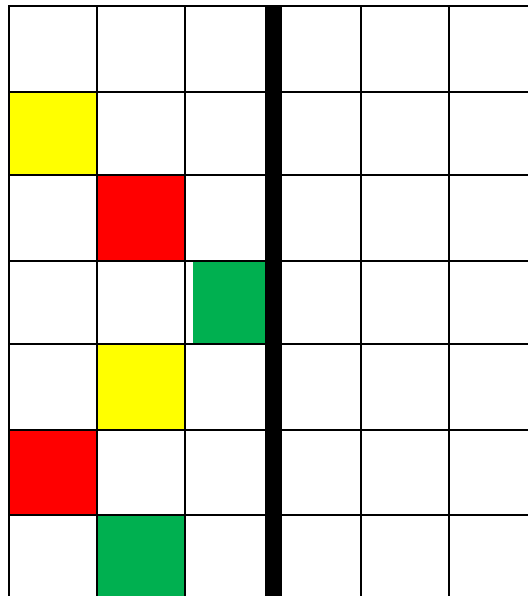
$$\text{-----} < ۱$$

$$\text{-----} < ۹$$

۲

۳

دخترم تقارن شکل را طوری کامل کن که دو نیمه آن مثل هم باشد .



۱/۵

۴

دخترم در جای خالی عدد مناسب بنویس

۲

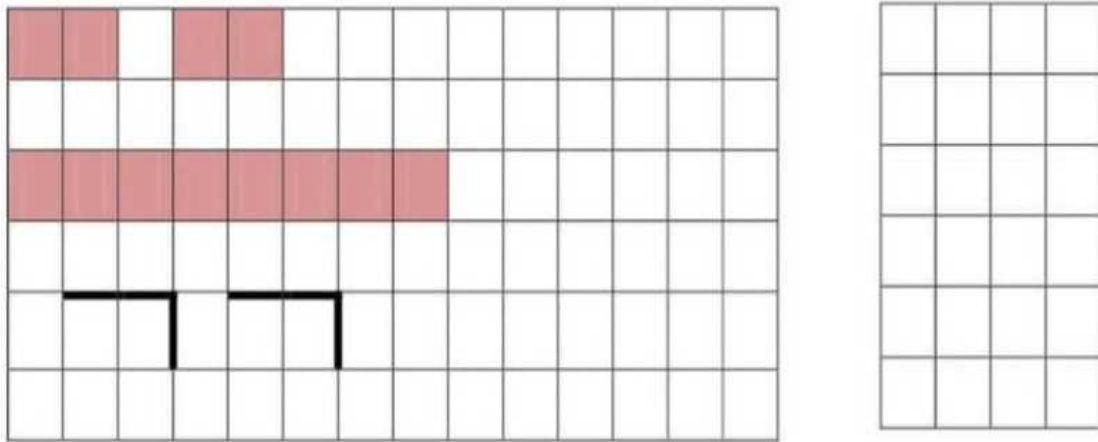
۵

۰					۵				
---	--	--	--	--	---	--	--	--	--

در هر ردیف ، مانند نمونه الگوها را ادامه بده و الگوی تکرار شونده را در سمت راست بکش

۲

۶



عزیزم جمع مربوط به هر شکل را بنویس .

۲

۷

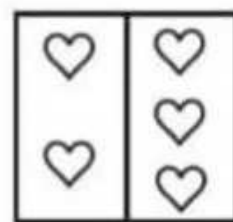

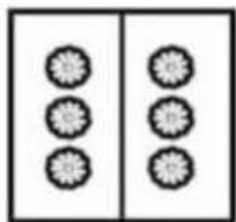


\_\_\_\_\_ + \_\_\_\_\_ = \_\_\_\_\_



\_\_\_\_\_ + \_\_\_\_\_ = \_\_\_\_\_



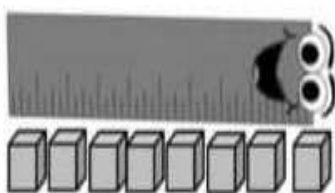
دخترم شکل های سمت راست و سمت چپ روی هم چقدر می شود؟ عددش را بنویس



۱/۵

۸

دخترم اندازه ی هر شکل چند شکل کوچک است؟



۱

۹

دخترم جمع های ترکیبی عدد نوشته شده را بنویس

۷


۱

۱۰

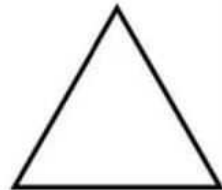
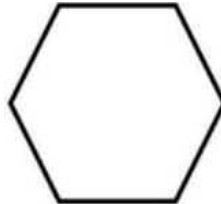
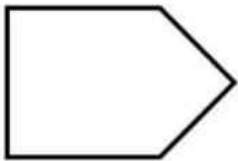
عزیزم از ۸ تا ۱ بنویس

۱

۱۱

دخترم هر شکل چند گوشه دارد بنویس

۲



۱۲

عزیزم جمع کن

$$۴ + ۲ =$$

۱

$$۳ + ۴ =$$

۱۳



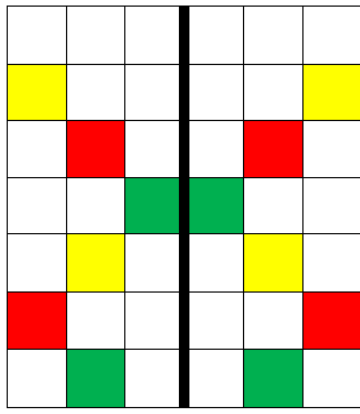
اداره ی کل آموزش و پرورش شهر تهران  
 اداره ی آموزش و پرورش شهر تهران منطقه ۴ تهران  
 دبستان غیر دولتی دخترانه سرای دانش واحد رسالت  
**کلید** سوالات جمع بندی پایان ترم نوبت اول سال تحصیلی ۱۴۰۳ - ۱۴۰۲

نام درس:  
 نام دبیره: رضازاده  
 تاریخ امتحان: ۱۴۰۲/۱۰/۰۹  
 ساعت امتحان: 7:30 **صبح** / عصر  
 مدت امتحان: 90 دقیقه

راهنمای تصحیح محل مهر یا امضاء مدیر

ردیف


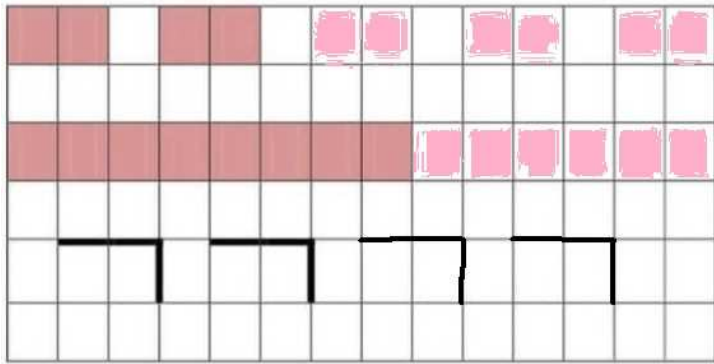
۵	۱	۴	۳	۲	۶
۶	۳	۲	۱	۴	۵
۴	۶	۳	۵	۱	۲
۱	۲	۵	۴	۶	۳
۲	۵	۱	۶	۳	۴
۳	۴	۶	۲	۵	۱



۴

♦-۱-۲-۳-۴-۵-۶-۷-۸-

۵



۶

$$۳ + ۴ = ۷$$

۷

$$۴ + ۲ = ۶$$

$$۶ - ۷ = ۵$$

۸

۸

۶

۹



۱۰

۱-۲-۳-۴-۵-۶-۷-۸

۱۱

۵-۴-۶-۳

۱۲

$$۴+۲=۶$$

$$۳+۴=۷$$

۱۳

امضاء:

رضازاده

نام و نام خانوادگی مصحح :

جمع بارم : ۲۰ نمره

جمع بارم : ۲۰ نمره