

نام و نام خانوادگی:

مقطع و رشته:

نام پدر:

شماره داوطلب:

تعداد صفحه سؤال: ۲ صفحه

جمهوری اسلامی ایران

اداره ی کل آموزش و پرورش شهر تهران

اداره ی آموزش و پرورش شهر تهران منطقه ۴ تهران

دبستان غیردولتی دخترانه سرای دانش واحد رسالت

جمع بندی پایان ترم نوبت دوم سال تحصیلی ۱۴۰۲ - ۱۴۰۱





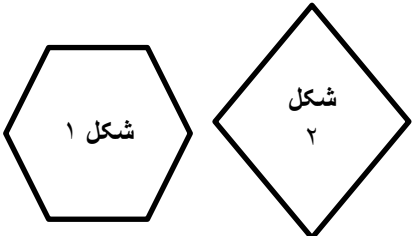
نام درس: ریاضی

نام دبیر: مریم سادات آقاحسینی

تاریخ امتحان: ۱۴۰۲/۰۲/۲۳

ساعت امتحان: ۳۰ : ۰۷ صبح / عصر

مدت امتحان: ۹۰ دقیقه

نام مدیر و امضاء مدیر	نمره به عدد:	نمره به حروف:
	نمره به عدد:	نمره به حروف:
نام دبیر:	تاریخ و امضاء:	نام دبیر:
سؤال	نمره	پاسخ
۱	الگو را ادامه بده:	
۲	جای خالی را کامل کنید:	 <p>..... تا تا بی می شود</p> <p>..... تا تا بی می شود</p>
۳	زمانی را که ساعت نشان می دهد به دو صورت بنویس:	 <p>.....</p> <p>یک ربع بعد از این ساعت چه ساعتی است.....</p> <p>نیم ساعت بعد از ساعت ۷:۳۰ چند ساعت است.....</p> <p>یک ساعت بعد از ساعت ۲:۴۵ چه ساعتی است.....</p>
۴	عدد های زوج را سبز و عدد های فرد را نارنجی کنید:	<p>۱۰۲ ۴۳ ۸۰۰ ۹ ۸۷۷ ۵۶</p>
۵	با کارت های رو به رو تمام عدد های سه رقمی را که می توان بنویس:	
۶	شکل های رو به رو چه شباهت ها و چه تفاوت هایی دارد؟	 <p>شباهت:</p> <p>تفاوت:</p>

جواب جمع و تفریق های زیر را به صورت تقریبی به دست آورید:

+۳۶

۴۲

۵۲

- ۲۲

۷

جمع و تفریق های زیر را به روش خواسته به دست آورید:

به روش فرآیندی	به روش فرآیندی	به روش انتقالی	به روش انتقالی	به روش انتقالی	به روش انتقالی
۲۵۱	۸۷۸	۲۵۳	۴۷۱	۹۸۲	۷۱۵
<u>+ ۴۳۸</u>	<u>- ۳۲۴</u>	<u>+ ۴۳۹</u>	<u>+ ۳۹۹</u>	<u>- ۴۴۴</u>	<u>- ۲۹۸</u>

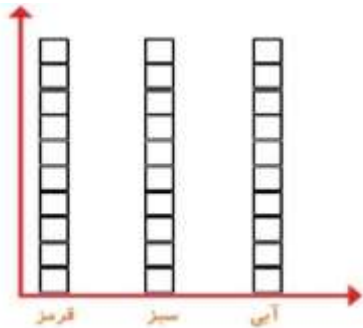
۸

جدول زیر را کامل کن :

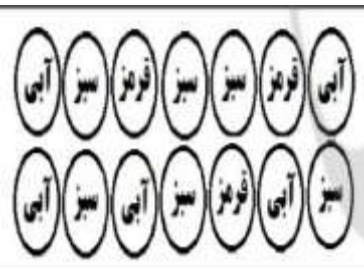
یکان	دهگان	صدگان

۹

جدول زیر را کامل کن و نمودار آن را رسم کن:



عدد	چوب خط	
		مهره قرمز
		مهره آبی
		مهره سبز
		جمع کل



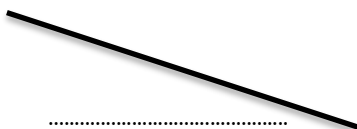
اگر بدون نگاه کردن به داخل کیسه، یک مهره انتخاب کنیم، احتمال بیرون آمدن کدام مهره بیشتر است؟.....

۱۰

جاهای خالی را کامل کنید :

۴۸ میلی متر سانتی متر و میلی متر است
 ۵۰ سانتی متر چند میلی متر است.....

۱۱



اداره ی کل آموزش و پرورش شهر تهران
 اداره ی آموزش و پرورش شهر تهران منطقه ۴ تهران
 دبستان غیر دولتی دخترانه سرای دانش واحد رسالت
کلید سؤالات پایان نوبت اول سال تمصیلی ۱۴۰۲ - ۱۴۰۱

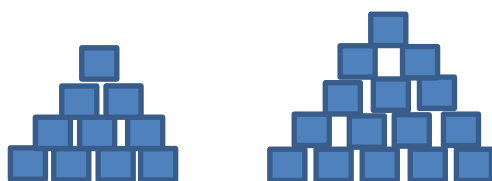


نام درس:
 نام دبیره:
 تاریخ امتحان: ۱۴۰۱/۱۰/
 ساعت امتحان: ۷:۳۰ صبح / عصر
 مدت امتحان: ۹۰ دقیقه

محل مهر یا امضاء مدیر

راهنمای تصحیح

ردیف



۱

۵ تا ۳ تایی می شود ۱۵

۲ تا ۴ تایی می شود ۸

۲



۷:۱۵ و هفت و ربع

یک ربع بعد از این ساعت چه ساعتی است. ۷:۳۰

نیم ساعت بعد از ساعت ۷:۳۰ چه ساعتی است. ۸:۰۰

یک ساعت بعد از ساعت ۲:۴۵ چه ساعتی است : ۳:۴۵

۳

سبزه (۵۶ - ۸۰۰ - ۱۰۲)

نارنجی (۸۷۷ - ۹ - ۴۳)

۴

۷۵۲ - ۷۲۵ - ۵۷۲ - ۵۲۷ - ۲۷۵ - ۲۵۷

۵

شباهت : هر دو شکل هندسی هستند . هر دو خط تقارن دارند .

تفاوت : شکل ۱ شش ضلع و شش گوشه دارد ولی شکل ۲ چهار ضلع و چهار گوشه دارد.

۶

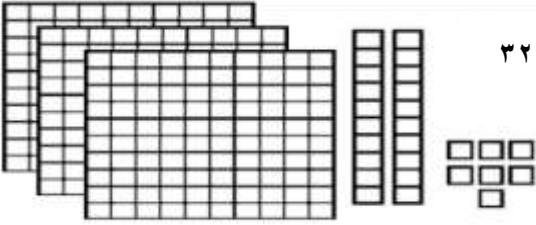
۸۰

۷

۲۰

به روش فرآیندی	به روش فرآیندی	به روش انتقالی	به روش انتقالی	به روش انتقالی	به روش انتقالی
۲۵۱	۸۷۸	۲۵۳	۴۷۱	۹۸۲	۷۱۵
+ ۴۳۸	- ۳۲۴	+ ۴۳۹	+ ۳۹۹	- ۴۴۴	- ۲۹۸
۶۸۹	۵۵۴	۶۹۲	۸۷۰	۵۳۸	۴۱۷

۸

	<p>۳۲۶</p> <p>به حروف:</p>	<table border="1" style="width: 100%; text-align: center;"> <tr> <td>یکان</td> <td>دهگان</td> <td>صدگان</td> </tr> <tr> <td>۶</td> <td>۲</td> <td>۳</td> </tr> </table>	یکان	دهگان	صدگان	۶	۲	۳	۹
یکان	دهگان	صدگان							
۶	۲	۳							
<p>مهره ی قرمز (۳) - مهره ی آبی (۵) - مهره ی سبز (۶) احتمال بیرون آمدن مهره سبز بیشتر است زیرا تعداد آن بیشتر است.</p>			۱۰						
<p>۴۸ میلی متر ۴ سانتی متر و ۸ میلی متر ۵۰۰ میلی متر</p> <p>خط الف (۴ سانتی و ۵ میلی متر) خط ب (۷ سانتی متر)</p>			۱۱						
<p>نام و نام خانوادگی مصحح : امضاء:</p>		<p>جمع بارم : ۲۰ نمره</p>							