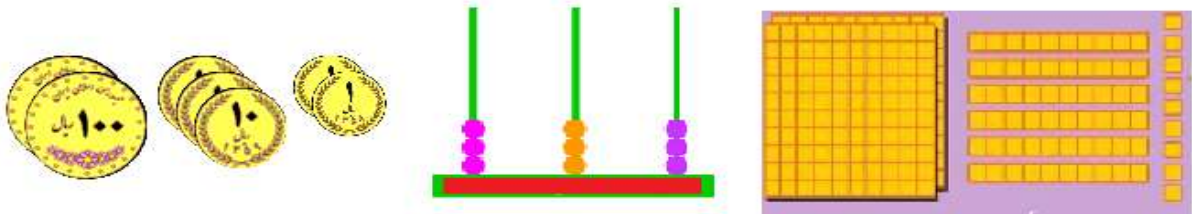



نام و نام خانوادگی:
 مقطع و رشته: دوم دبستان
 نام پدر:
 شماره داوطلب:
 تعداد صفحه سؤال: ۲ صفحه

جمهوری اسلامی ایران
 اداره ی کل آموزش و پرورش شهر تهران
 اداره ی آموزش و پرورش شهر تهران منطقه ۷ تهران
 دبستان غیردولتی پسرانه سرای دانش واحد شریعتی
 آزمون پایان ترم نوبت اول سال تحصیلی ۱۴۰۱-۱۴۰۰

نام درس: ریاضی
 نام دبیر: زینب سراج
 تاریخ امتحان: / / ۱۴۰۰
 ساعت امتحان: : : صبح / عصر
 مدت امتحان : دقیقه

محل مهر و امضا: مدیر	نمره به عدد: نمره به حروف:	نمره به عدد: نمره به حروف:
	نام دبیر: تاریخ و امضا:	نام دبیر: تاریخ و امضا:

ردیف	سؤالات	نمره
	<p>هر شکل چه عددی را نشان می دهد؟ به عدد و حروف بنویس سپس در جدول یکان دهگان صدگان وارد کن.</p>  <p>به عدد :</p> <p>به حروف :</p> <p>جدول :</p>	۱
	<p>فکر کن سه کارت زیر را داری .</p>  <p>چند عدد دو رقمی و چند عدد سه رقمی با آن ها می توانی بسازی؟</p> <p>دو رقمی:</p> <p>سه رقمی:</p> <p>بزرگترین عدد دو رقمی که ساختی</p> <p>کوچکترین عدد سه رقمی که ساختی</p>	۲
	<p>جمع و تفریق های زیر را زیرهم بنویس سپس به روش فرایندی حل کن.</p> <p>۲۳+۵۶</p> <p>۹۲-۴۶</p>	۳

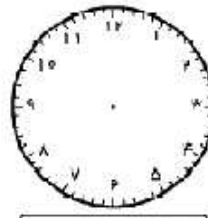

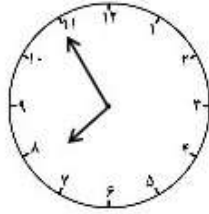
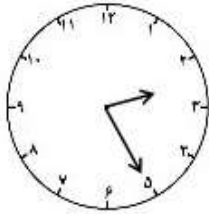
جمع و تفریق های زیر را به روش گسترده نویسی (دومرحله ای) حل کن.

$$79 + 17$$

$$88 - 31$$


۴

کامل کن.




۵

نام هر شکل را زیر آن بنویس سپس با خط کش خط تقارن آن را رسم کن.



۶

تفاوت ها و شباهت های شکل های زیر را بنویس.



تفاوت ها :

شباهت ها:

۷

الگوهای زیر را تاسه عدد ادامه دهید.

۳-۶-۹

۲۰-۴۰-۶۰

۲-۳-۵-۸

۸

برای مساله زیر شکل بکش و آن را حل کن.

پدر محسن برای مهمانی شب یلدا ۵۰ عدد میوه خرید .

۲۰ تا از آن ها سیب است و ۱۴ تا از آن ها موز است و بقیه پرتقال است.

حالا آن ها برای شب یلدا چند پرتقال دارند؟

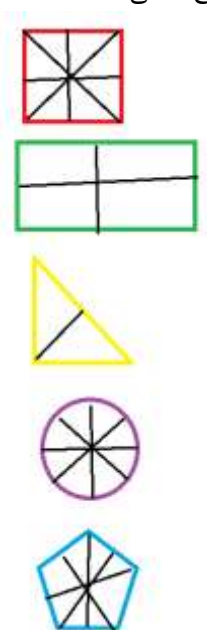
۹




اداره ی کل آموزش و پرورش شهر تهران
 اداره ی آموزش و پرورش شهر تهران منطقه ۷ تهران
 دبستان غیر دولتی پسرانه سرای دانش واحد شریعتی
کلید سؤالات پایان ترم نوبت اول سال تمصیلی ۱۴۰۱-۱۴۰۰

نام درس: ریاضی دوم
 نام دبیر: سرکارخانم سراج
 تاریخ امتحان: / / ۱۴۰۰
 ساعت امتحان: صبح / عصر
 مدت امتحان: دقیقه

ردیف	راهنمای تصحیح	محل مهر یا امضاء مدیر												
۱	<p>۲۶۹ دو یست و شست و نه دو صدتایی ، شش ده تایی و نه یکی</p> <p>۳۳۳ سیصد و سی و سه سه صدتایی و سه ده تایی و سه یکی</p> <p>۲۳۱ دو یست و سی و یک دو صدتایی و سه ده تایی و دو یکی</p> <table border="1" style="margin-left: auto; margin-right: auto;"> <thead> <tr> <th>صدگان</th> <th>دهگان</th> <th>یکان</th> </tr> </thead> <tbody> <tr> <td>2</td> <td>6</td> <td>9</td> </tr> <tr> <td>3</td> <td>3</td> <td>3</td> </tr> <tr> <td>2</td> <td>2</td> <td>2</td> </tr> </tbody> </table>	صدگان	دهگان	یکان	2	6	9	3	3	3	2	2	2	
صدگان	دهگان	یکان												
2	6	9												
3	3	3												
2	2	2												
۲	<p>دورقمی : ۵۰-۳۰-۳۵-۵۳ سه رقمی: ۳۰۵-۳۵۰-۵۳۰-۵۰۳ ۵۳ ۳۰۵</p>													
۳	<p>۲۳ ۵۶+ ----- ۷۳ ۶+ ----- ۷۹</p> <p>۹۲ ۴۶- ----- ۵۲ ۶- ----- ۴۶</p>													
۴	<p>۷۹+۱۷ ۷۹ ۱۰+</p>													

	<p>۸۹ مرحله ۱</p> <p>۸۹</p> <p>۷+</p> <hr/> <p>۹۶ مرحله ۲</p> <p>۹۲-۴۶</p> <p>۹۲</p> <p>۴۰-</p> <hr/> <p>۵۲ مرحله ۱</p> <p>۵۲</p> <p>۶-</p> <hr/> <p>۴۶ مرحله ۲</p>	
	<p>۷:۵۵</p> <p>۲:۲۵</p> <p>عقربه کوچک بین ۸ و ۷ ، عقربه بزرگ روی ۷</p> <p>عقربه کوچک نزدیک ۱۲ عقربه کوچک روی ۱۱</p>	۵
	<p>مربع</p> <p>مستطیل</p> <p>مثلث</p> <p>دایره</p> <p>پنج ضلعی</p>  <p>برای هر شکل یک خط تقارن کافی است.</p>	۶
	<p>شبهات: هر دو سه ضلع و سه گوشه دارد</p> <p>تفاوت : در مثلث اول هر سه ضلع هم اندازه اند اما در مثلث دوم ضلع هل هم اندازه نیستند.</p>	۷
	<p>۱۲-۱۵-۱۸</p> <p>۸۰-۱۰۰-۱۲۰</p> <p>۱۲-۱۷-۲۳</p>	۸
	<p>۳۴=۲۰+۱۴ پدر محسن ۳۴ سیب و موز خریده است.</p> <p>۳۴-۵۰=۱۶ حالا آنها برای شب یلدا ۱۶ پرتغال دارند.</p>	۹



امضاء:

نام و نام خانوادگی مصحح :