

نام و نام خانوادگی:

مقطع و رشته:

نام پدر:

تعداد صفحه سؤال: ۴ صفحه

جمهوری اسلامی ایران

اداره ی کل آموزش و پرورش شهر تهران

اداره ی آموزش و پرورش شهر تهران منطقه ۷ تهران
دبستان غیردولتی پسرانه سرای دانش واحد شریعتی

آزمون پایان ترم نوبت دوم سال تمصیلی ۱۴۰۱-۱۴۰۰

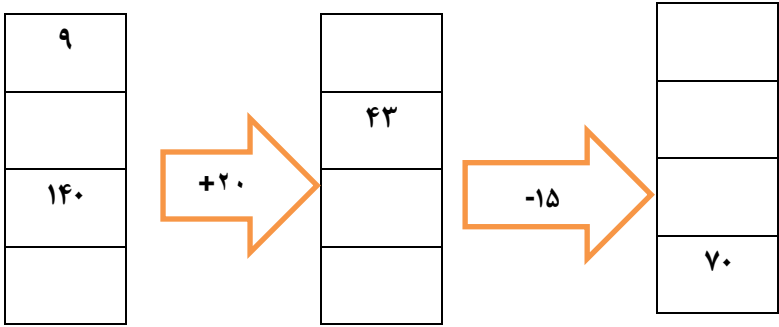
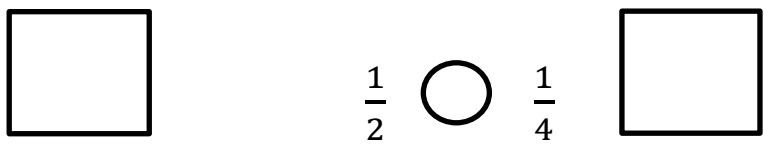
نام درس: ریاضی

نام دبیر: خانم فزونی

تاریخ امتحان: ۱۴۰۰/۰۲/۳۱

ساعت امتحان: : **صبح** / عصر

مدت امتحان : دقیقه

ردیف	سؤالات
۱	امروز سه شنبه و اولین روز ماه است. تا آخر این ماه سه شنبه ها چه روزهایی از ماه است؟
۲	اگر یک ریال عربستان به اندازه ۱۰۰۰ تومان ارزش داشته باشد، ۵ ریال عربستان با ارزش تر است یا ۵۵۰۰ تومان کشور ما؟
۳	جاهای خالی را با عدد مناسب پر کنید. 
۴	عددهای کسری داده شده را روی محور نشان دهید. $\frac{3}{4}$ واحد قبل از عدد ۴ $\frac{2}{3}$ واحد بعد از عدد ۱
۵	هر کدام از کسرهای داده شده را روی شکل نشان دهید و با استفاده از آنها مقایسه کرده و علامت $<=>$ بگذارید. 

جدول داده شده زمان را مانند نمونه پر کنید.

زمان	۱۵:۳۰	۲۳:۴۵		۲۱
بعد از ظهر	۳:۳۰		۷:۱۵	

۶

جاهای خالی داده شده را پر کنید.

الف) ۲۷۵۰ گرم یعنی کیلو و گرم.

ب) ۳۲۵ سانتی متر یعنی متر و سانتی متر.

ج) عدد ۵۳۲۱ یعنی یکی، ده تایی، صدتایی، هزارتایی.

۷

حاصل ضربهای زیر را با استفاده از روش های خواسته شده به دست آورید.

الف) با جمع کردن : $5 \times 6 =$

ب) با کمک محور: $6 \times 3 =$

ج) به کمک رسم شکل: $4 \times 7 =$

۸

برای شکل های داده شده را به دو صورت دسته بندی کن و برای آن دو ضرب و یک تقسیم بنویسید.



۹

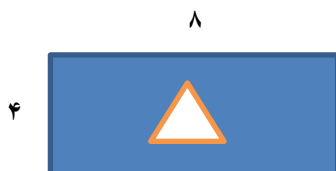
عددهای زیر را به صورت گسترده بنویسید.

$$7926 =$$

$$5324 =$$

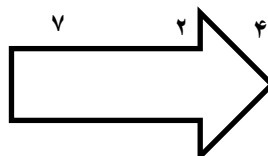
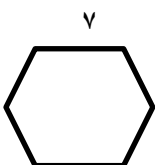
۱۰

اگر مساحت مثلث ۱۲ سانتی متر باشد. مساحت قسمت رنگ شده را به دست آورید.

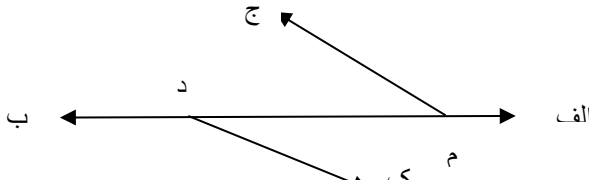
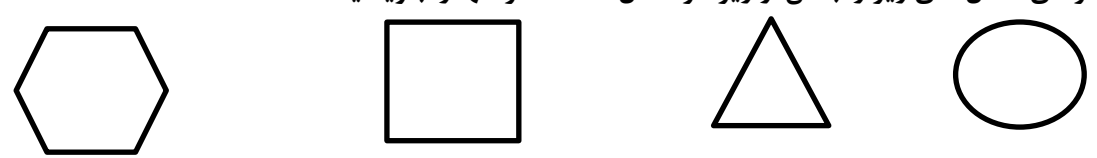
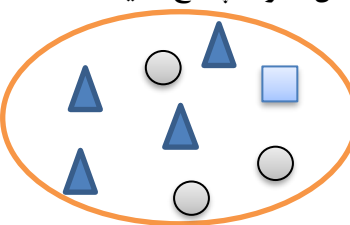


۱۱

محیط شکل های زیر را بدست آورید.



۱۲

	<p>نام خط راست، پاره خط و نیم خط شکل زیر را بنویسید.</p> 	۱۳
	<p>جمع تفریق های زیر را به صورت <u>فرآیندی</u> حل کنید.</p> $\begin{array}{r} 4563 \\ +3472 \\ \hline \end{array}$ $\begin{array}{r} 7625 \\ -4532 \\ \hline \end{array}$	۱۴
	<p>جواب تفریق زیر را با کمک شکل بدست آورید.</p> $\begin{array}{r} 4253 \\ -2516 \\ \hline \end{array}$	۱۵
	<p>پاسخ ضرب های زیر را بدست آورید.</p> $\begin{array}{r} 789 \\ \times 4 \\ \hline \end{array}$ $\begin{array}{r} 643 \\ \times 7 \\ \hline \end{array}$	۱۶
	<p>همه ی قطرهای شکل های زیر را بکش. و زیر هر شکل تعداد قطر آنها را بنویسید.</p> 	۱۷
	<p>اگر داخل یک کیسه مانند شکل داده شده کارت هایی به شکل مربع و مثلث و دایره باشد و با چشمان بسته یک کارت را از داخل کیسه بیرون بیاوریم با گزینه های « با احتمال کمتر»، « با احتمال بیشتر»، « احتمال ندارد» پاسخ دهید.</p>  <p>الف) کارت لوزی شکل دریاوریم:</p> <p>ب) کارت مثلثی شکل دریاوریم:</p> <p>ج) کارت مربع شکل دریاوریم:</p>	۱۸

حاصل تقسیم های داده شده را به دست آورید.

$$\begin{array}{r} 75 \\ | \\ \hline 9 \end{array}$$

$$\begin{array}{r} 42 \\ | \\ \hline 8 \end{array}$$

$$\begin{array}{r} 54 \\ | \\ \hline 6 \end{array}$$

۱۹

مرجان هفته ای دو بار و هر بار دو ساعت ورزش می کند. او در ۵ هفته چند ساعت ورزش می کند؟

۲۰

پدر مهدی ۳ کیلو و ۷۸۹ گرم و برادر او ۲ کیلو و ۶۷۸ گرم زرشک وحشی چیده اند. آنها روی هم چند کیلو زرشک وحشی چیده اند؟ (با روش تکنیکی)

۲۱

برای دور یک رو میزی ۲۰ متر روبان بکار رفته است. اگر مساحت رومیزی ۲۴ متر مربع باشد، طول و عرض آن چند متر است؟

۲۲

موفق باشید