

نام و نام خانوادگی :

.....

پایه : سوم

تعداد صفحه سوال : ۲ صفحه

جمهوری اسلامی ایران

اداره ی کل آموزش و پرورش شهر تهران

اداره ی آموزش و پرورش شهر تهران منطقه ۴ تهران

دبستان غیردولتی دخترانه سرای دانش واحد رسالت

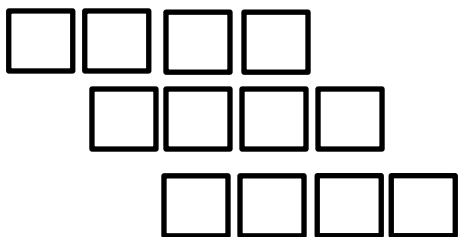



نام درس : ریاضی

نام دبیر: فاطمه کریم پور

تاریخ امتحان: ۲۷ / ۰۸ / ۱۴۰۲

ساعت امتحان :

مدت امتحان : ۶۰ دقیقه

شماره	سوالات	نوع												
	<p>رضا هر بادکنک را ۲۵۰ تومان می خرد و ۳۰۰ تومان می فروشد با کامل کردن جدول به سوالات پاسخ دهید.</p> <table border="1"><tr><td>تعداد بادکنک ها</td><td>۱</td><td></td><td></td><td></td><td></td></tr><tr><td>سود حاصل از فروش</td><td></td><td></td><td></td><td></td><td></td></tr></table>	تعداد بادکنک ها	۱					سود حاصل از فروش						۱
تعداد بادکنک ها	۱													
سود حاصل از فروش														
	<p>• فروش یک بادکنک چند تومان سود دارد؟ • چند بادکنک باید بفروشد تا ۲۰۰ تومان سود ببرد؟ • او با سود فروش چند بادکنک می توان یک بادکنک دیگر بخرد؟</p>													
	<p>اتوبوسی ساعت ۷:۳۰ صبح از تهران به سوی تبریز حرکت کرد و بعد از ۹ ساعت به تبریز رسید . این اتوبوس چه زمانی به تبریز رسیده است؟ ساعت.....یا .....بعداز ظهر</p>	۲												
	<p>تعداد مربع های زیر را با ۳ نوع دسته بندی و به کمک شمارش چندتا چندتا بدست آورید.</p> <table><tr><td></td><td>_____</td></tr><tr><td></td><td>_____</td></tr><tr><td></td><td>_____</td></tr></table>		_____		_____		_____	3						
	_____													
	_____													
	_____													
	<p>قطاری ۶ واگن دارد. در هر واگن آن ۲ کوپه وجود دارد و در کوپه ۶ مسافر نشسته است.</p> <p>الف) در ۵ واگن چند کوپه وجود دارد؟ ب) در ۳ واگن، چند مسافر نشسته است؟</p> 	۴												

