








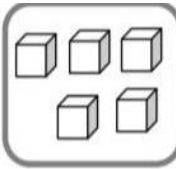




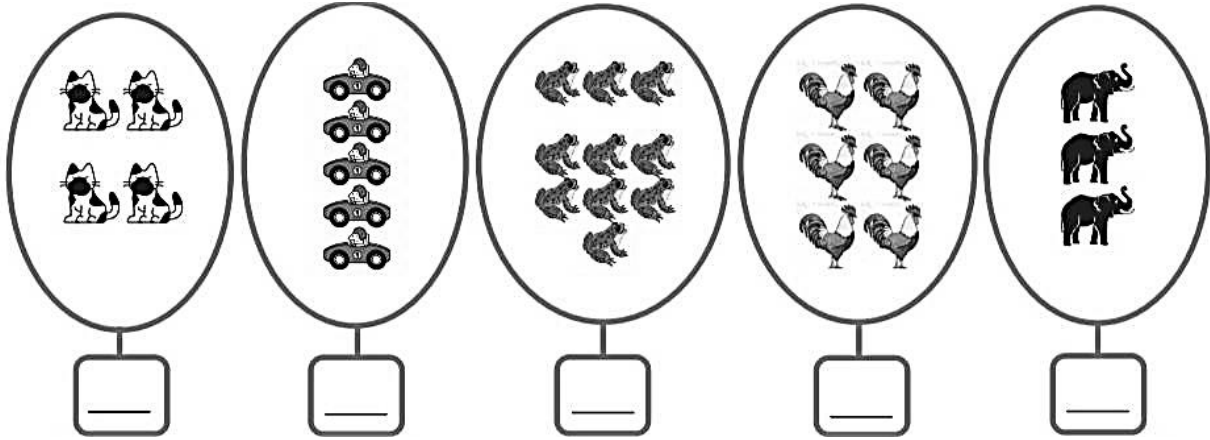
نام و نام خانوادگی:
 مقطع و رشته:
 نام پدر:
 شماره داوطلب:
 تعداد صفحه سؤال: ۲ صفحه

جمهوری اسلامی ایران
 اداره ی کل آموزش و پرورش شهر تهران
 اداره ی آموزش و پرورش شهر تهران منطقه ۴ تهران
 دبستان غیردولتی دخترانه سرای دانش واحد رسالت
 جمع بندی پایان ترم نوبت اول سال تحصیلی ۱۴۰۲ - ۱۴۰۱

نام درس:
 نام دبیر:
 تاریخ امتحان: ۱۴۰۱/۱۰/۱۷
 ساعت امتحان: ۰۷:۳۰ صبح / عصر
 مدت امتحان: ۹۰ دقیقه

محل مهر و امضا: مدیر		نمره به عدد: نمره به حروف:	نمره به عدد: نمره به حروف:
		نام دبیر: تاریخ و امضا:	نام دبیر: تاریخ و امضا:
ردیف	سؤالات		
۱	<p>فرزند خویم عدد های قبل و بعد عدد نوشته شده را بنویس.</p> <p> <input type="text"/> <input type="text"/> <input type="text"/> <input type="text"/> <input type="text"/> <input type="text"/> </p> <p> <input type="text"/> <input type="text"/> <input type="text"/> <input type="text"/> <input type="text"/> <input type="text"/> </p> <p> <input type="text"/> <input type="text"/> <input type="text"/> <input type="text"/> <input type="text"/> <input type="text"/> </p>		
۲	<p>عزیزم انگشتان یک دست را باز کن به تعداد شکل ها انگشتان خود را ببند بعد به تعداد انگشتان باقی مانده چوب خط بکش.</p> <p>   → <input type="text"/>   → <input type="text"/> </p>		
۳	<p>عدد هر دسته را بنویس و از علامت بیشتر یا مساوی به طور مناسب استفاده کن.</p> <p>       </p> <p> <input type="text"/> <input type="text"/> <input type="text"/> <input type="text"/> <input type="text"/> <input type="text"/> <input type="text"/> <input type="text"/> <input type="text"/> <input type="text"/> <input type="text"/> <input type="text"/> </p>		
۴	<p>زرنگ کلاس شکل های هر دو دسته روی هم چند تا می شوند؟ با چوب خط و عدد نشان بده.</p> <p>   → <input type="text"/> <input type="text"/> </p>		
۵	<p>با هوش کلاس از ۰ تا ۹ به ترتیب بنویس.</p> <p>.....</p>		
۶	<p>با استفاده از سه مداد رنگی رنگ بزن و جواب جمع را پیدا کن.</p> <p> <input type="text"/> <input type="text"/> <input type="text"/> <input type="text"/> <input type="text"/> <input type="text"/> </p> <p> <input type="text"/> <input type="text"/> <input type="text"/> <input type="text"/> <input type="text"/> <input type="text"/> </p> <p> <input type="text"/> + <input type="text"/> + <input type="text"/> = <input type="text"/> </p>		

تعداد شکل ها را بنویس.



۷

جدول شگفت انگیز زیر را کامل کن.

۶	۷	۹	۲	۴	۵	۸	۳	
۳	۵	۸	۱		۶		۲	۴
۴	۲	۱	۸	۹	۳	۷	۶	
۷	۳	۶	۹	۵	۱	۲	۴	۸
۵	۱	۴	۷	۲		۶		۳
۹	۸		۶	۳	۴	۱	۵	
۲	۶	۳	۴	۸	۷	۵	۱	۹
۱		۷	۵	۶	۹	۳	۸	۲
	۹	۵	۳		۲	۴	۷	۶

۸



اداره ی کل آموزش و پرورش شهر تهران
 اداره ی آموزش و پرورش شهر تهران منطقه ۴ تهران
 دبستان غیر دولتی دخترانه سرای دانش واحد رسالت
کلید سؤالات پایان نوبت اول سال تحصیلی ۱۴۰۲ - ۱۴۰۱

نام درس:
 نام دبیر:
 تاریخ امتحان: / / ۱۴۰۱
 ساعت امتحان: ۷:۳۰ صبح / عصر
 مدت امتحان: ۹۰ دقیقه

ردیف	راهنمای تصحیح	محل مهر یا امضاء مدیر
۱	فرزند خوبم عدد های قبل و بعد عدد نوشته شده را بنویس.	
۲	عزیزم انگشتان یک دست را باز کن به تعداد شکل ها انگشتان خود را ببند بعد به تعداد انگشتان باقی مانده چوب خط بکش	
۳	عدد هر دسته را بنویس و از علامت بیشتر یا مساوی به طور مناسب استفاده کن.	
۴	زرنگ کلاس شکل های هر دو دسته روی هم چند تا می شوند؟ با چوب خط و عدد نشان بده.	
۵	با هوش کلاس از ۰ تا ۹ به ترتیب بنویس.	
۶	با استفاده از سه مداد رنگی رنگ بزن و جواب جمع را پیدا کن.	

• فرزند خوبم عدد های قبل و بعد عدد نوشته شده را بنویس.

•	۱	۲	۳	۴
۲	۳	۴	۵	
۲	۳	۴	۵	۶
۷				

عزیزم انگشتان یک دست را باز کن به تعداد شکل ها انگشتان خود را ببند بعد به تعداد انگشتان باقی مانده چوب خط بکش

		→			→	

عدد هر دسته را بنویس و از علامت بیشتر یا مساوی به طور مناسب استفاده کن.

۴	<	۶	۲	=	۲
			۸	>	۵

زرنگ کلاس شکل های هر دو دسته روی هم چند تا می شوند؟ با چوب خط و عدد نشان بده.

		→		۸
--	--	---	--	---

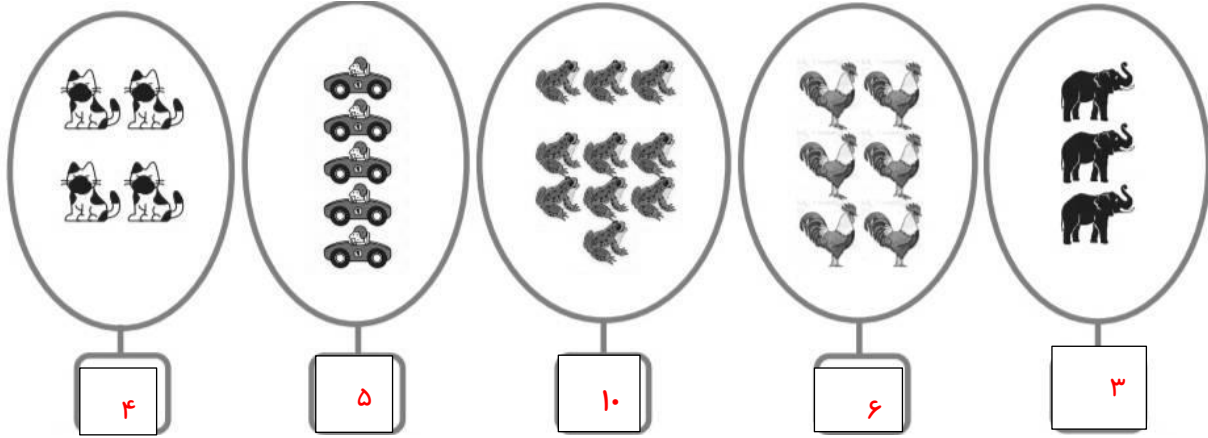
با هوش کلاس از ۰ تا ۹ به ترتیب بنویس.

۰	۱	۲	۳	۴	۵	۶	۷	۸	۹
---	---	---	---	---	---	---	---	---	---

با استفاده از سه مداد رنگی رنگ بزن و جواب جمع را پیدا کن.

۳	+	۲	+	۳	=	۸

تعداد شکل ها را بنویس.



۷

جدول شگفت انگیز زیر را کامل کن.

۶	۷	۹	۲	۴	۵	۸	۳	۱
۳	۵	۸	۱	۷	۶	۹	۲	۴
۴	۲	۱	۸	۹	۳	۷	۶	۵
۷	۳	۶	۹	۵	۱	۲	۴	۸
۵	۱	۴	۷	۲	۸	۶	۹	۳
۹	۸	۲	۶	۳	۴	۱	۵	۷
۲	۶	۳	۴	۸	۷	۵	۱	۹
۱	۴	۷	۵	۶	۹	۳	۸	۲
۸	۹	۵	۳	۱	۲	۴	۷	۶

۸

امضاء:

نام و نام خانوادگی مصحح :

جمع بارم : ۲۰ نمره