

نام و نام خانوادگی:
 مقطع و رشته: اول دبستان
 نام پدر:
 شماره داوطلب:
 تعداد صفحه سؤال: ۲ صفحه

جمهوری اسلامی ایران
 اداره ی کل آموزش و پرورش شهر تهران
 اداره ی آموزش و پرورش شهر تهران منطقه ۴ تهران
 دبستان غیردولتی دخترانه سرای دانش واحد رسالت
 جمع بندی پایان ترم دوم سال تحصیلی ۱۴۰۲ - ۱۴۰۱

نام درس: ریاضی
 نام دبیر: شاهی
 تاریخ امتحان: ۱۴۰۲/۰۲/۲۳
 ساعت امتحان: ۰۷:۳۰ صبح / عصر
 مدت امتحان: ۹۰ دقیقه

شماره سؤال	نمره به عدد: نمره به حروف:		نمره به عدد: نمره به حروف:	
	نام دبیر:	تاریخ و امضا:	نام دبیر:	تاریخ و امضا:
۱	از عدد ۷۲ تا ۸۲ یکی یکی بنویس.	۷۲	از عدد ۱۰ تا ۱۰۰ ده تا ده تا بنویس.	۱۰
۲	عددها را به حروف و حروف را به عدد بنویس.	۱۵	بیست	نود و نه
۳	جواب جمع و تفریق را بنویس و بین آنها علامت مناسب بگذار.	$۶۶ - ۶ = \square$	$۲۰ + ۵ = \square$	$۴۰ + ۱۰ = \square$
		$۴۰ + ۱۰ = \square$	$۴۵ + ۵ = \square$	$۲۰ - ۲ = \square$
		$۲۰ - ۲ = \square$	$۱۴ + ۳ = \square$	

زمانی که هر ساعت نشان می دهد را بنویس.



ساعت بین و است.



ساعت است.

۴

جاهای خالی را با عدد مناسب کامل کن.

۱۴ - ۲۱ - ۲۸ - - - -

..... - - - - ۷۵ - ۸۰ - ۸۵

۵


آنهایتا می خواست برای عید تخم مرغ رنگ کند. اول ۸ تخم مرغ رنگ کرد و بعد ۵ تخم مرغ دیگر را هم رنگ کرد. اما ۳ تا از تخم مرغ ها شکستند.

حالا او چند تخم مرغ رنگ شده دارد؟

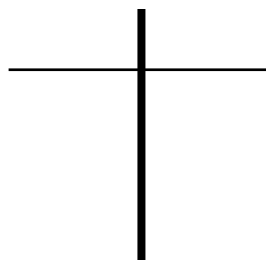
..... تخم مرغ رنگ شده دارد.

۶

برای عدد ۳۰ شکل بکش، آن را در جدول بنویس و بعد این عدد را با حروف بنویس.

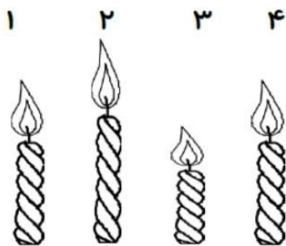


به حروف =



۷

در جاهای خالی عدد مناسب بنویس.



شمع شماره ۱ کوتاهترین شمع است.

شمع شماره ۲ بلندترین شمع است.



شمع شماره ۳ هم اندازه ی شمع شماره ۱ است.

۸



اداره ی کل آموزش و پرورش شهر تهران
 اداره ی آموزش و پرورش شهر تهران منطقه ۴ تهران
 دبستان غیر دولتی دخترانه سرای دانش واحد رسالت
کلید سؤالات جمع بندی پایان ترم دوم سال تحصیلی ۱۴۰۲ - ۱۴۰۱

نام درس: نام دبیر: شاهی
 تاریخ امتحان: ۱۴۰۲/۰۲/۲۳
 ساعت امتحان: ۰۷:۳۰ صبح / عصر

ردیف	راهنمای تصحیح	محل مهر یا امضاء مدیر
۱	<p>از عدد ۷۲ تا ۸۲ یکی یکی بنویس.</p> <p>۷۲ ۷۳ ۷۴ ۷۵ ۷۶ ۷۷ ۷۸ ۷۹ ۸۰ ۸۱ ۸۲</p> <p>از عدد ۱۰ تا ۱۰۰ ده تا ده تا بنویس.</p> <p>۱۰ ۲۰ ۳۰ ۴۰ ۵۰ ۶۰ ۷۰ ۸۰ ۹۰ ۱۰۰</p>	
۲	<p>عددها را به حروف و حروف را به عدد بنویس.</p> <p>۱۵ پانزده بیست ۲۰ نود و نه ۹۹ ۵۱ پنجاه و یک</p>	
۳	<p>جواب جمع و تفریق را بنویس و بین آنها علامت مناسب بگذار.</p> <p> $۶۶ - ۶ = \boxed{۶۰}$ $\boxed{>}$ $۲۰ + ۵ = \boxed{۲۵}$ $۴۰ + ۱۰ = \boxed{۵۰}$ $\boxed{=}$ $۴۵ + ۵ = \boxed{۵۰}$ $۲۰ - ۲ = \boxed{۱۸}$ $\boxed{>}$ $۱۴ + ۳ = \boxed{۱۷}$ </p>	
۴	<p>زمانی که هر ساعت نشان می دهد را بنویس.</p> <div style="display: flex; justify-content: space-around; align-items: center;"> <div style="text-align: center;">  <p>ساعت یه ۱۰ و ۱۱ است.</p> </div> <div style="text-align: center;">  <p>ساعت ۵ است.</p> </div> </div>	

جاهای خالی را با عدد مناسب کامل کن.

۱۴ - ۲۱ - ۲۸ - ۳۵ - ۴۲ - ۴۹ - ۵۶
.....۵۵ - ۶۰ - ۶۵ - ۷۰ - ۷۵ - ۸۰ - ۸۵

۵

آناهیتا می خواست برای عید تخم مرغ رنگ کند. اول ۸ تخم مرغ رنگ کرد و بعد ۵ تخم مرغ دیگر را هم رنگ کرد. اما ۳ تا از تخم مرغ ها شکستند.


حالا او چند تخم مرغ رنگ شده دارد؟

۶

.....۱۰.....تخم مرغ رنگ شده دارد.

برای عدد ۳۰ شکل بکش، آن را در جدول بنویس و بعد این عدد را با حروف بنویس.

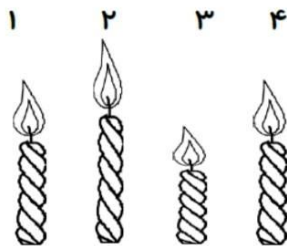
به حروف = سی



ده تایی	یکی
۳	۰

۷

در جاهای خالی عدد مناسب بنویس.



شمع شماره ۱ ۳ ... کوتاهترین شمع است.

شمع شماره ۲ ۲ بلندترین شمع است.

شمع شماره ۴ ۴ هم اندازه ی شمع شماره ۱ ... است.

۸

امضاء:

نام و نام خانوادگی مصحح :

جمع بارم : ۲۰ نمره