

نام و نام خانوادگی:

مقطع : دوم دبستان

تعداد صفحه سوال: ۳

جمهوری اسلامی ایران

اداره ی کل آموزش و پرورش شهر تهران

اداره ی آموزش و پرورش شهر تهران منطقه ۵ تهران

دبستان غیردولتی سرای دانش واحد پرسش

آزمون پایان ترم نوبت اول سال تمصیلی ۱۴۰۳-۱۴۰۲

نام درس: ریاضی



نام دبیر: خانم کرمی

تاریخ امتحان: ۱۴۰۲/۱۰/۰۹

ساعت امتحان: ۸:۰۰ صبح

مدت امتحان : ۷۵ دقیقه

محل مهر و امضا: مدیر

ردیف	سؤالات	بارم
۱	چند عدد دو رقمی می توان نوشت که یکان آن ۱ و ۳ و دهگان آن ۴ تا بیشتر از یکان باشد.	
۲	حاصل جمع را به دست آورید. $20 + 10 + 5 + 15 + 4 =$	
۳	حاصل را به کمک محور به دست آورید. $7 + 4 - 5 =$ 	
۴	تعداد خانه ها را از روش شمارش چندتا چندتا به دست آورید. 	

سارا ۴۲ صفحه از کتابش را در روز اول خواند. او در روز دوم ۱۷ صفحه ی دیگر خواند . او چند صفحه را خوانده است؟

اگر کتاب او ۷۶ صفحه داشته باشد. چند صفحه از کتاب را نخوانده است؟

۵

حاصل را به کمک تقریب به دست آورید.

$$۱۸ \longrightarrow$$


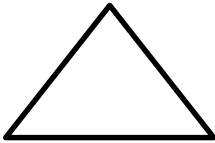
$$۷۴ \longrightarrow$$

$$+۳۲ \longrightarrow \underline{\hspace{2cm}}$$

$$-۵۷ \longrightarrow \underline{\hspace{2cm}}$$

۶

خط تقارن شکل های زیر را رسم کن.



۷

الگوی زیر را ادامه بده .

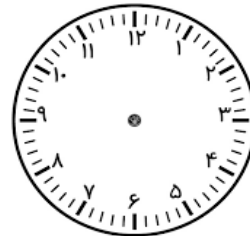
۱۸ و ۱۹ و ۲۱ و ۲۴ و و

۸

نیم ساعت بعد از ساعت نشان داده شده چه زمانی است ؟




نیم ساعت بعد



۹

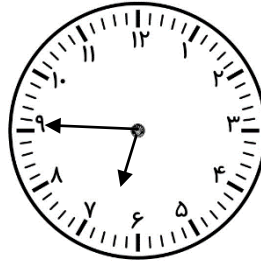
زمان را به دو روش اعلام کن.

۱۰



..... :

.....

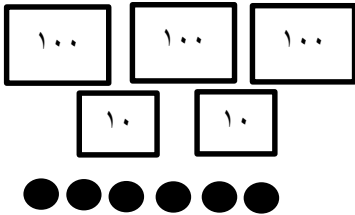


..... :

.....

باتوجه به شکل به سوالات زیر پاسخ بده.

۱۱



به حروف :

به عدد:


اگر آزاده ۲۶۵ ریال به بانک بدهد سکه صد ریالی و سکه ده ریالی و

۱۲

..... سکه ۱ ریالی از بانک می گیرد.

دخترم تقارن ۴ قسمتی زیر را کامل کن.

۱۳



صفحه ی ۱ از ۲

جمع بارم : ۲۰ نمره