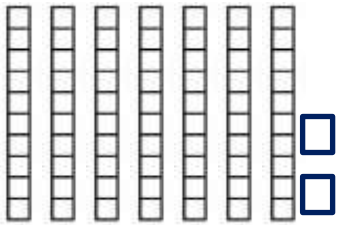





ردیف	سؤالات	نمره
۱	دسته های ده تایی درست کن سپس جای خالی را پر کنید.  <div style="display: flex; justify-content: space-around; align-items: center;"> <div style="text-align: center;"> <p>ده تایی</p>  <p>یکی</p> </div> <div style="text-align: center;"> <p>عدد :</p> <p>حروف :</p> </div> </div>	
۲	با کارت های ۲ و ۸ عددهای دو رقمی بسازید.	
۳	حاصل عبارت را با محور بدست آورید. $12 - 7 + 3 =$ 	
۴	الگوهای زیر را کامل کنید. $35 - 32 - 29 - \dots - \dots - \dots$ $40 - 42 - 44 - \dots - \dots - \dots$	
۵	جاهای خالی را با توجه به تفریق کامل کنید. $60 - 30 =$ <p>..... دسته ی ده تایی منهای دسته ی ده تایی می شود دسته ی ده تایی.</p> $10 + 40 =$ <p>..... دسته ی ده تایی به اضافه ی دسته ی ده تایی می شود دسته ی ده تایی.</p>	
۶	تقریب بزنید. الف) عدد ۲۲ به ۲۰ نزدیک تر است یا به ۳۰ ؟ ب) عدد ۴۶ به نزدیک تر است یا به ؟	
۷	با نمودار درختی همه ی عدد های دو رقمی را بنویسید که رقم یکان آن ها ۱ و ۹ و رقم دهگان آن ها ۵ و ۷ باشد. 	

جمع و تفریق زیر را به صورت فرآیندی حل کنید.

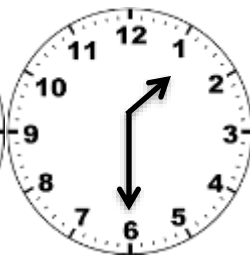
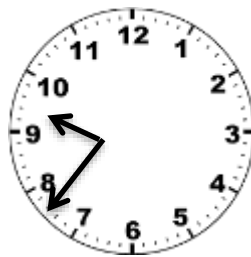
$$\begin{array}{r} 53 \\ +17 \\ \hline \end{array}$$

$$\begin{array}{r} 85 \\ -26 \\ \hline \end{array}$$

۸

کیان به پدرش در کارگاه نجاری کمک می کند. او در ماه گذشته ۱۶ میز و پدرش ۲۷ میز ساخت. آن ها روی هم چند میز ساخته اند؟ (به روش فرآیندی حل شود)

۹



زمان های خواسته شده را بنویسید.

یک ربع مانده به هفت

۱۰

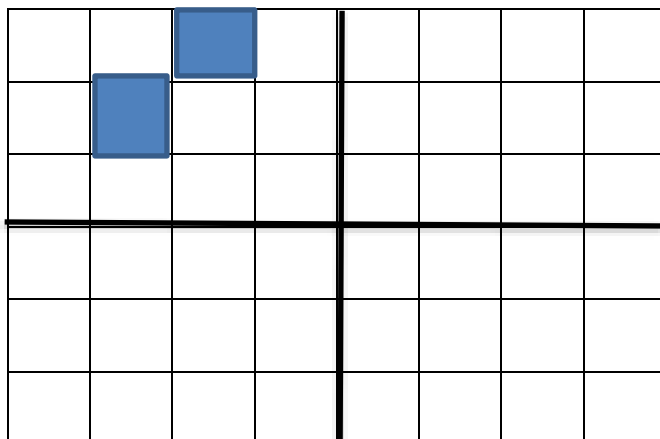


تفاوت و شباهت شکل های زیر را بنویسید.

تفاوت :

شباهت :

۱۱



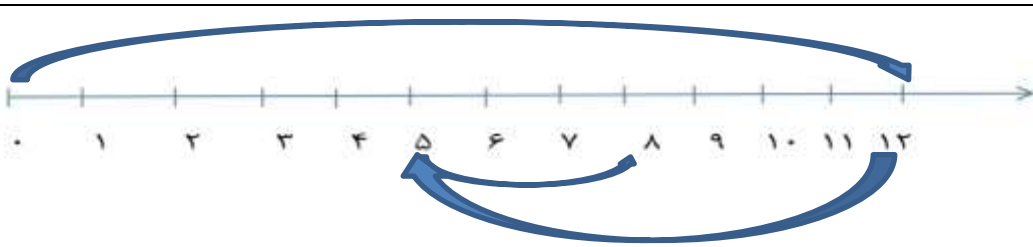
سه قسمت دیگر را با توجه به خط های تقارن

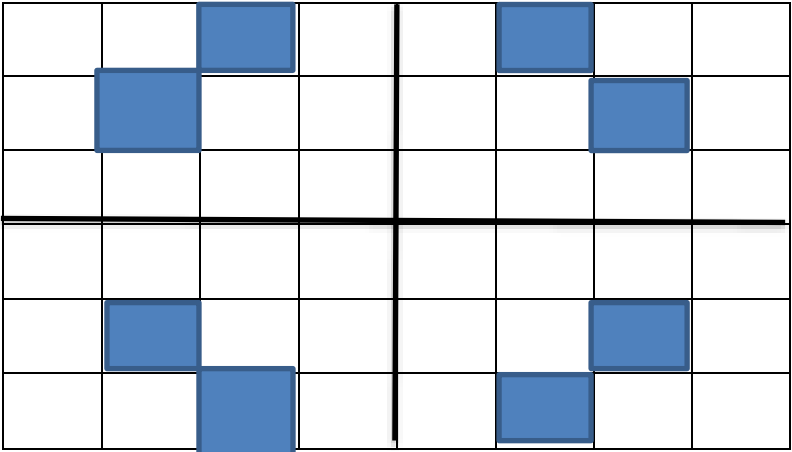
کامل کنید.

۱۳

نام درس: ریاضی دوم
 نام دبیر: هاجر ممیدی

اداره ی کل آموزش و پرورش شهر تهران
 اداره ی آموزش و پرورش شهر تهران منطقه ۲ تهران
 پیش دبستان و دبستان غیر دولتی پسرانه سرای دانش واحد مرزداران
کلید سؤالات ارزشیابی توصیفی نوبت اول سال تحصیلی ۱۴۰۱-۱۴۰۲

ردیف	راهنمای تصحیح	محل مهر یا امضاء مدیر
۱	عدد : ۷۲ حروف : هفتاد و دو	ده تایی یکی ۷ ۲
۲	۸۲-۲۸	
۳		۸
۴	20-23-26 46-48-50	
۵	۶دسته ی ده تایی منهای ۳ دسته ی ده تایی می شود ۳ دسته ی ده تایی $۶۰-۳۰=۳۰$ ۱ دسته ی ده تایی به اضافه ی ۴ دسته ی ده تایی می شود ۵ دسته ی ده تایی. $۱۰+۴۰=۵۰$	
۶	الف) ۲۰ ب) جای خالی اول و دوم $۵۰-۴۰$ جای خالی سوم ۵۰	
۷	۵۱-۵۹-۷۱-۷۹	
۸	$\begin{array}{r} 53 \\ +17 \\ \hline 63 \\ +7 \\ \hline 70 \end{array}$ $\begin{array}{r} 85 \\ -26 \\ \hline 65 \\ -6 \\ \hline 59 \end{array}$	
۹	$\begin{array}{r} 16 \\ +27 \\ \hline 36 \\ +7 \\ \hline 43 \end{array}$ $\begin{array}{r} 27 \\ +16 \\ \hline 37 \\ +6 \\ \hline 43 \end{array}$ ان ها روی هم ۴۳ میز ساخته اند	

<p>ساعت راست ۱:۳۰ - یک و نیم ساعت وسط ۹:۳۵</p> <p>ساعت چپ عقربه ی کوچک بین ۷ و ۶ - عقربه ی بزرگ روی عدد ۹ زمان : ۶:۴۵</p>	<p>۱۰</p>
<p>تفاوت: در شکل راست (۵ ضلعی) اندازه ی ضلع ها برابر نیست اما در شکل چپ اندازه ی همه ی ضلع ها برابر است</p> <p>شباهت : هر دو ۵ ضلع و ۵ گوشه دارند.</p>	<p>۱۱</p>
<div style="text-align: center;">  </div>	<p>۱۲</p>
<p>نام و نام خانوادگی مصحح: هاجر مجیدی امضاء:</p>	