

نام و نام خانوادگی: .....  
 مقطع و رشته: .....  
 نام پدر: .....  
 شماره داوطلب: .....  
 تعداد صفحه سؤال: ۲ صفحه

جمهوری اسلامی ایران  
 اداره ی کل آموزش و پرورش شهر تهران  
 اداره ی آموزش و پرورش شهر تهران منطقه ۴ تهران  
 دبستان غیردولتی دخترانه سرای دانش واحد رسالت  
 آزمون پایان ترم نوبت اول سال تحصیلی ۱۴۰۱-۱۴۰۰

نام درس: ریاضی  
 نام دبیر: فاطمه بزرگی  
 تاریخ امتحان: ۱۸ / ۱۰ / ۱۴۰۰  
 ساعت امتحان: ..... : ۸ صبح / عصر  
 مدت امتحان: ۴۵ دقیقه

محل مهر و امضاء مدیر	نمره به عدد:	نمره به حروف:	نمره به عدد:	نمره به حروف:
	نام دبیر:	تاریخ و امضاء:	نام دبیر:	تاریخ و امضاء:

ردیف	سؤالات	نام
------	--------	-----

جدول شگفت انگیز زیر را کامل کنید.

۱	۴		۳	۲	۵
۲	۵	۳		۴	۶
۶	۱	۲	۵		۴
۵	۳	۴	۲	۶	
۴		۱	۶	۵	۳
	۶	۵	۴	۱	۲

عدد هر دسته را بنویسید.








۲




۲

جدول زیر را کامل کنید.

مربع های پایین خط را طوری رنگ کن که مانند شکل های سمت بالا، دو نیمه مثل هم به وجود آید.






۳



۴

شکل های سمت چپ و راست روی هم چند تا می شود؟ با چوب خط و عدد بنویسید.

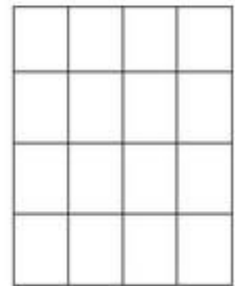
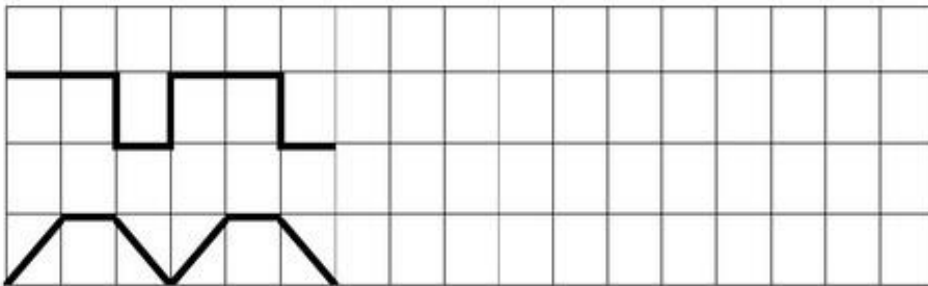
۲



۵

الگوهای خطی را ادامه بدهید. سپس تکرار شونده را سمت راست بکشید.


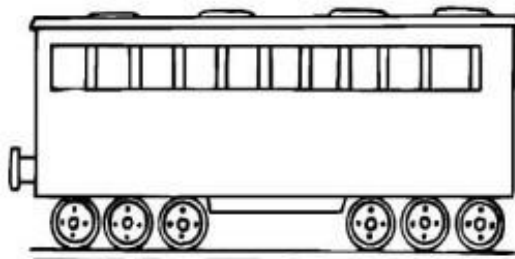
۴



۶

اندازه ی هر شکل چندتا فلش است؟ عدد آن بنویسید.

۲



۷



اداره ی کل آموزش و پرورش شهر تهران  
 اداره ی آموزش و پرورش شهر تهران منطقه ۴ تهران  
 دبستان غیر دولتی دخترانه سرای دانش واحد رسالت  
**کلید** سؤالات میان ترم اول سال تحصیلی ۱۴۰۱-۱۴۰۰

نام درس: ریاضی  
 نام دبیر: فاطمه بزرگی  
 تاریخ امتحان: ... / ۱۰ / ۱۴۰۰  
 ساعت امتحان: ۸ صبح / عصر  
 مدت امتحان: ۴۵ دقیقه

	محل مهر یا امضاء مدیر	راهنمای تصحیح	ردیف
--	-----------------------	---------------	------


جدول شگفت انگیز زیر را کامل کنید.

۱	۴	۶	۳	۲	۵
۲	۵	۳	۱	۴	۶
۶	۱	۲	۵	۳	۴
۵	۳	۴	۲	۶	۱
۴	۲	۱	۶	۵	۳
۳	۶	۵	۴	۱	۲


۳

۱

عدد هر دسته را بنویسید.



۷



۵

۲


۲

جدول زیر را کامل کنید.


۴

۳



مربع های پایین خط را طوری رنگ کن که مانند شکل های سمت بالا، دو نیمه مثل هم به وجود آید.



۳


۴

شکل های سمت چپ و راست روی هم چند تا می شود؟ با چوب خط و عدد بنویسید.

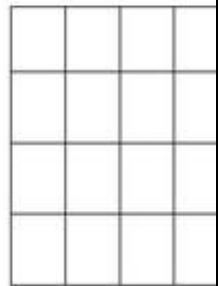
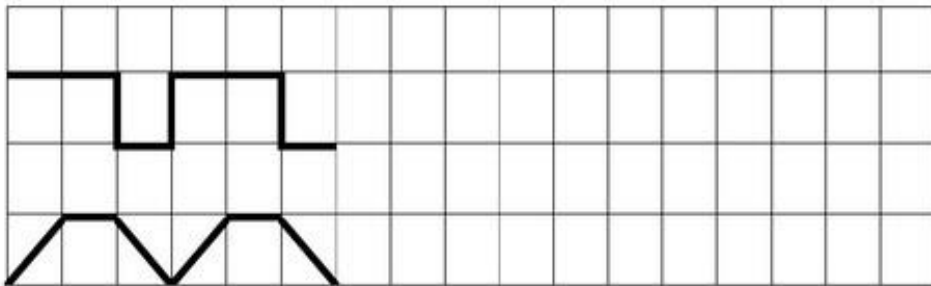


۲

۵



الگوهای خطی را ادامه بدهید. سپس تکرار شونده را سمت راست بکشید.



۴


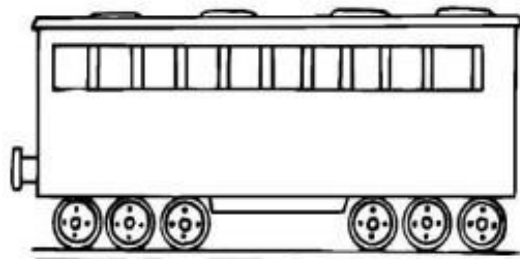
۶

اندازه ی هر شکل چندتا فلش است؟ عدد آن بنویسید.



۴

۲



۵

۷