




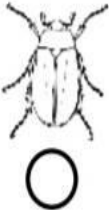












نام و نام خانوادگی:
 مقطع و رشته:
 نام پدر:
 شماره داوطلب:
 تعداد صفحه سؤال: ۲ صفحه

جمهوری اسلامی ایران
 اداره ی کل آموزش و پرورش شهر تهران
 اداره ی آموزش و پرورش شهر تهران منطقه ۴ تهران
 دبستان غیردولتی دخترانه سرای دانش واحد رسالت
 جمع بندی میان ترم دوم سال تحصیلی ۱۴۰۲ - ۱۴۰۱

نام درس: علوم
 نام دبیر: شاهی
 تاریخ امتحان:/...../۱۴۰۲
 ساعت امتحان: ۳۰ : ۰۷ صبح / عصر
 مدت امتحان: ۹۰ دقیقه

ردیف	سؤالات	نمره به عدد:	نمره به حروف:	محل مهر و امضا: مدیر
		نمره به عدد:	نمره به حروف:	نام دبیر:
۱	به سایه ی تصویر نگاه کن و خورشید را بکش!			
۲	کدام تصویر گرمای بیشتری دارد؟			
۳	نام قسمت های گیاه را رنگ کن.			
۴	کدام جسم در آب فرو می رود؟			
۵	کدام یک از اجسام زیر جذب آهن ربا نمی شود؟			

	<p>کدام حیوان گوشت خوار است؟</p> <div style="display: flex; justify-content: space-around; align-items: center;"> <div style="text-align: center;"> <input type="radio"/></div> <div style="text-align: center;"> <input type="radio"/></div> <div style="text-align: center;"> <input type="radio"/></div> <div style="text-align: center;"> <input type="radio"/></div> </div>	۶
	<p>کدام جانوران برای انسان مشکل ساز هستند؟</p> <div style="display: flex; justify-content: space-around; align-items: center;"> <div style="text-align: center;"> <input type="radio"/></div> <div style="text-align: center;"> <input type="radio"/></div> <div style="text-align: center;"> <input type="radio"/></div> <div style="text-align: center;"> <input type="radio"/></div> </div>	۷
	<p>کدام وسایل زیر هوا را آلوده می کنند؟</p> <div style="display: flex; justify-content: space-around; align-items: center;"> <div style="text-align: center;"> <input type="radio"/></div> <div style="text-align: center;"> <input type="radio"/></div> <div style="text-align: center;"> <input type="radio"/></div> <div style="text-align: center;"> <input type="radio"/></div> </div>	۸
	<p>کدام تصویر به هوا احتیاج دارد؟</p> <div style="display: flex; justify-content: space-around; align-items: center;"> <div style="text-align: center;"> <input type="radio"/></div> <div style="text-align: center;"> <input type="radio"/></div> <div style="text-align: center;"> <input type="radio"/></div> <div style="text-align: center;"> <input type="radio"/></div> </div>	۹



اداره ی کل آموزش و پرورش شهر تهران
 اداره ی آموزش و پرورش شهر تهران منطقه ۴ تهران
 دبستان غیر دولتی دخترانه سرای دانش واحد رسالت
کلید سؤالات جمع بندی میان ترم دوم سال تحصیلی ۱۴۰۲ - ۱۴۰۱

نام درس:

نام دبیر:



تاریخ امتحان:/...../۱۴۰۲

ساعت امتحان: ۷:۳۰ صبح / عصر

مدت امتحان: ۹۰ دقیقه



ردیف	راهنمای تصحیح	محل مهر یا امضاء مدیر
۱	به سایه ی تصویر نگاه کن و خورشید را بکش!	
۲	کدام تصویر گرمای بیشتری دارد؟	<input type="radio"/> <input type="radio"/> <input type="radio"/> <input type="radio"/>
۳	نام قسمت های گیاه را رنگ کن.	<input type="radio"/> بدنه <input type="radio"/> ریشه <input type="radio"/> ساقه <input type="radio"/> گل <input type="radio"/> برگ
۴	کدام جسم در آب فرو می رود؟	<input type="radio"/> بادکنک <input type="radio"/> کشتی <input type="radio"/> گیره فلزی <input type="radio"/> مداد
۵	کدام یک از اجسام زیر جذب آهن ربا نمی شود؟	<input type="radio"/> <input type="radio"/> <input type="radio"/> <input type="radio"/>

کدام حیوان گوشت خوار است؟



۶

کدام جانوران برای انسان مشکل ساز هستند؟




۷

کدام وسایل زیر هوا را آلوده می کنند؟



۸

کدام تصویر به هوا احتیاج دارد؟



۹

صفحه ۲ از ۲

امضاء:

نام و نام خانوادگی مصحح:

جمع بارم : ۲۰ نمره