

نام درس: ریاضی

نام دبیر: حنا جزیان

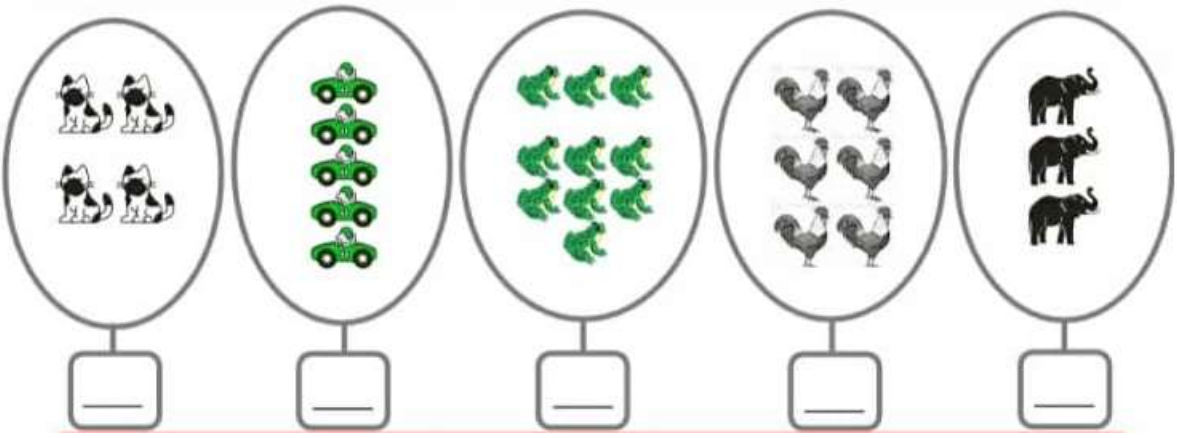
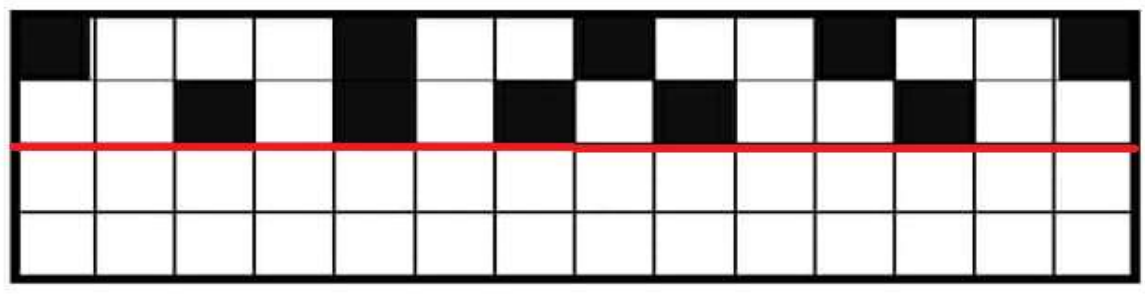

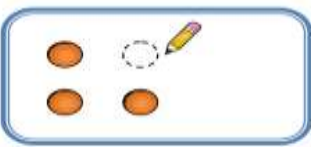

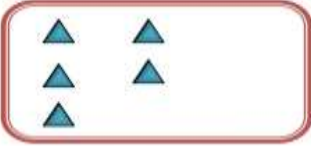
جمهوری اسلامی ایران

اداره ی کل آموزش و پرورش شهر تهران
اداره ی آموزش و پرورش شهر تهران منطقه ۲ تهران
دبستان غیردولتی پسرانه سرای دانش واحد مرزداران
ارزشیابی توصیفی نیمسال اول سال تحصیلی ۱۴۰۱-۱۴۰۰

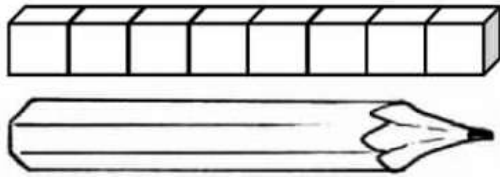
نام و نام خانوادگی:

مقطع و رشته: اول

تعداد صفحه سؤال: ۴ صفحه

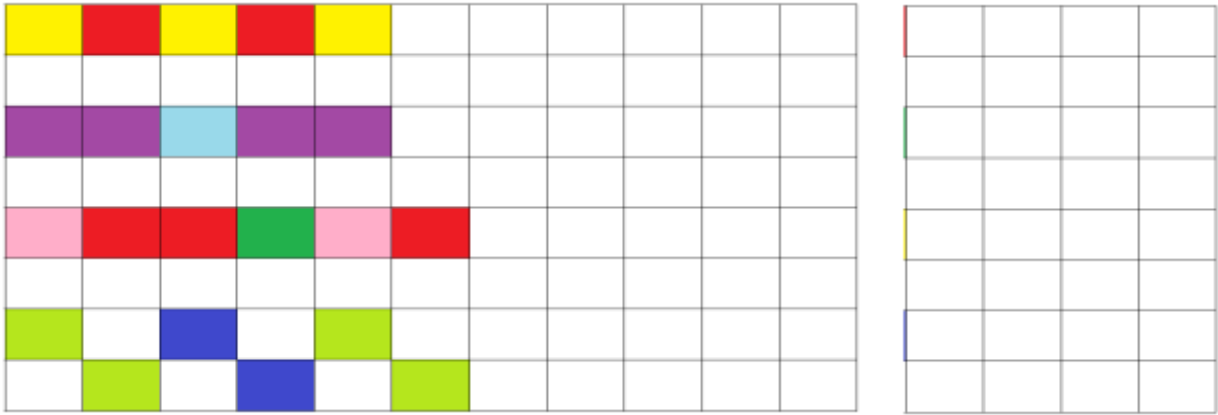
نام	سوالات	نمره
	<p>۱- پسر عزیزم عدد هر دسته را بنویس و دور بزرگترین عدد خط بکش:</p> 	
	<p>۲- عزیزم طرف دیگر شکل را کامل کن:</p> 	
	<p>۳- عزیزم، در سمت راست آنقدر شکل بکش که تعداد آن با دسته سمت چپ برابر شود، سپس بگو در هر ردیف چند شکل کشیده ای؟</p> <p>۱-  </p> <p>۲-  </p>	

۴- نازنینم ، اندازه مداد برابر با چند چینه است ؟ با عدد و چوب خط نشان دهید :




.....

۵- دلبندم ، الگوی شطرنجی زیر را تکمیل کن و الگوی تکرار شونده را مشخص کن :




۶- عزیزم ، جمع مربوط به شکل زیر را بنویس :



$$\dots + \dots = \dots$$

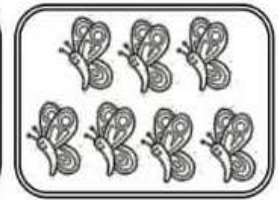

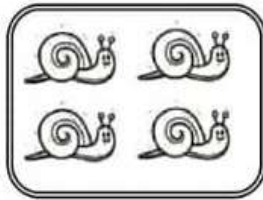
۷- پسر عزیزم ، عدد مربوط به هر دسته را بنویس و حاصل جمع را با عدد و چوب خط نشان بده :



۸- پسر پرتلاشم جدول نظام دار زیر تکمیل کن :

۷	

۹- پسر عزیزم ، تعداد هر تصویر را نوشته و علامت مناسب قرار بده :



○ □ ○

○ □ ○

۱۰- نازنینم ، جدول شگفت انگیز زیر را با اعداد مناسب تکمیل کن :

۸	۵	۷	۴	۳			۲	۹
۳		۱	۹	۵	۲	۴	۷	۸
	۴	۲	۶		۸	۳	۱	۵
۴	۱	۵	۲	۶	۷	۹	۸	۳
۲	۹	۶	۵	۸	۳	۷	۴	۱
۷	۳			۹	۴		۵	۶
۱	۲			۴	۶	۵	۳	۷
۵	۸	۳	۷	۲	۹	۱	۶	۴
۶	۷	۴	۳	۱			۹	۲

۱۱- دلبندم ، شکل های سمت چپ و سمت راست چندتا است ؟ عدد مناسب را بنویس و با چوب خط نشان بده :


۱- 


۲- 


۳- 

۱۲- پسر ، اگر به تعداد شکل های سمت راست از شکل های سمت چپ برداریم چند شکل باقی میماند ؟ عدد آن

را بنویس :

۱- 










۲- 

۳- 

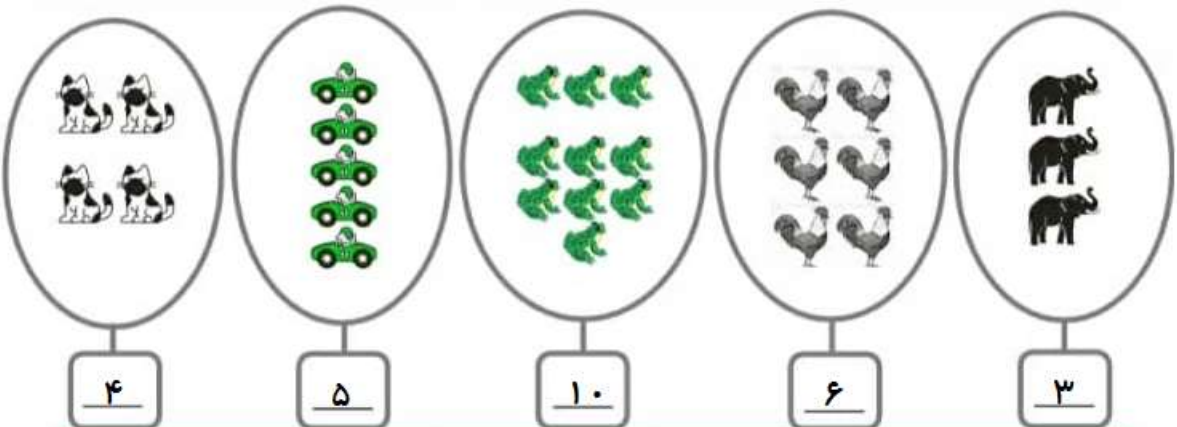
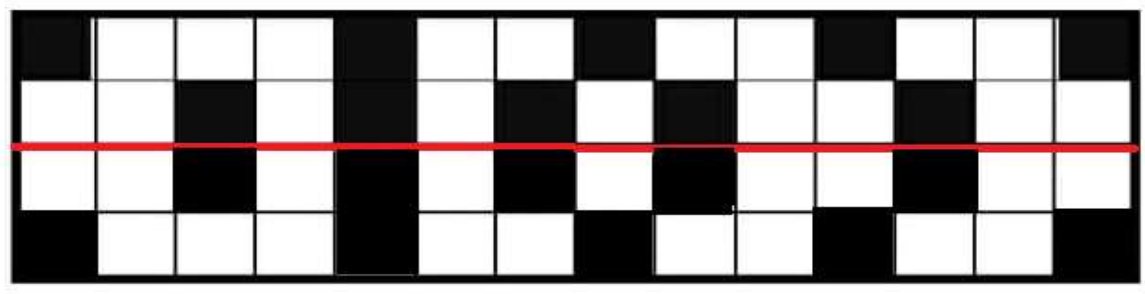



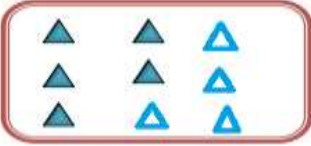
۱۳- دلبندم ، دور سومین توپ از سمت راست یک خط بکش :



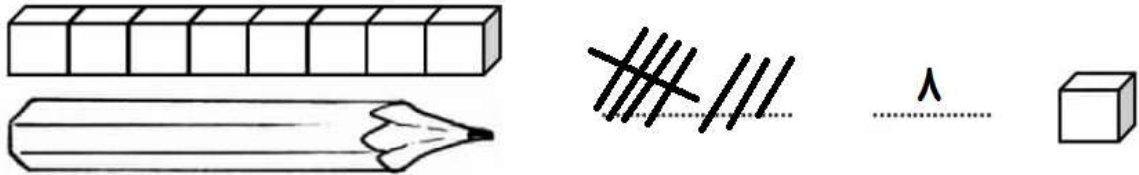
۱۴- عزیزم جدول را کامل کن :




نام	سوالات	نمره
	<p>۱- پسر عزیزم عدد هر دسته را بنویس و دور بزرگترین عدد خط بکش :</p> 	
	<p>۲- عزیزم طرف دیگر شکل را کامل کن :</p> 	
	<p>۳- عزیزم ، در سمت راست آنقدر شکل بکش که تعداد آن با دسته سمت چپ برابر شود ، سپس بگو در هر ردیف چند شکل کشیده ای ؟</p> <p>۱-   ۳</p> <p>۲-   ۴</p>	


۴- نازنینم ، اندازه مداد برابر با چند چینه است ؟ با عدد و چوب خط نشان دهید :



۵- دلبندم ، الگوی شطرنجی زیر را تکمیل کن و الگوی تکرار شونده را مشخص کن :




۶- عزیزم ، جمع مربوط به شکل زیر را بنویس :



$$..۸. + ..۵. = ..۱۳.$$

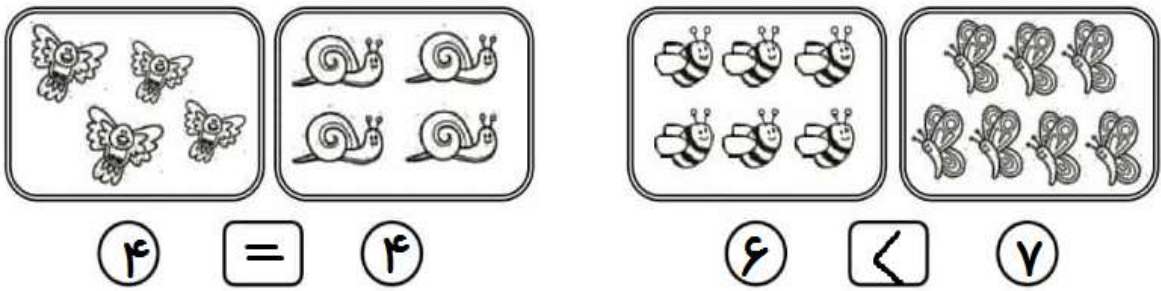
۷- پسر عزیزم ، عدد مربوط به هر دسته را بنویس و حاصل جمع را با عدد و چوب خط نشان بده :



۸- پسر پر تلاشم جدول نظام دار زیر تکمیل کن :

۷	
۰	۷
۱	۶
۲	۵
۳	۴
۴	۳
۵	۲
۶	۱
۷	۰

۹- پسر عزیزم ، تعداد هر تصویر را نوشته و علامت مناسب قرار بده :



۱۰- نازنینم ، جدول شگفت انگیز زیر را با اعداد مناسب تکمیل کن :

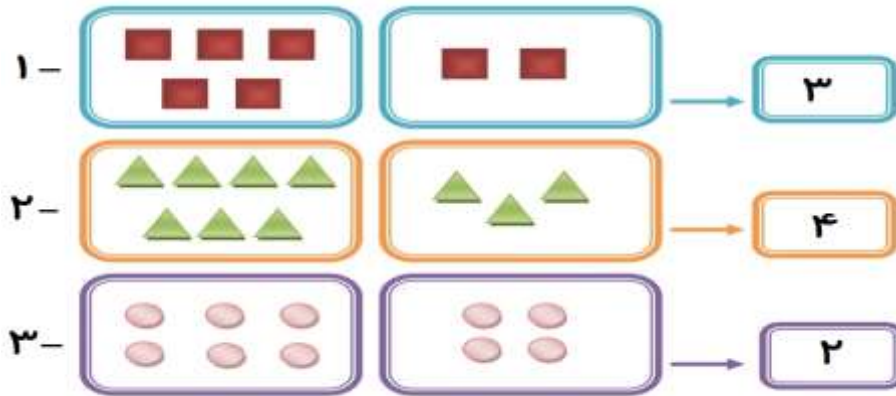
۸	۵	۷	۴	۳	۱	۶	۲	۹
۳	۶	۱	۹	۵	۲	۴	۷	۸
۹	۴	۲	۶	۷	۸	۳	۱	۵
۴	۱	۵	۲	۶	۷	۹	۸	۳
۲	۹	۶	۵	۸	۳	۷	۴	۱
۷	۳	۸	۱	۹	۴	۲	۵	۶
۱	۲	۹	۸	۴	۶	۵	۳	۷
۵	۸	۳	۷	۲	۹	۱	۶	۴
۶	۷	۴	۳	۱	۵	۸	۹	۲

۱۱- دلبندم ، شکل های سمت چپ و سمت راست چندتا است ؟ عدد مناسب را بنویس و با چوب خط نشان بده :



۱۲- پسر ، اگر به تعداد شکل های سمت راست از شکل های سمت چپ برداریم چند شکل باقی میماند ؟ عدد آن

را بنویس :



۱۳- دلبندم ، دور سومین توپ از سمت راست یک خط بکش :



۱۴- عزیزم جدول را کامل کن :

