

نام و نام خانوادگی:

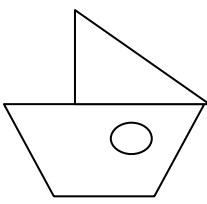
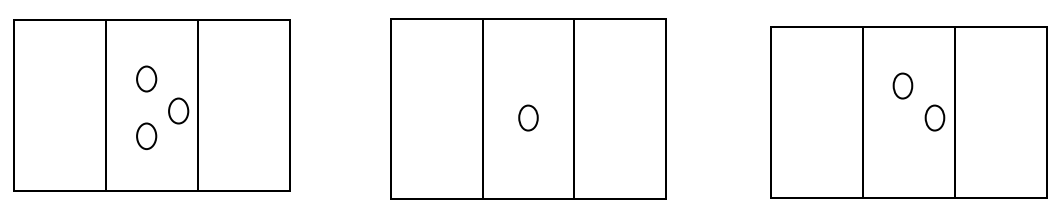

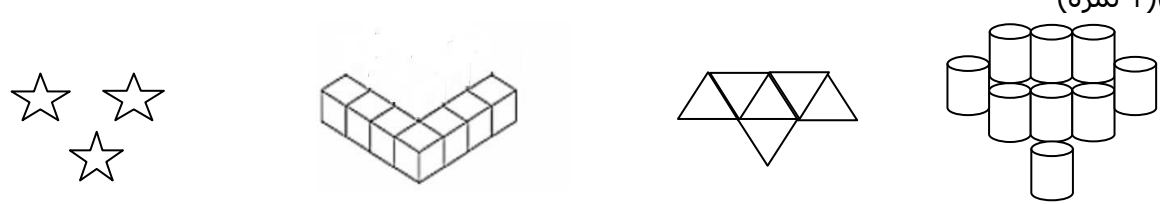

پایه:

نام پدر:

تعداد صفحه سؤال: 2 صفحه

جمهوری اسلامی ایران
اداره ی کل آموزش و پرورش شهر تهران
اداره ی آموزش و پرورش شهر تهران منطقه 4 تهران
دبستان غیردولتی دخترانه سرای دانش واحد رسالت
جمع بندی میان ترم نوبت اول سال تحصیلی 1401 - 1402

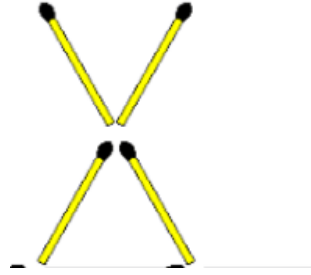
نام درس :
ریاضی
نام دبیر:
تاریخ امتحان: 1401/09/12
ساعت امتحان: 07:30 صبح / عصر
مدت امتحان : 90 دقیقه

محل مهر و امضاء مدیر		نمره به عدد: نمره به حروف:	
		نمره به عدد:	نمره به حروف:
نام دبیر:		تاریخ و امضاء:	
		نام دبیر:	تاریخ و امضاء:
سؤالات	نمره		
۱. دخترم مانند نمونه با شابلون بکش (75/ نمره)			
۲. یکی قبل و یکی بعد از شکل های هر خانه بکش (از چپ به راست) (۱.۵ نمره)			
۳. به تعداد لبه های هر شکل از گردی ها رنگ کن (۵/۰ نمره)			
۴. با استفاده از خط کش تعداد هر کدام از شکل ها را به تعداد انگشتان مناسب وصل کن (هر خط با یک رنگ) (۲ نمره)			

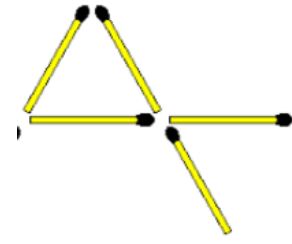
۵. هر دسته از چند چوب کبریت تشکیل شده است ، از گردی ها رنگ کن
(۷۵/نمره)



○ ○ ○ ○ ○ ○


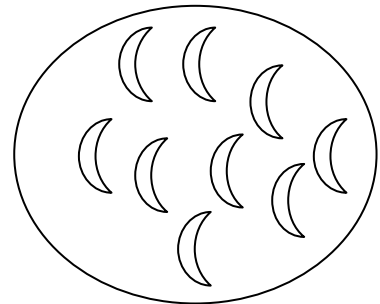
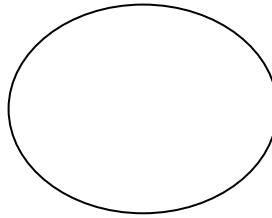
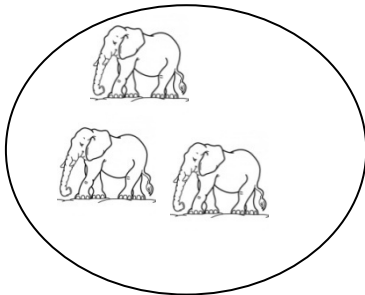


○ ○ ○ ○ ○ ○

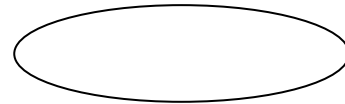

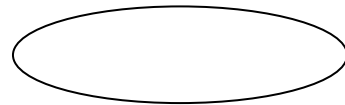





○ ○ ○ ○ ○ ○


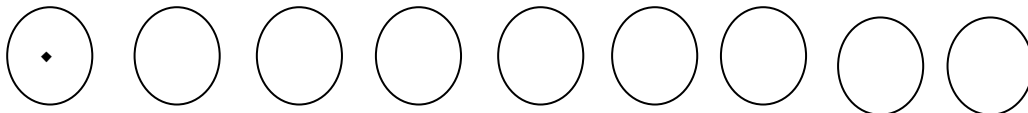
۶. عدد هر دسته را بنویس .
(۱۰۵/نمره)







۷. دخترم با کشیدن چوب خط حساب کن شکل های سمت چپ و راست با هم چندتا می شود ؟



۸. اعداد را به ترتیب بنویس



۹ - به تعداد عدد نوشته شده گردی بکش



۵

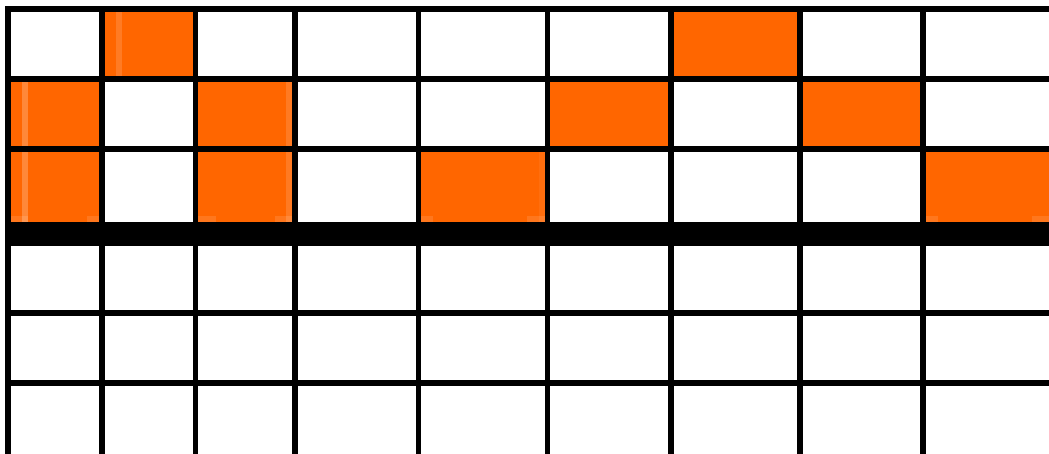
۶

۹

۱۰. جدول شگفت انگیز را انجام بده

۱	۴		۳	۲	۵
۲	۵	۳		۴	۶
۶	۱	۲	۵		۴
۵	۳	۴	۲	۶	
	۶	۱	۴	۵	۲
۴		۵	۶	۱	۳

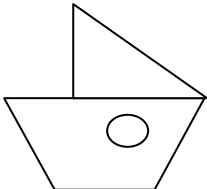
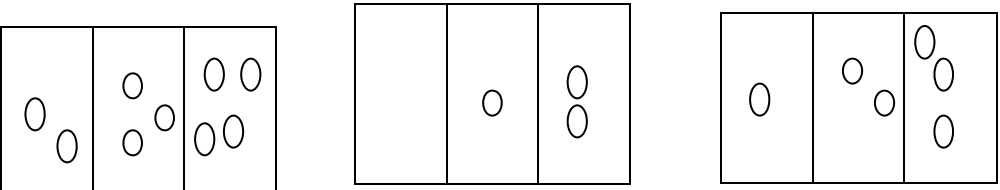

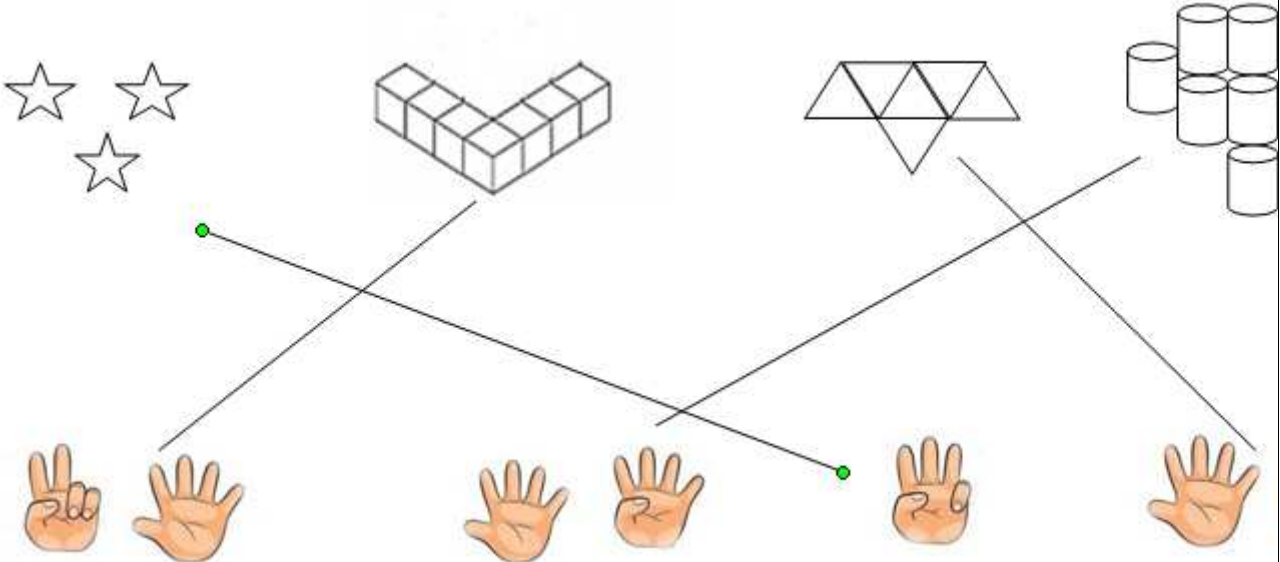
۱۱. نیمه دیگر شکل زیر را رنگ کن



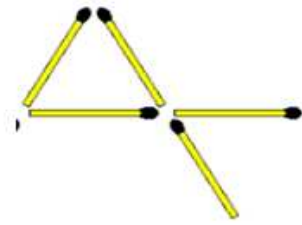
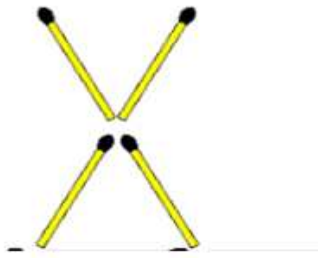
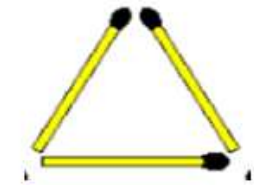


اداره ی کل آموزش و پرورش شهر تهران
 اداره ی آموزش و پرورش شهر تهران منطقه 4 تهران
 دبستان غیر دولتی دخترانه سرای دانش واحد رسالت
کلید سوالات جمع بندی میان ترم نوبت اول سال تحصیلی 1402 - 1401


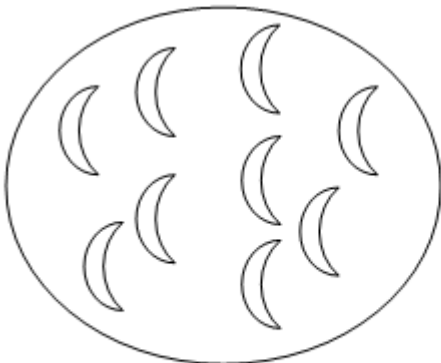

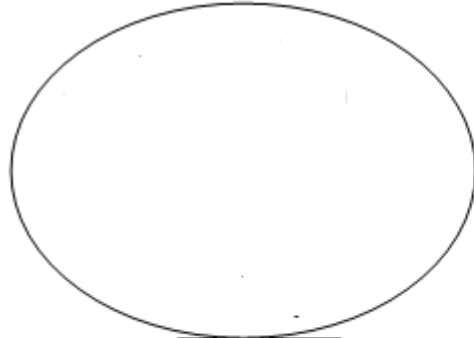


نام درس:
 نام دبیر:
 تاریخ امتحان: 1401/09/
 ساعت امتحان: 07:30 صبح
 مدت امتحان: 90 دقیقه

محل مهر یا امضاء مدیر	راهنمای تصحیح	ردیف
		1
		2
		3
		4

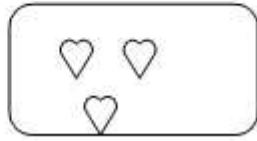




5

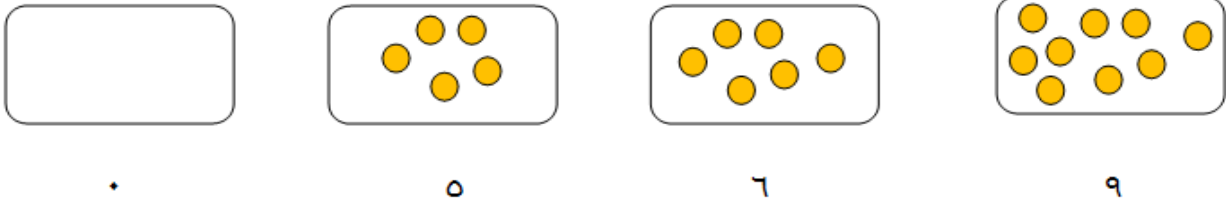
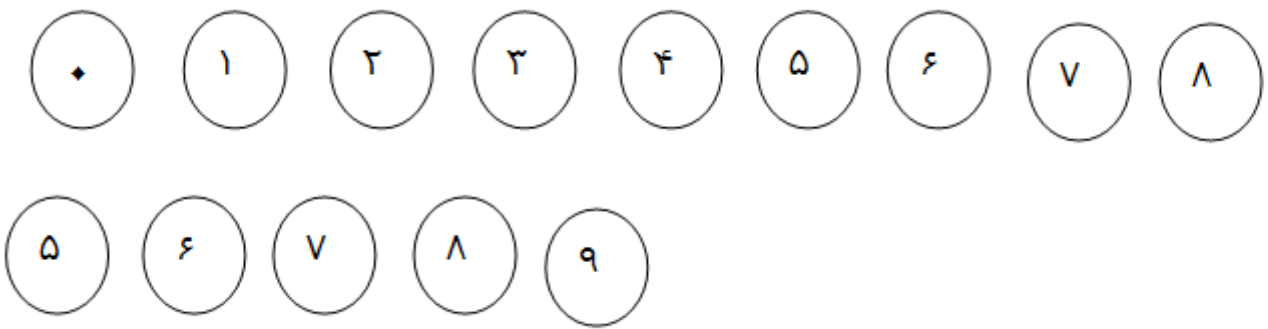


6



7





1	4	6	3	2	5
2	5	3	1	4	6
6	1	2	5	3	4
5	3	4	2	6	1
3	6	1	4	5	2
4	2	5	6	1	3

