


سؤالات


شماره

الگو زیر را کامل کن و الگو تکرار شونده را در ستون سمت راست رسم کن.



۱

تعداد هر دسته را با عدد و چوب خط نشان بده.



۲

جدول شگفت انگیز زیر را کامل کن.

۸	۹	۳	۴	۲	۱	۷	۶	۵
۱		۶	۳	۵	۸	۹	۲	۴
	۴	۵	۶	۷	۹	۸	۳	۱
۶	۳	۴	۹	۸	۲	۱	۵	
۷	۲	۸	۵	۱	۴	۶		۳
۹	۵	۱	۷	۳	۶		۴	۸
۴	۸	۷	۲	۶		۵	۱	۹
۵		۹	۱		۷	۳	۸	۲
۳	۱	۲		۹	۵	۴	۷	۶

۳

بین دو عدد علامت مناسب (< = >) بگذار.

۴

۹.....۴

۸.....۸




۵.....۷

۳.....۱

۶.....۶


تمام انگشتان دست را باز کن به تعداد شکل ها از انگشتان خود ببند به تعداد انگشت باقی مانده چوب خط

بزن.



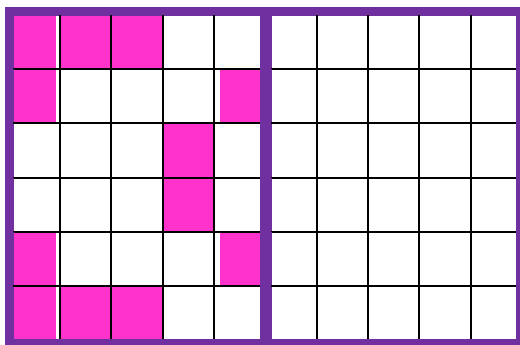
۵

برای شکل های زیر عبارت جمع را بنویس.



۶

شکل را طوری کامل کن که دو نیمه مثل هم شود.



۷

حاصل عبارت های زیر را بنویس.

$$۷ + ۱ =$$

$$۳ + ۲ =$$

$$۵ + ۲ =$$

$$۴ + ۱ =$$

۸



اداره ی کل آموزش و پرورش شهر تهران
 اداره ی آموزش و پرورش شهر تهران منطقه ۷ تهران
 دبستان غیر دولتی پسرانه سرای دانش واحد شریعتی
کلید سؤالات پایان ترم نوبت اول سال تمصیلی ۱۴۰۲-۱۴۰۱


نام درس: ریاضی
 نام دبیر: فانم گلشید نفتی
 تاریخ امتحان: ۲۰ / ۱۰ / ۱۴۰۱
 ساعت امتحان: 8:00 صبح / عصر
 مدت امتحان: ۷۰ دقیقه

ردیف	راهنمای تصحیح	محل مهر یا امضاء مدیر																																																																																	
۱																																																																																			
۲																																																																																			
۳	<table border="1" style="border-collapse: collapse; text-align: center;"> <tr><td>۸</td><td>۹</td><td>۳</td><td>۴</td><td>۲</td><td>۱</td><td>۷</td><td>۶</td><td>۵</td></tr> <tr><td>۱</td><td>۷</td><td>۶</td><td>۳</td><td>۵</td><td>۸</td><td>۹</td><td>۲</td><td>۴</td></tr> <tr><td>۲</td><td>۴</td><td>۵</td><td>۶</td><td>۷</td><td>۹</td><td>۸</td><td>۳</td><td>۱</td></tr> <tr><td>۶</td><td>۳</td><td>۴</td><td>۹</td><td>۸</td><td>۲</td><td>۱</td><td>۵</td><td>۷</td></tr> <tr><td>۷</td><td>۲</td><td>۸</td><td>۵</td><td>۱</td><td>۴</td><td>۶</td><td>۹</td><td>۳</td></tr> <tr><td>۹</td><td>۵</td><td>۱</td><td>۷</td><td>۳</td><td>۶</td><td>۲</td><td>۴</td><td>۸</td></tr> <tr><td>۴</td><td>۸</td><td>۷</td><td>۲</td><td>۶</td><td>۳</td><td>۵</td><td>۱</td><td>۹</td></tr> <tr><td>۵</td><td>۶</td><td>۹</td><td>۱</td><td>۴</td><td>۷</td><td>۳</td><td>۸</td><td>۲</td></tr> <tr><td>۳</td><td>۱</td><td>۲</td><td>۸</td><td>۹</td><td>۵</td><td>۴</td><td>۷</td><td>۶</td></tr> </table>	۸	۹	۳	۴	۲	۱	۷	۶	۵	۱	۷	۶	۳	۵	۸	۹	۲	۴	۲	۴	۵	۶	۷	۹	۸	۳	۱	۶	۳	۴	۹	۸	۲	۱	۵	۷	۷	۲	۸	۵	۱	۴	۶	۹	۳	۹	۵	۱	۷	۳	۶	۲	۴	۸	۴	۸	۷	۲	۶	۳	۵	۱	۹	۵	۶	۹	۱	۴	۷	۳	۸	۲	۳	۱	۲	۸	۹	۵	۴	۷	۶	
۸	۹	۳	۴	۲	۱	۷	۶	۵																																																																											
۱	۷	۶	۳	۵	۸	۹	۲	۴																																																																											
۲	۴	۵	۶	۷	۹	۸	۳	۱																																																																											
۶	۳	۴	۹	۸	۲	۱	۵	۷																																																																											
۷	۲	۸	۵	۱	۴	۶	۹	۳																																																																											
۹	۵	۱	۷	۳	۶	۲	۴	۸																																																																											
۴	۸	۷	۲	۶	۳	۵	۱	۹																																																																											
۵	۶	۹	۱	۴	۷	۳	۸	۲																																																																											
۳	۱	۲	۸	۹	۵	۴	۷	۶																																																																											
۴	$۹ \dots > \dots ۴$ $۸ \dots = \dots ۸$ $۵ \dots < \dots ۷$ $۳ \dots > \dots ۱$ $۶ \dots = \dots ۶$																																																																																		
۵																																																																																			

$$6 + 3 = 9$$

$$3 + 2 = 5$$

۶



۷

$$7 + 1 = 8$$

$$3 + 2 = 5$$

$$5 + 2 = 7$$

$$4 + 1 = 5$$

۸

امضاء:

نام و نام خانوادگی مصحح :