

نام و نام خانوادگی:

مقطع و رشته: دبستان/پایه دوم

نام کلاس: دوم پیام و شهریار

شماره داوطلب:

تعداد صفحه سؤال: ۴ صفحه

جمهوری اسلامی ایران

اداره ی کل آموزش و پرورش شهر تهران

اداره ی آموزش و پرورش شهر تهران منطقه ۲ تهران

دبستان غیردولتی پسرانه سرای دانش واحد مرزداران

آزمون پایانی نوبت دوم سال تحصیلی ۱۴۰۳-۱۴۰۲

www.sarayedanesh.com

021-2936

نام درس: ریاضی



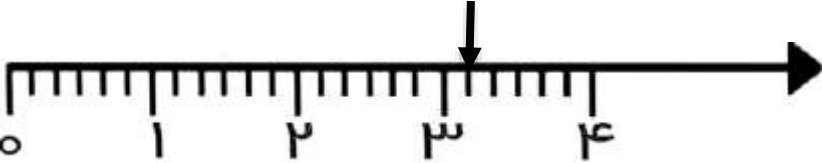
نام دبیر: خانم میرزائی و عربی

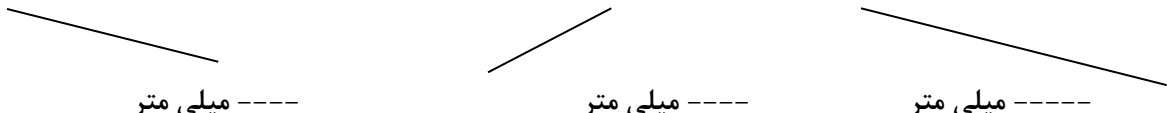
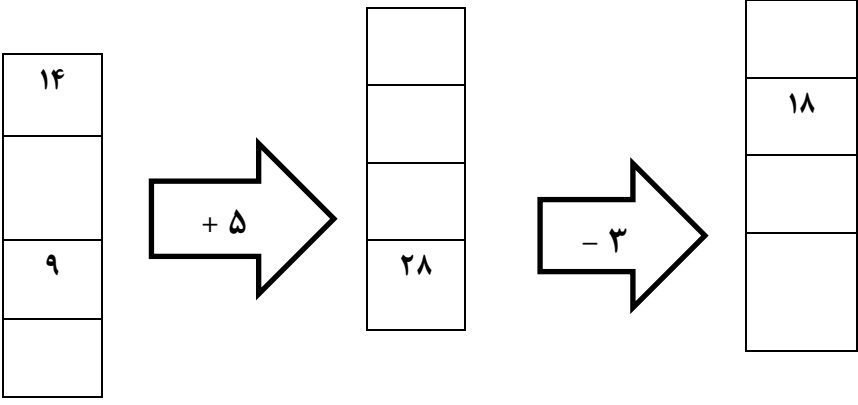
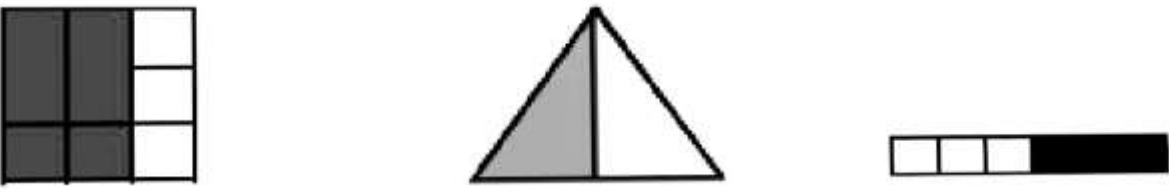
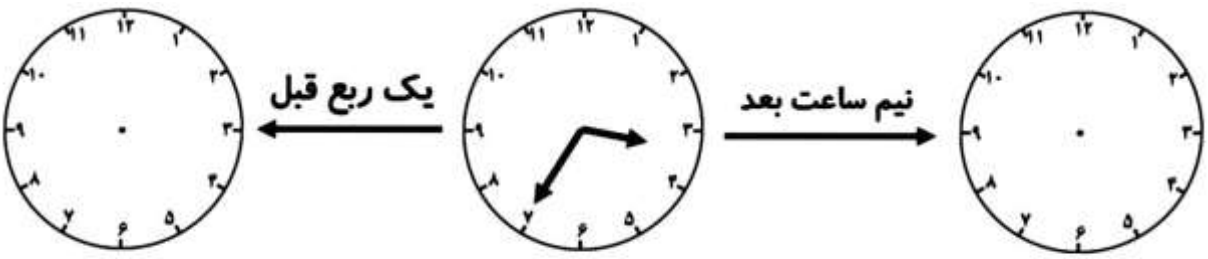
تاریخ امتحان: ۱۴۰۳/۰۲/۲۹

ساعت امتحان: ۰۵ : ۰۸ صبح / عصر

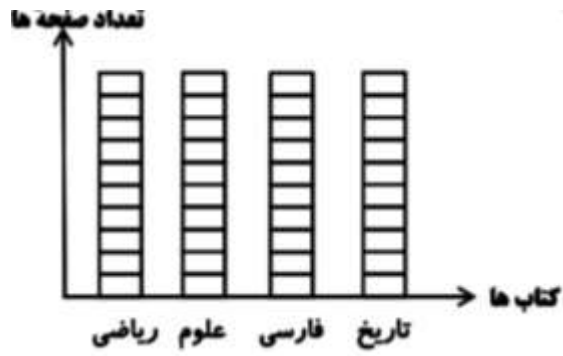
مدت امتحان: ۱۲۰ دقیقه

محل مهر و امضاء مدیر	نمره به عدد:	نمره به حروف:
	نمره تجدید نظر به عدد:	نمره به حروف:
نام دبیر:	تاریخ و امضاء:	نام دبیر:
نام	تاریخ و امضاء:	نام
سؤالات	سؤالات	سؤالات
۱	جاهای خالی را با کلمات یا اعداد مناسب کامل کنید. الف) ۱۷۶ میلی متر ----- سانتی متر و ----- میلی متر است. ب) عدد ۷۶ به ۷۰ نزدیک تر است یا به ----- ؟ به ----- نزدیک است. ج) سه دسته ی ۴ تایی برابر است با ----- د) بزرگترین عدد سه رقمی بدون تکرار ----- می باشد. ه) در مستطیل تعداد ضلع ها ----- و تعداد گوشه ها ----- می باشد و همه ی ضلع ها با هم برابر -----	۱
۲	پاسخ صحیح را با علامت x داخل □ مشخص کنید. الف) با رقم های ۵ و ۲ می توان دو عدد ساخت. ب) یک ربع همان ۱۵ دقیقه است. ج) عدد ۵۶۳ زوج است. د) ده سکه ی ۱۰ ریالی برابر است با یک سکه ی ۱۰۰ ریالی	۲
۳	حاصل جمع و تفریق های زیر را با روش فرایندی بدست آورید. $\begin{array}{r} 732 \\ - 263 \\ \hline \end{array}$ $\begin{array}{r} 571 \\ + 146 \\ \hline \end{array}$	۳
۴	مقایسه کنید و علامت < = > بگذارید. $400 + 50 + 300 + 20 + 7 + 10 + 4$ ○ $100 + 20 + 400 + 50 + 7 + 9$ $200 + 50$ ○ $300 - 50$ 4 سانتی متر و 3 میلی متر ○ 34 میلی متر	۴
صفحه ی ۱ از ۴		

نام:	ادامه ی سؤالات	نمره
	<p>در یک جعبه ۷ مهره ی آبی و ۴ مهره ی سبز و ۲ مهره ی صورتی داریم. به سوالات زیر پاسخ دهید.</p> <p>الف) اگر بدون نگاه کردن یک مهره خارج کنیم شانس کدام رنگ بیشتر است؟ چرا؟</p> <p>ب) ----- مهره از ----- مهره ، سبز است.</p> <p>ج) ----- مهره از ----- مهره ، آبی است.</p>	۵
	<p>برای عبارت های زیر شکل بکشید.</p> <div style="display: flex; justify-content: space-around; align-items: center;"> <div style="text-align: center;">  <p>۵ دسته ی ۲ تایی</p> </div> <div style="text-align: center;">  <p>سه دسته ی ۳ تایی</p> </div> </div>	۶
	<p>آراد ۶۳۲ ریال پول داشت. او با پولش یک مداد ۲۳۰ ریالی و یک تراش ۱۲۵ ریالی خرید.</p> <p>الف) آراد چند ریال از پولش را خرج کرد؟ (به روش انتقالی)</p> <p>ب) چند ریال برای او باقی مانده است؟ (به روش انتقالی)</p>	۷
	<p>الگوهای زیر را ادامه دهید.</p> <p>----- و ----- و ----- و ۱۲ و ۷ و ۴</p> <p>----- و ----- و ----- و ۲۶ و ۲۴ و ۲۳</p>	۸
	<p>با توجه به محور زیر جمله ها را کامل کنید.</p> <div style="text-align: center;">  </div> <p>الف) هر واحد محور به ----- قسمت مساوی تقسیم شده است.</p> <p>ب) نقطه مشخص شده ----- واحد و ----- قسمت از ----- قسمت مساوی است.</p>	۹

ردیف	ادامه ی سوالات	نمره
	<p>اندازه خط های زیر را با خط کش اندازه بگیرید و به صورت میلی متر بنویسید.</p>  <p>----- میلی متر ----- میلی متر ----- میلی متر</p>	۱۰
	<p>جاهای خالی را کامل کنید.</p> 	۱۱
	<p>قد علی ۱۳۵ سانتی متر است. خواهرش از او ۲۵ سانتی متر بلندتر است. قد این دو نفر روی هم چند سانتی متر است؟</p>	۱۲
	<p>جمله ها را با نوشتن عدد مناسب کامل کنید.</p>  <p>----- قسمت از ----- قسمت ----- قسمت از ----- قسمت ----- قسمت از ----- قسمت</p> <p>رنگ شده است. رنگ شده است. رنگ شده است.</p>	۱۳
	<p>ساعت قبل و بعد را نشان بدهید.</p>  <p>..... : : :</p>	۱۴

در هفته ی گذشته مهسا ۴ صفحه کتاب ریاضی ، ۷ صفحه کتاب علوم ، ۴ صفحه از کتاب فارسی و ۵ صفحه از کتاب تاریخ خود را مطالعه کرده است. جدول و نمودار زیر را کامل کنید.



عنوان درس	چوب خط	تعداد
ریاضی		
علوم		
فارسی		
تاریخ		

صفحه ی ۴ از ۴

موفق باشی عزیزم




اداره ی کل آموزش و پرورش شهر تهران
اداره ی آموزش و پرورش شهر تهران منطقه ۲ تهران
دبستان غیر دولتی پسرانه سرای دانش واحد مرزداران
کلید سؤالات پایانی نوبت دوم سال تمصیلی ۱۴۰۳-۱۴۰۲



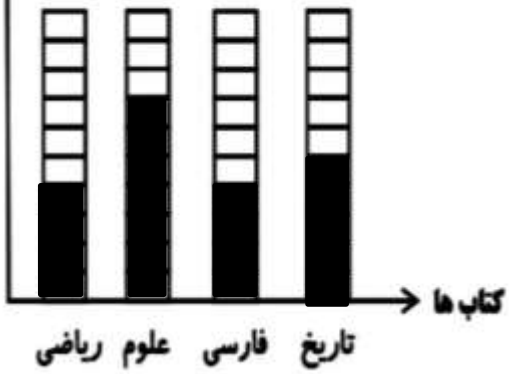
www.sarayedanesh.com

نام درس: ریاضی دوم دبستان
نام دبیر: خانم میرزائی و عربی
تاریخ امتحان: ۱۴۰۳/۰۲/۲۹
ساعت امتحان: ۸:۰۰ صبح / عصر
مدت امتحان: ۱۲۰ دقیقه

ردیف	راهنمای تصحیح	محل مهر یا امضاء مدیر
۱	الف) ۱۷ - ۶ ب) ۸۰ - ۸۰ ج) ۱۲ د) ۹۸۷ ه) ۴ - ۴ - نیست	
۲	الف) نادرست ب) درست ج) نادرست د) درست	
۳	$\begin{array}{r} 571 \\ + 146 \\ \hline 671 \\ + 46 \\ \hline 711 \\ + 6 \\ \hline 717 \end{array}$ $\begin{array}{r} 732 \\ - 263 \\ \hline 522 \\ - 63 \\ \hline 472 \\ - 3 \\ \hline 469 \end{array}$	
۴	= - < - > - >	
۵	الف) آبی. چون تعداد بیشتری دارد پس شانس بیشتری دارد. ب) ۴ - ۱۳ ج) ۷ - ۱۳	
۶		
۷	$\begin{array}{r} 230 \\ + 125 \\ \hline 355 \end{array}$	

	$\begin{array}{r} ۶۳۲ \\ - ۳۵۵ \\ \hline ۲۷۷ \end{array}$			
	$\begin{array}{r} ۱۹ - ۲۸ - ۳۹ \\ ۲۹ - ۳۳ - ۳۸ \end{array}$	۸		
	الف) ۶ ب) ۳ - ۱ - ۶	۹		
	به عهده دانش آموز	۱۰		
		۱۱		
	$\begin{array}{r} ۱۶۰ \\ + ۱۳۵ \\ \hline ۲۹۵ \end{array}$	$\begin{array}{r} ۱۳۵ \\ + ۲۵ \\ \hline ۱۶۰ \end{array}$	۱۲	
	۶ از ۹	۱ از ۲	۳ از ۶	۱۳
		۱۴		

تعداد صفحه ها



عنوان درس	چوب خط	تعداد
ریاضی		۴
علوم		۷
فارسی		۴
تاریخ		۵

۱۵

امضاء:

نام و نام خانوادگی مصحح : خانم میرزائی و عربی

جمع بارم : ۲۰ نمره