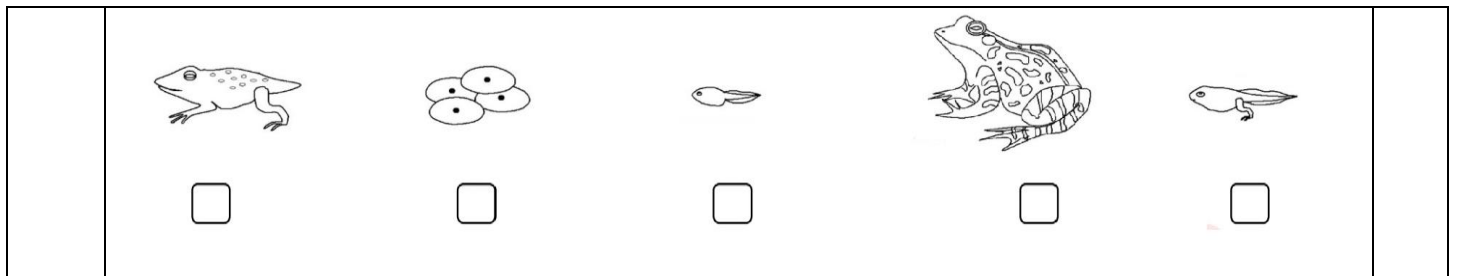


نام درس: علوم  
نام دبیر: حنا جزیان

جمهوری اسلامی ایران  
اداره ی کل آموزش و پرورش شهر تهران  
اداره ی آموزش و پرورش شهر تهران منطقه ۲ تهران  
دبستان غیردولتی پسرانه سرای دانش واحد مرزداران  
ارزشیابی توصیفی نوبت دوم سال تمصیلی ۱۴۰۱-۱۴۰۰

نام و نام خانوادگی:  
.....  
مقطع و رشته: اول  
تعداد صفحه سؤال: ۴ صفحه

ردیف	سؤالات	نمره
	<p>پسرم ، برای استفاده کردن از کدام وسیله فقط احتیاج به گوش ها داریم ؟</p> 	۱
	<p>عزیزم ، دور وسایل خطرناک خط بسته بکش:</p> 	۲
	<p>دلبندم با توجه به نور خورشید سایه کدام درخت درست می باشد ؟</p> 	۳
	<p>پسرم ، حیواناتی که شبیه هم حرکت میکنند را به هم وصل کن و سپس بنویس مار چگونه حرکت میکند :</p> <p>.....</p> 	۴
	<p>مراحل رشد قورباغه را شماره گذاری کن :</p>	۵




کدام یک از خوراکی های زیر بو ، رنگ و مزه ندارد؟




۶

عزیزم ، کدام یک از وسایل زیر در آب فرو نمی رود ؟




۷

نازنینم ، کدام جانور زیر در خاک زندگی میکند ؟



۸

پسر عزیزم ، در کدام یک از تصاویر زیر از هوا استفاده می شود ؟ آنها را رنگ آمیزی کن:




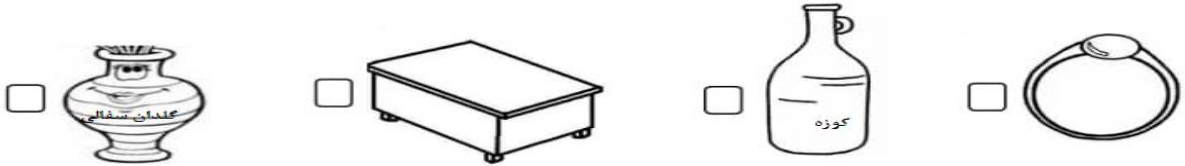
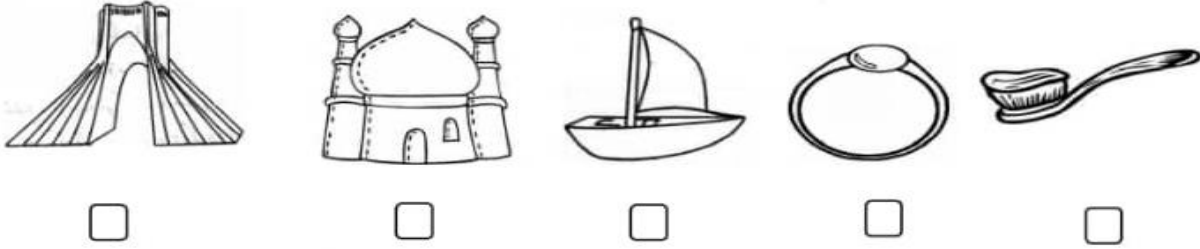

۹

نازنینم ، اگر دو آهنربا داشته باشی ، آنها باید چگونه در کنار هم قرار بگیرند تا یکدیگر را جذب کنند ؟ آن را در زیر نقاشی کن:

۱۰

پسر گلم با دقت به جملات زیر پاسخ درست و نادرست بده :

۱۱

	<p>۱. هر جا گیاه است آنجا خاک وجود دارد. (درست <input type="checkbox"/> - نادرست <input type="checkbox"/>)</p> <p>۲. همه ی خاک ها مانند هم هستند. (درست <input type="checkbox"/> - نادرست <input type="checkbox"/>)</p> <p>۳. ماهی ها در آب به هوا نیاز ندارند. (درست <input type="checkbox"/> - نادرست <input type="checkbox"/>)</p> <p>۴. مداد روی آب باقی می ماند و توپ پلاستیکی به زیر آب فرو می رود. (درست <input type="checkbox"/> - نادرست <input type="checkbox"/>)</p> <p>۵. برای رانندگی کردن حس چشایی بسیار مهم است. (درست <input type="checkbox"/> - نادرست <input type="checkbox"/>)</p> <p>۶. با قرار گرفتن اشیا در برابر نور سایه ایجاد می شود. (درست <input type="checkbox"/> - نادرست <input type="checkbox"/>)</p> <p>۷. چرخ حرکت کردن را در وسایل آسان تر میکند. (درست <input type="checkbox"/> - نادرست <input type="checkbox"/>)</p> <p>۸. شمع برای سوختن به هوا نیاز دارد. (درست <input type="checkbox"/> - نادرست <input type="checkbox"/>)</p>	
	<p>پسر گلم برای درست کردن کدام یک از گیاهان استفاده می شود؟</p> 	۱۲
	<p>کدامیک با استفاده از خاک ساخته می شود؟</p> 	۱۳
	<p>در ساختن کدامیک از سنگ استفاده شده است؟</p> 	۱۴
	<p>کدام وسیله روشنایی قدیمی تر است؟ آن را رنگ آمیزی کن و نام آن را بنویس:</p> 	۱۵

پسرم، انسان ها از گرمای کدام یک از وسایل زیر استفاده میکنند ؟



۱۶

عزیزم ، جملات زیر را با قرار دادن کلمه مناسب کامل کن :

۱. .... یک ریشه خوراکی است .
۲. داشتن ..... حرکت وسایل نقلیه را راحت می کند.
۳. به خاطر ..... آب دریا ها نمی توان از آن برای آشامیدن استفاده کرد.
۴. در گذشته برای داشتن آب در فصل زمستان یخ و برف را در ..... ذخیره می کردند.
۵. رنگ های ..... گرمای خورشید را بیشتر به خود جذب می کنند.
۶. قدرت آهنرباها در ..... و ..... آنها بیشتر از مرکز آنهاست.
۷. بعضی بیماری ها مانند کرونا از راه ..... به انسان منتقل میشود .
۸. .... یکی از سازمان هایی است که هنگام خطر به ما کمک می کند .

۱۷

پسرم ، دایره وسایل ساده را آبی و دایره وسایل پیچیده را قرمز کن :



۱۸

عزیزم ، بزرگترین منبع نور و گرما کره زمین را نام برده و نقاشی کن :

۱۹


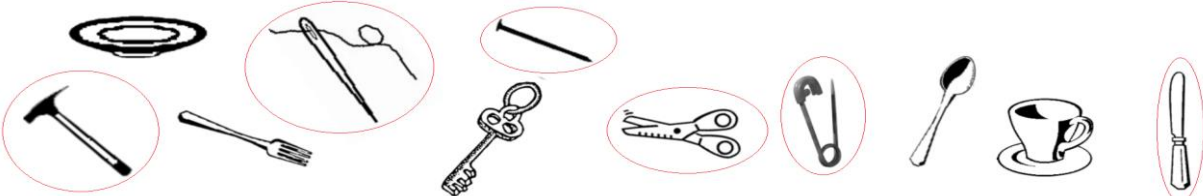
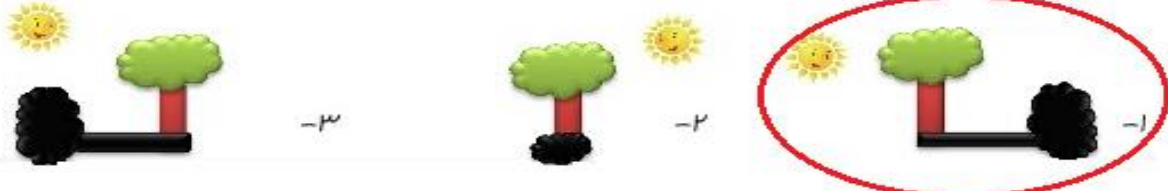
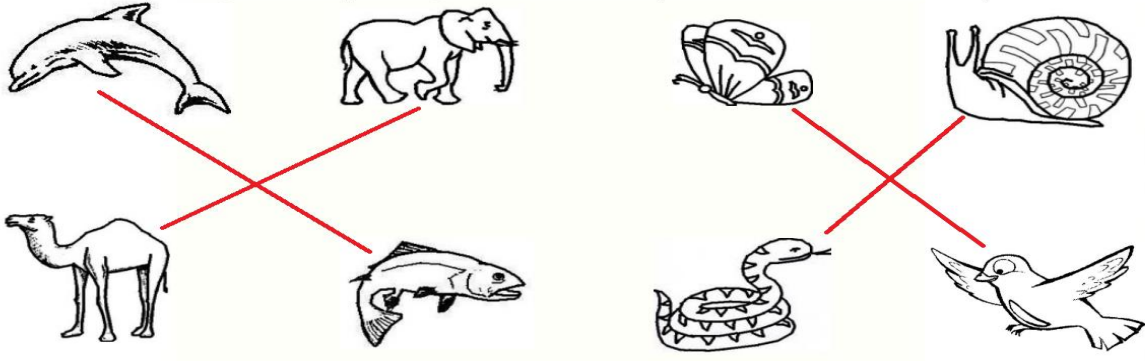
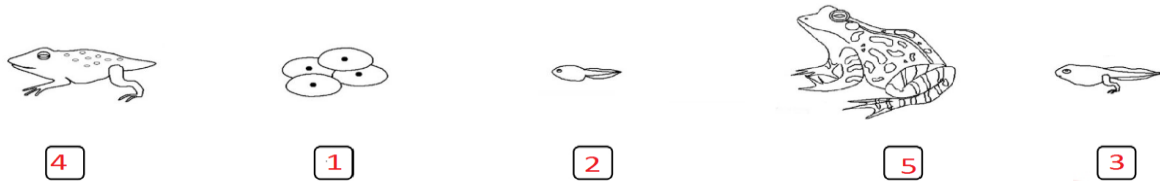
پسرم ، سه وسیله نام ببر که در آنها آهنربا به کار رفته است ؟

۲۰

نام درس: علوم  
نام دبیر: حنا جزیان

جمهوری اسلامی ایران  
اداره ی کل آموزش و پرورش شهر تهران  
اداره ی آموزش و پرورش شهر تهران منطقه ۲ تهران  
دبستان غیردولتی پسرانه سرای دانش واحد مرزداران  
(ارزشیابی توصیفی نوبت دوم سال تمصیلی ۱۴۰۱-۱۴۰۰)


نام و نام خانوادگی: .....  
مقطع و رشته: اول  
تعداد صفحه سؤال: ۴ صفحه

ردیف	سؤالات	نمره
	<p>پسرم ، برای استفاده کردن از کدام وسیله فقط احتیاج به گوش ها داریم ؟</p> 	۱
	<p>عزیزم ، دور وسایل خطرناک خط بسته بکش:</p> 	۲
	<p>دلبندم با توجه به نور خورشید سایه کدام درخت درست می باشد ؟</p> 	۳
	<p>پسرم ، حیواناتی که شبیه هم حرکت میکنند را به هم وصل کن و سپس بنویس مار چگونه حرکت میکند :</p> <p style="text-align: center;"><b>..... مار می خزد.....</b></p> 	۴
	<p>مراحل رشد قورباغه را شماره گذاری کن :</p> 	۵

	<p>کدام یک از خوراکی های زیر بو ، رنگ و مزه ندارد؟</p> 	۶
	<p>عزیزم ، کدام یک از وسایل زیر در آب فرو نمی رود ؟</p> 	۷
	<p>نازنینم ، کدام جانور زیر در خاک زندگی میکند ؟</p> 	۸
	<p>پسر عزیزم ، در کدام یک از تصاویر زیر از هوا استفاده می شود ؟ آنها را رنگ آمیزی کن:</p> 	۹
	<p>نازنینم ، اگر دو آهنربا داشته باشی ، آنها باید چگونه در کنار هم قرار بگیرند تا یکدیگر را جذب کنند ؟ آن را در زیر نقاشی کن:</p> 	۱۰
	<p>پسر گلم با دقت به جملات زیر پاسخ درست و نادرست بده :</p> <p>۹. هر جا گیاه است آنجا خاک وجود دارد. (درست <input checked="" type="checkbox"/> - نادرست <input type="checkbox"/>)</p> <p>۱۰. همه ی خاک ها مانند هم هستند. (درست <input type="checkbox"/> - نادرست <input checked="" type="checkbox"/>)</p> <p>۱۱. ماهی ها در آب به هوا نیاز ندارند. (درست <input checked="" type="checkbox"/> - نادرست <input type="checkbox"/>)</p>	۱۱

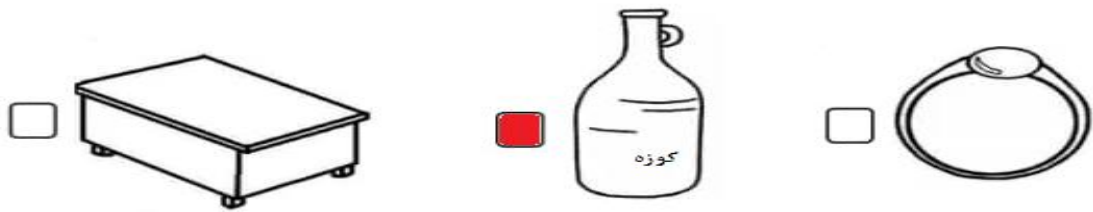
۱۲. مداد روی آب باقی می ماند و توپ پلاستیکی به زیر آب فرو می رود. (درست  - نادرست )
۱۳. برای رانندگی کردن حس چشایی بسیار مهم است. (درست  - نادرست )
۱۴. با قرار گرفتن اشیا در برابر نور سایه ایجاد می شود. (درست  - نادرست )
۱۵. چرخ حرکت کردن را در وسایل آسان تر میکند. (درست  - نادرست )
۱۶. شمع برای سوختن به هوا نیاز دارد. (درست  - نادرست )

۱۲. پسر گلم برای درست کردن کدام یک از گیاهان استفاده می شود؟




۱۲

۱۳. کدامیک با استفاده از خاک ساخته می شود؟



۱۳

۱۴. در ساختن کدامیک از سنگ استفاده شده است؟



۱۴

۱۵. کدام وسیله روشنایی قدیمی تر است؟ آن را رنگ آمیزی کن و نام آن را بنویس:



۱۵

پسرم، انسان ها از گرمای کدام یک از وسایل زیر استفاده میکنند؟



۱۶

عزیزم، جملات زیر را با قرار دادن کلمه مناسب کامل کن :

۹. **هوچ** یک ریشه خوراکی است .

۱۰. داشتن **چرخ** حرکت وسایل نقلیه را راحت می کند.

۱۱. به خاطر **شوری** آب دریا ها نمی توان از آن برای آشامیدن استفاده کرد.

۱۲. در گذشته برای داشتن آب در فصل زمستان یخ و برف را در **یخچال** ذخیره می کردند.

۱۳. رنگ های **تیره** گرمای خورشید را بیشتر به خود جذب می کنند.

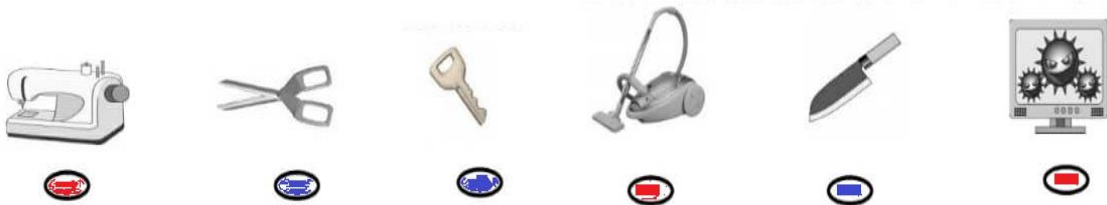
۱۴. قدرت آهنرباها در **ابتدا** و **انتهای** آنها بیشتر از مرکز آنهاست.

۱۵. بعضی بیماری ها مانند کرونا از راه **هوا** به انسان منتقل میشود .

۱۶. **آتش نشانی** یکی از سازمان هایی است که هنگام خطر به ما کمک می کند .

۱۷

پسرم ، دایره وسایل ساده را آبی و دایره وسایل پیچیده را قرمز کن :



۱۸

عزیزم ، بزرگترین منبع نور و گرما کره زمین را نام برده و نقاشی کن :

۱۹





خورشید

پسرم ، سه وسیله نام ببر که در آنها آهنربا به کار رفته است ؟

قطب نما - چرخ گوشت - قبله نما و ...

۲۰

... موفق و سربلند باشی عزیزم ...