

با چوب خط و عدد جواب های زیر را بنویس

$$\begin{array}{|c|c|c|c|} \hline & & & \\ \hline \end{array} + \begin{array}{|c|c|c|c|} \hline & & & \\ \hline \end{array} + \begin{array}{|c|} \hline \\ \hline \end{array} = \begin{array}{|c|c|c|c|c|c|} \hline & & & & & & \\ \hline \end{array}$$

$$\begin{array}{c} \star \\ \star \\ \star \end{array} + \begin{array}{c} \star \\ \star \\ \star \\ \star \end{array} + \begin{array}{c} \star \\ \star \\ \star \\ \star \\ \star \end{array} = \begin{array}{|c|c|c|c|c|c|} \hline & & & & & & \\ \hline \end{array}$$

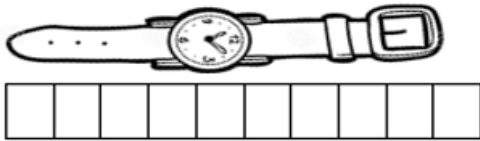
۳

در جاهای خالی عدد درست را بنویس.

۳۵		۳۷			۴۰				۴۴	
----	--	----	--	--	----	--	--	--	----	--

۴

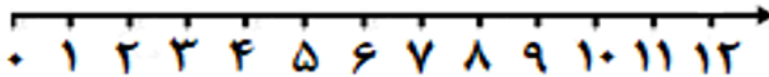
اندازه ی ساعت بین ----- تا ----- است.



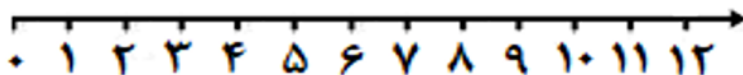
۵

برای هر مسئله یک شکل ساده بکش و جواب را پیدا کن و روی محور نشان بده.

- ۴ اردک در آب بودند. ۲ اردک دیگر هم داخل آب رفتند. چند اردک در آب است؟

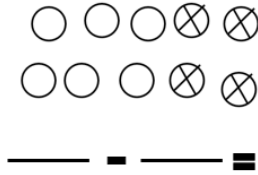
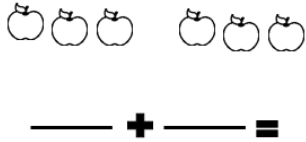
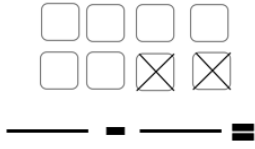
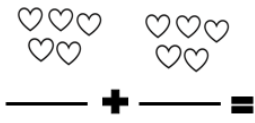


- ۱۲ شمع روشن روی کیک بودند. با فوت آیناز، ۴ شمع خاموش شد. چند شمع روشن باقی مانده است؟



۶

جمع یا تفریق کن و علامت مناسب $>$ یا $<$ یا $=$ را انتخاب کن.



۷

با خط کش جواب درست را به عبارت ها وصل کن.

$10 + 10 = \square$

$10 - 3 = \square$

$3 + 5 = \square$

$4 - 4 = \square$

$5 + 8 = \square$

۱۳

۸

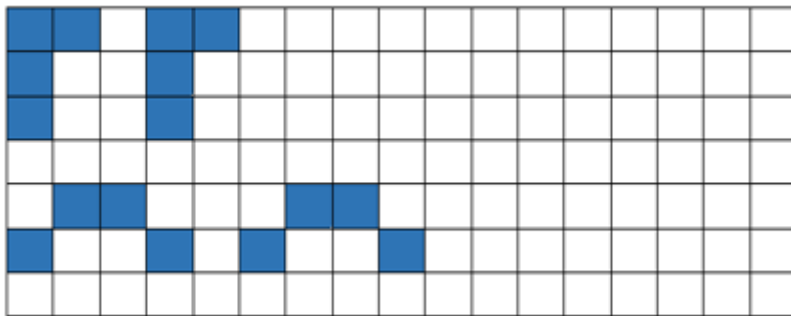
۲۰

۷

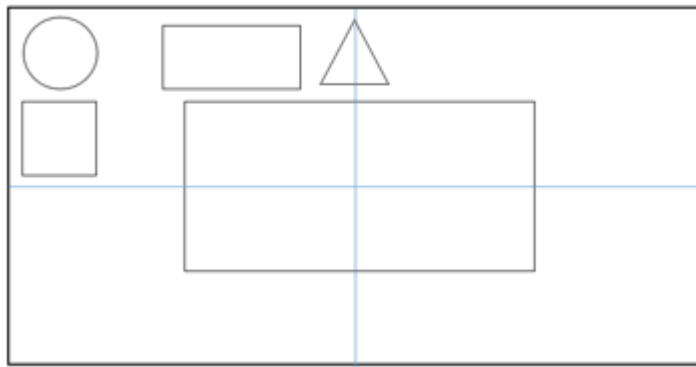
۰

۸

الگوهای زیر را ادامه بده.



۹



۱۰

در جدول شگفت انگیز زیر عددهای درست را در جای خالی بنویس.

۶	۲	۹	۸	۳	۷	۱	۴	۵
۷	۸	۱	۴	۹	۵	۳	۲	۶
۴	۳		۲				۹	۷
۵	۷		۶	۴	۲	۹	۸	۱
۹	۴		۳	۱	۸	۷	۵	۲
۸	۱		۷	۵	۹	۶	۳	۴
۲	۹		۱				۶	۳
۱	۶	۸	۵	۲	۳	۴	۷	۹
۳	۵	۴	۹	۷	۶	۲	۱	۸

۱۱

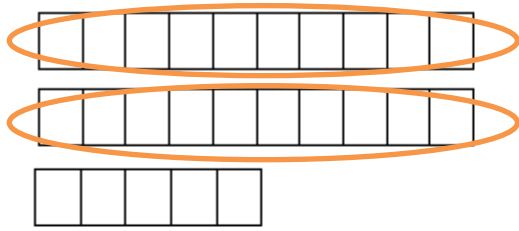


اداره ی کل آموزش و پرورش شهر تهران
 اداره ی آموزش و پرورش شهر تهران منطقه ۴ تهران
 دبستان غیر دولتی دخترانه سرای دانش واحد رسالت
کلید سؤالات جمع بندی میان ترم دوم سال تمصیلی ۱۴۰۲ - ۱۴۰۱

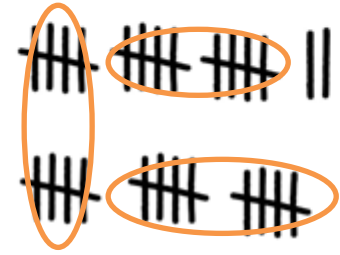
نام درس:
 نام دبیره:
 تاریخ امتحان:/...../۱۴۰۲
 ساعت امتحان: ۷:۳۰ صبح / عصر
 مدت امتحان: ۹۰ دقیقه

راهنمای تصحیح محل مهر یا امضاء مدیر

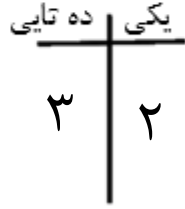
دور دسته های ده تایی خط بسته بکش و جاهای خالی را با عدد مناسب پر کن.



به حروف: بیست و پنج
 به عدد: ۲۵



به حروف: سی و دو
 به عدد: ۳۲

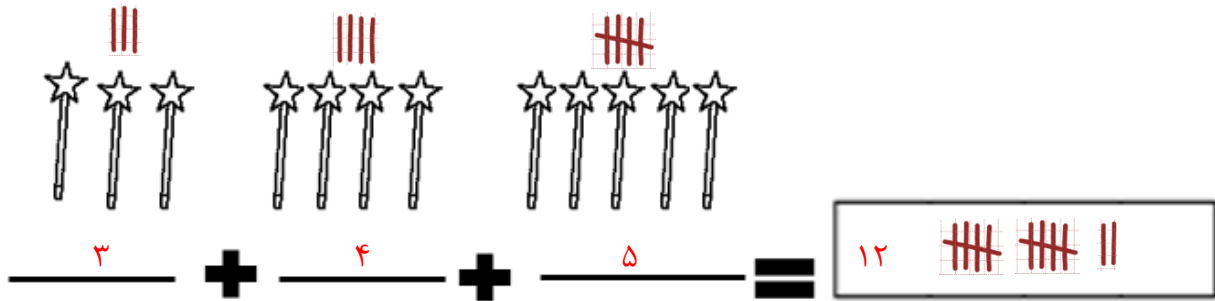
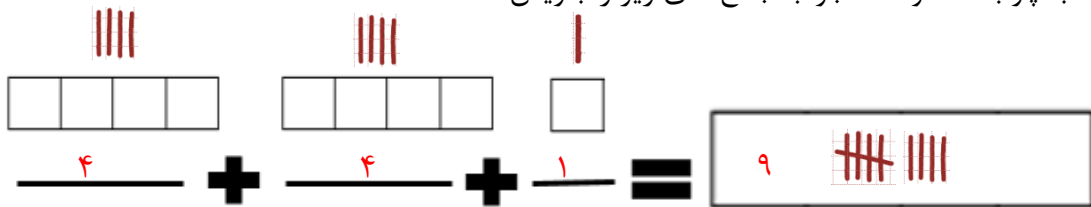


عددهای زیر را ادامه بده!

۵ - ۱۰ - ۱۵ - ۲۰ - ۲۵ - ۳۰ - ۳۵ - ۴۰ - ۴۵
 () ()
 +۵ +۵

۱۰ - ۲۰ - ۳۰ - ۴۰ - ۵۰ - ۶۰ - ۷۰ - ۸۰ - ۹۰
 () ()
 +۱۰ +۱۰

با چوب خط و عدد جواب جمع های زیر را بنویس




۳

در جاهای خالی عدد درست را بنویس.



۴

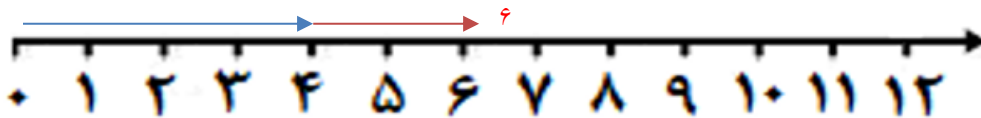
اندازه ی ساعت بین ۹ تا ۱۰ است.



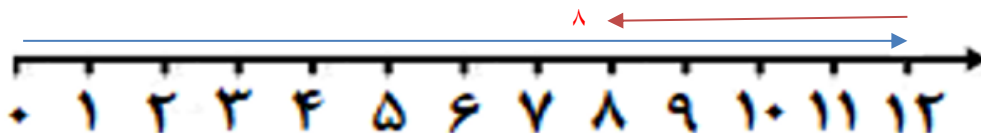
۵

برای هر مسئله یک شکل ساده بکش و جواب را پیدا کن و روی محور نشان بده.

- ۴ اردک در آب بودند. ۲ اردک دیگر هم داخل آب رفتند. چند اردک در آب است؟




- ۱۲ شمع روشن روی کیک بودند. با فوت آیناز، ۴ شمع خاموش شد. چند شمع روشن باقی مانده است؟





۶

جمع یا تفریق کن و علامت مناسب $>$ یا $<$ یا $=$ را انتخاب کن.

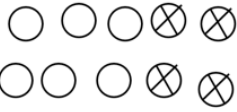

 $5 + 5 = 10$




 $8 - 2 = 6$


 $3 + 3 = 6$




 $10 - 4 = 6$

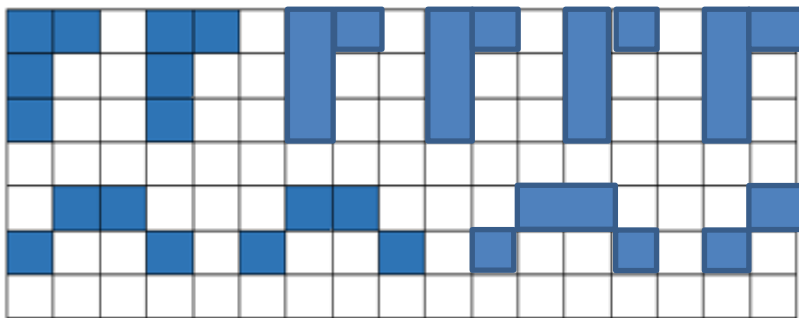
۷

با خط کش جواب درست را به عبارت ها وصل کن.

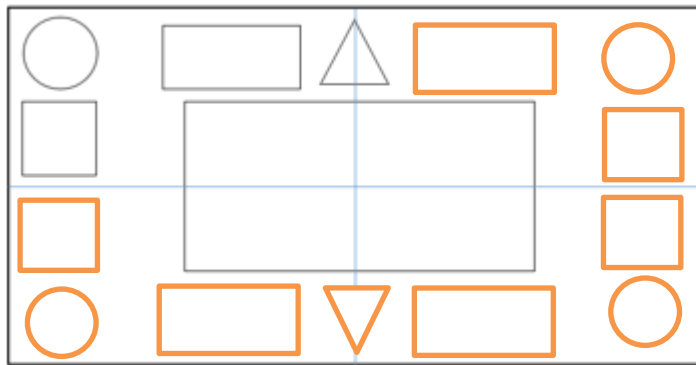
$10 + 10 =$	<input type="text" value="20"/>	<input type="text" value="13"/>
$10 - 3 =$	<input type="text" value="7"/>	<input type="text" value="8"/>
$3 + 5 =$	<input type="text" value="8"/>	<input type="text" value="20"/>
$4 - 4 =$	<input type="text" value="0"/>	<input type="text" value="7"/>
$5 + 8 =$	<input type="text" value="13"/>	<input type="text" value="0"/>

۸

الگوهای زیر را ادامه بده.



۹



۱۰

در جدول شگفت انگیز زیر عددهای درست را در جای خالی بنویس.

۶	۲	۹	۸	۳	۷	۱	۴	۵
۷	۸	۱	۴	۹	۵	۳	۲	۶
۴	۳	۵	۲	۶	۱	۸	۹	۷
۵	۷	۳	۶	۴	۲	۹	۸	۱
۹	۴	۶	۳	۱	۸	۷	۵	۲
۸	۱	۲	۷	۵	۹	۶	۳	۴
۲	۹	۷	۱	۸	۴	۵	۶	۳
۱	۶	۸	۵	۲	۳	۴	۷	۹
۳	۵	۴	۹	۷	۶	۲	۱	۸

۱۱