
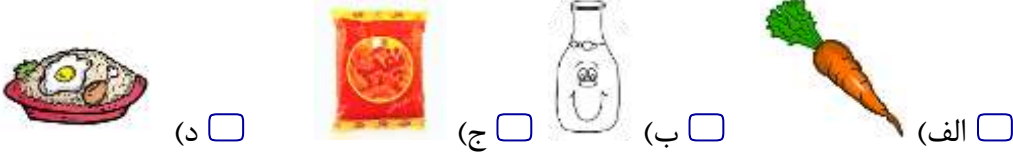





نام و نام خانوادگی: .....  
 مقطع و رشته: اول دبستان  
 نام پدر: .....  
 شماره داوطلب: .....  
 تعداد صفحه سؤال: ۲ صفحه

جمهوری اسلامی ایران  
 اداره ی کل آموزش و پرورش شهر تهران  
 اداره ی آموزش و پرورش شهر تهران منطقه ۷ تهران  
 دبستان غیردولتی پسرانه سرای دانش واحد شریعتی  
 آزمون پایان ترم نوبت اول سال تحصیلی ۱۴۰۱-۱۴۰۰

نام درس: علوم  
 نام دبیر: فائزه فتحي  
 تاریخ امتحان: ..... / ..... / ۱۴۰۰  
 ساعت امتحان: ..... : ..... : .....  
 مدت امتحان : ..... دقیقه

نام دبیر:	نمره به عدد:		نمره به حروف:	
	تاریخ و امضا:	نام دبیر:	تاریخ و امضا:	نام دبیر:
محل مهر و امضا: مدیر	نمره به عدد:		نمره به حروف:	
نام دبیر:	تاریخ و امضا:		تاریخ و امضا:	
ردیف	سؤالات			نمره
۱	<p>ما برای این که بتوانیم صدای دوستان را بشنویم از چه عضوی استفاده می کنیم؟</p>  <p>(الف) <input type="checkbox"/> (ب) <input type="checkbox"/> (ج) <input type="checkbox"/> (د) <input type="checkbox"/></p>			
۲	<p>کدام یک از خوراکی های زیر برای ما ضرر دارد.</p>  <p>(الف) <input type="checkbox"/> (ب) <input type="checkbox"/> (ج) <input type="checkbox"/> (د) <input type="checkbox"/></p>			
۳	<p>شنوایی کدام حیوان قوی تر است. دور آن خط بکشید</p>  <p>(الف) <input type="checkbox"/> (ب) <input type="checkbox"/></p>			
۴	<p>با توجه به سایه خورشید را در جای مناسب بکشید.</p> 			
۵	<p>مشخص کن کدام یک از وسایل روی آب می ماند.</p>  <p>(الف) <input type="checkbox"/> (ب) <input type="checkbox"/> (ج) <input type="checkbox"/> (د) <input type="checkbox"/></p>			

کدام یک می تواند موجود زنده باشد. دور آن خط بکشید.



(ب)




(الف)

۶

کدام جانور برای ما مفید است.



(د)



(ج)



(ب)



(الف)

۷

کدام قسمت گیاه در خاک می ماند؟



(د)



(ج)



(ب)



(الف)

۸

کدام یک از گیاهان زیر ریشه خوراکی دارد؟



(ج)



(ب)



(الف)

۹

کدام یک از جانوران زیر برای ما مشکلاتی به وجود می آورند؟ دورشان خط بکش.



۱۰


تاکنون آب را به چه شکل هایی دیده ای؟ آنها را بکشید.

۱۱

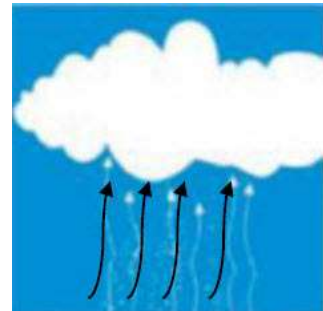
مراحل تشکیل باران در شکل زیر را به ترتیب شماره گذاری کنید.



.....






.....



.....

۱۲

	<p>تصویر هر کدام از گیاهان زیر کامل کن.</p> 	۱۳
	<p>دانه‌های کدام یک خوراکی است؟</p> 	۱۴
	<p>کدام جانور گیاه خوار است.</p>  <p>(د) <input type="checkbox"/> (ج) <input type="checkbox"/> (ب) <input type="checkbox"/> (الف) <input type="checkbox"/></p>	۱۵

