

نام و نام خانوادگی:

مقطع و رشته: سوم دبستان

نام پدر:

شماره داوطلب:

تعداد صفحه سؤال: ۲ صفحه

جمهوری اسلامی ایران

اداره ی کل آموزش و پرورش شهر تهران

اداره ی آموزش و پرورش شهر تهران منطقه ۷ تهران

دبستان غیردولتی پسرانه سرای دانش واحد شریعتی

آزمون پایان ترم نوبت اول سال تمصیلی ۱۴۰۱ - ۱۴۰۰

نام درس: ریاضی




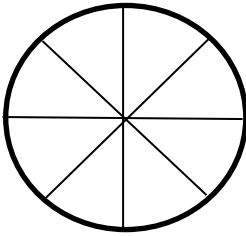
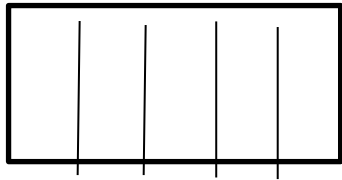

نام دبیر: فزونی

تاریخ امتحان: ۱۴ / ۱۰ / ۱۴۰۰

ساعت امتحان: : : / صبح / عصر

مدت امتحان : دقیقه

محل مهر و امضاء مدیر	نمره به عدد:	نمره به حروف:												
	نمره تجدید نظر به عدد:	نمره به حروف:												
نام دبیر:	تاریخ و امضاء:	نام دبیر:												
تاریخ و امضاء:	نمره به عدد:	نمره به حروف:												
نام	سؤالات	ردیف												
	الگوهای شمارش را کامل کنید.	۱												
	<p>.....،،،،، ۴۵، ۵۰، ۵۵</p> <p>.....،،، ۱۳۸، ۱۳۲، ۱۲۸، ۱۲۶</p> <p>.....،،،،، ۱۰، ۶، ۳، ۱</p>													
	<p>یک ساختمان ۶ طبقه دارد. در هر طبقه ۴ واحد قرار دارد. (جدول نظام دار)</p> <p>الف) این ساختمان چند واحد دارد؟</p> <p>ب) سه طبقه این ساختمان چند واحد دارد؟</p> <p>ج) در طبقه پنجم چند واحد قرار دارد؟</p>	۲												
	<p>جاهای خالی را با عدد مناسب پر کنید.</p> <div style="display: flex; align-items: center; justify-content: center;"> <table border="1" style="margin-right: 20px;"> <tr><td>۲۰</td></tr> <tr><td>۴۰</td></tr> <tr><td> </td></tr> <tr><td> </td></tr> </table> <div style="margin-right: 20px;"> <p>→ +۲۵</p> </div> <table border="1" style="margin-right: 20px;"> <tr><td> </td></tr> <tr><td> </td></tr> <tr><td>۸۵</td></tr> <tr><td> </td></tr> </table> <div style="margin-right: 20px;"> <p>→ -۹</p> </div> <table border="1"> <tr><td> </td></tr> <tr><td> </td></tr> <tr><td> </td></tr> <tr><td>۹۶</td></tr> </table> </div>	۲۰	۴۰					۸۵					۹۶	۳
۲۰														
۴۰														
۸۵														
۹۶														
	<p>اتوبوسی ساعت ۸ صبح از تهران به سمت یزد حرکت کرد و بعد از ۱۱ ساعت به یزد رسیده است. او چه ساعتی به یزد رسید.</p> <p>(ساعت را به دو صورت بنویسید.)</p>	۴												
	<p>یک ریال ایران به اندازه ۱۰۰۰ لیره ی کشور شکرستان می‌ارزد. ۳ ریال ایران با ارزش تر است یا ۳۵۰۰ لیره شکرستان؟</p>	۵												

<p>۵۴۸۶-۳۲۶۴=</p>	<p>حاصل تفریق زیر را با رسم شکل بدست آورید.</p>	<p>۶</p>
	<p>در جاهای خالی عدد مناسب بنویسید. الف) ۵۴۰۰ گرم یعنی کیلو گرم و گرم. ب) ۳۱۴ سانتی متر متر و سانتی متر است. ج) سانتی متر، ۲ متر و ۴۷ سانتی متر است. د) ۷ کیلومتر متر است. ز) ۶ کیلومتر و ۳۰۰ متر، متر است.</p>	<p>۷</p>
	<p>محمد یک قطعه زمین مستطیل شکل دارد. او نیمی از زمینش را لوبیا کاشته است و نیم دیگرش را به ۴ قسمت مساوی تقسیم کرده و در دو قسمت آن سبزی و در یک قسمت آن عدس کاشته است. الف) چند قسمت را سبزی کاشته است؟ ب) چه کسری باقی مانده است؟ ج) چه کسری را عدسی کاشته است؟</p>	<p>۸</p>
	<p>عدد های زیر را روی محور نشان دهید. الف) $\frac{2}{5}$ واحد بعد از عدد ۳ ب) $\frac{3}{4}$ واحد مانده به عدد ۱</p>	<p>۹</p>
 <p>$\frac{1}{2}$</p>	<p>به اندازه کسرهای داده شده شکل ها را رنگ بزنید.</p>  <p>$\frac{3}{8}$</p>  <p>$\frac{4}{5}$</p>	<p>۱۰</p>
	<p>کسر مساوی برای شکل زیر بکشید و بنویسید.</p> <p>$\frac{1}{2} = \frac{\quad}{\quad} = \frac{\quad}{\quad}$</p>	<p>۱۱</p>
	<p>موفق باشید</p>	



اداره ی کل آموزش و پرورش شهر تهران
 اداره ی آموزش و پرورش شهر تهران منطقه ۷ تهران
 دبستان غیر دولتی پسرانه سرای دانش واحد شریعتی
کلید سوالات پایان ترم نوبت اول سال تحصیلی ۱۴۰۱-۱۴۰۰

نام درس: ریاضی
 نام دبیره الهه فرزولی
 تاریخ امتحان: ۱۴/۱۰/۱۴۰۰
 ساعت امتحان: صبح / عصر
 مدت امتحان: دقیقه

ردیف	راهنمای تصحیح	محل مهر یا امضا، مدیر														
۱		۳۰-۳۵-۴۰ ۱۴۵-۱۵۶ ۱۵-۲۱-۲۸														
۲	الف) ۲۴ واحد ب) ۱۲ واحد ج) ۴ واحد	<table border="1"> <tr> <td>طبقه</td> <td>۱</td> <td>۲</td> <td>۳</td> <td>۴</td> <td>۵</td> <td>۶</td> </tr> <tr> <td>واحد</td> <td>۴</td> <td>۸</td> <td>۱۲</td> <td>۱۶</td> <td>۲۰</td> <td>۲۴</td> </tr> </table>	طبقه	۱	۲	۳	۴	۵	۶	واحد	۴	۸	۱۲	۱۶	۲۰	۲۴
طبقه	۱	۲	۳	۴	۵	۶										
واحد	۴	۸	۱۲	۱۶	۲۰	۲۴										
۳		<table border="1"> <tr> <td>۲۰</td> <td rowspan="4">→ +۲۵</td> <td>۴۵</td> <td rowspan="4">→ -۹</td> <td>۳۶</td> </tr> <tr> <td>۴۰</td> <td>۶۵</td> <td>۵۶</td> </tr> <tr> <td>۶۰</td> <td>۸۵</td> <td>۷۶</td> </tr> <tr> <td>۸۰</td> <td>۱۰۵</td> <td>۹۶</td> </tr> </table>	۲۰	→ +۲۵	۴۵	→ -۹	۳۶	۴۰	۶۵	۵۶	۶۰	۸۵	۷۶	۸۰	۱۰۵	۹۶
۲۰	→ +۲۵	۴۵	→ -۹		۳۶											
۴۰		۶۵			۵۶											
۶۰		۸۵			۷۶											
۸۰		۱۰۵		۹۶												
۴		ساعت ۱۹ یا ۷ بعد از ظهر														
۵	۳۵۰۰ لییره شکرستان باارزستر است.	<table border="1"> <tr> <td>ریال</td> <td>۱</td> <td>۲</td> <td>۳</td> </tr> <tr> <td>لییره</td> <td>۱۰۰۰</td> <td>۲۰۰۰</td> <td>۳۰۰۰</td> </tr> </table>	ریال	۱	۲	۳	لییره	۱۰۰۰	۲۰۰۰	۳۰۰۰						
ریال	۱	۲	۳													
لییره	۱۰۰۰	۲۰۰۰	۳۰۰۰													
۶		<p style="text-align: right;">۵۴۸۶-۳۲۶۴=۲۲۲</p>														
۷	الف) ۵ کیلوگرم و ۴۰۰ گرم ب) ۳ متر و ۱۴ سانتی متر															

ج) ۲۴۷ سانتی متر

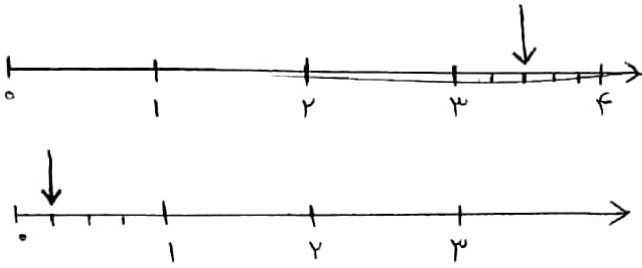
د) ۷۰۰۰ متر

ز) ۶۳۰۰ متر

	سبزی
	سبزی
	عدس

الف) ۲ قسمت از ۸ قسمت مساوی
ب) یک قسمت از ۸ قسمت مساوی
ج) یک قسمت از ۸ قسمت مساوی


۸



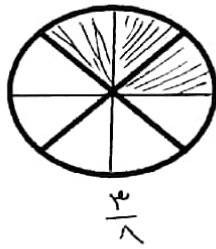
الف

۹

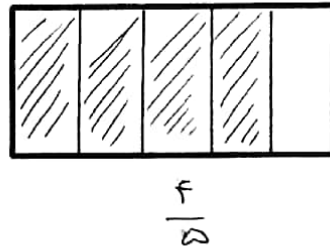
ب



$\frac{1}{2}$

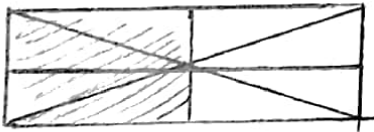


$\frac{3}{4}$



$\frac{4}{5}$

۱۰



$$\frac{1}{3} = \frac{2}{4} = \frac{4}{6}$$

۱۱