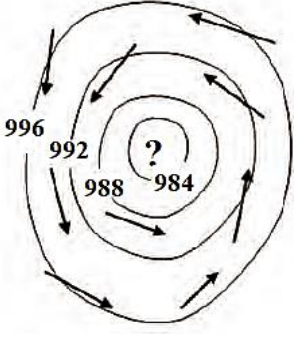



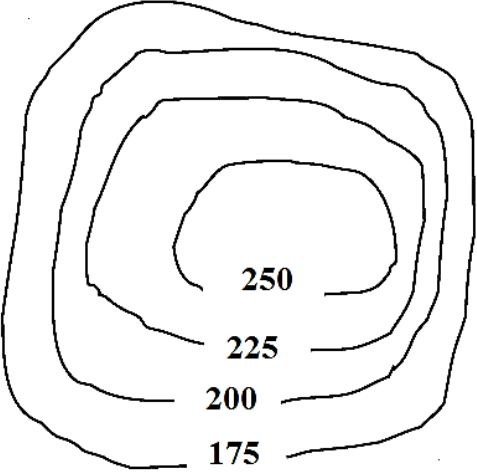
نام و نام خانوادگی: .....  
 مقطع و رشته: یازدهم انسانی  
 نام پدر: .....  
 شماره داوطلب: .....  
 تعداد صفحه سؤال: ۳ صفحه

جمهوری اسلامی ایران  
 اداره ی کل آموزش و پرورش شهر تهران  
 اداره ی آموزش و پرورش شهر تهران منطقه ۶ تهران  
 دبیرستان غیردولتی دخترانه سرای دانش واحد فلسطین  
 آزمون پایان ترم نوبت دوم سال تحصیلی ۱۴۰۱-۱۴۰۲

نام درس: جغرافی  
 نام دبیر: خانم امینی  
 تاریخ امتحان ۱۴۰۲/۳/۲۸  
 ساعت امتحان: ۸ صبح / عصر  
 مدت امتحان: ۷۵ دقیقه

نمره تجدید نظر به عدد:		نمره به عدد:		نمره به حروف:	
نام دبیر:		نام دبیر:		تاریخ و امضاء:	
محل مهر و امضاء مدیر		نمره به حروف:		نمره به حروف:	
۱	سؤالات	۳			
۱	<p>جواب صحیح را مشخص نمایید.</p> <p>۱- دولت امارات متحده عربی با ساختن جزیره‌های مصنوعی در آب‌های خلیج فارس، نواحی جدیدی در منطقه ایجاد کرده است؛ این به معنای آن است که ....</p> <p>(الف) انسان‌ها نواحی را به وجود می‌آورند                      (ب) نواحی به فعالیت‌های انسان‌ها شکل می‌دهند.                      (ج) نواحی با یکدیگر رابطه و کنش متقابل دارند.                      (د) نواحی تحت تأثیر تصمیم‌گیری‌های سیاسی حکومت‌ها هستند.</p> <p>۲- بیشترین تغییرات آب‌وهوایی در لایه ..... به وجود می‌آید و وجود ..... سیاره ما را از سایر سیاره‌ها جدا می‌کند.</p> <p>(الف) وردسپهر - هواکره                      (ب) تروپوسفر - سنگ کره                      (ج) وردسپهر - آب کره                      (د) وردسپهر - زیست کره</p> <p>۳- به ترتیب بیابان‌های گرم و سرد در کدام نواحی واقع شده‌اند؟</p> <p>(الف) در مجاورت خط استوا - عرض جغرافیایی پایین                      (ب) رأس السرطان و رأس الجدی - عرض جغرافیایی بالا                      (ج) رأس السرطان و رأس الجدی - عرض جغرافیایی پایین                      (د) نزدیک خط استوا - عرض جغرافیایی بالا یا در ارتفاعات زیاد</p> <p>۴- تپه‌های ماسه‌ای هلالی شکل و منفرد که دو زائده یا بازو در دو جهت باد دارند معرف چیست؟</p> <p>(الف) برخان                      (ب) کلوت                      (ج) رگ                      (د) تلماسه</p> <p>۵- با توجه به شکل‌های a و b کدام عبارت به درستی بیان شده است؟</p>				
	 <p>شکل a</p>				
	 <p>شکل b</p>				
	<p>(الف) یک مرکز پرفشار (شکل a) - تپه نا متقارن (شکل b)                      (ب) یک مرکز پر فشار (شکل a) - تپه یکنواخت (شکل b)                      (ج) یک مرکز کم فشار (شکل a) - تپه یکنواخت (شکل b)                      (د) یک مرکز کم فشار (شکل a) - تپه نا متقارن (شکل b)</p>				

<p>۶- وایتکر در طبقه‌بندی زیست‌بوم به چه عوامل توجه داشت؟ تنها موجودات زنده تولیدکننده در یک بوم‌سازگان چه می‌باشد؟      الف) بارش و دما- باکتری‌ها (ب) ارتفاع و دما- گیاهان (ج) ارتفاع و بارش - باکتری‌ها (د) بارش و دما- گیاهان</p> <p>۷- در مرزبندی بین کانادا و آمریکا مرزبندی ..... و فرانسه- اسپانیا مرزبندی ..... استفاده شده است.      الف) مصنوعی- طبیعی (ب) طبیعی - تحمیلی (ج) تحمیلی - طبیعی (د) طبیعی - مصنوعی</p> <p>۸- فرانسه از پیش‌گامان نظام سیاسی ..... است و در نظام سیاسی ..... حکومت و توزیع قدرت در سرزمین دو سطح دارد.      الف) تک‌ساخت - ترکیبی (ب) فدرال- ترکیبی (ج) فدرال- فدرال (د) تک‌ساخت- فدرال</p> <p>۹- در مرزهای غیرطبیعی از ..... استفاده می‌شود.      الف) عوامل فرهنگی (ب) پدیده‌های طبیعی (رود، دریا و کوه)      ج) مدارات و نصف‌النهارها (د) خط منصف و تالوگ</p> <p>۱۰- دین ..... در آسیا ظهور کرد و پیروان دین ..... بیشتر در شهرها و نواحی بزرگ بازرگانی جهان به صورت پراکنده زندگی می‌کنند.      الف) اسلام- مسیحیت (ب) یهود - یهود (ج) مسیحیت - یهود (د) اسلام - مسیحیت</p> <p>۱۱- منظور از جزیره جهانی و هارتلند کجاست؟ و توسط کدام جغرافیدان سیاسی طرح شد؟      الف) سه قاره آسیا، اروپا و آمریکا- بخش مرکزی این قاره‌ها- راتزل      ب) سه قاره آسیا، اروپا و آفریقا- فقط شرق اروپا- مکیندر      ج) سه قاره آسیا، اروپا و آفریقا- قسمت شرقی این قاره‌ها - راتزل      د) سه قاره آسیا، اروپا و آفریقا - قسمت شرقی این قاره‌ها- مکیندر</p> <p>۱۲- کدام گزینه دیدگاه‌های ژئوپلتیکی هر جغرافیدان سیاسی را به درستی نشان می‌دهد؟      الف) راتزل: توجه به موقعیت جغرافیایی- مکیندر: دسترسی به فضاهای دریایی و اقیانوسی - آلفرد ماهان: توجه به قدرت بری      ب) راتزل: قدرت بری - مکیندر: توجه به موقعیت جغرافیایی - آلفرد ماهان: توجه به قدرت هوایی      ج) راتزل: توجه به موقعیت جغرافیایی - مکیندر: تاکید بر قدرت خشکی - آلفرد ماهان: دسترسی به فضاهای دریایی و اقیانوسی      د) راتزل: تاکید بر فضای حیاتی - مکیندر: تاکید بر قدرت هوایی - آلفرد ماهان: توجه به قدرت دریایی</p>	<p>۲</p>
<p>به سوالات زیر پاسخ دهید.</p>	
<p>۱- ناحیه را تعریف کنید.</p>	<p>۱</p>
<p>۲- با ذکر یک مثال توضیح دهید آیا لزوماً نواحی طبیعی و انسانی با مرزهای اداری و سیاسی منطبقند یا خیر؟</p>	<p>۰/۷۵</p>
<p>۳- تفاوت آب‌وهوا با هوا در چیست؟</p>	<p>۰/۷۵</p>
<p>۴- چرا نور خورشید عامل اصلی به‌وجود آمدن ویژگی‌های آب‌وهوایی است؟</p>	<p>۰/۵</p>
<p>۵- وقوع بارش به چه عواملی وابسته است؟</p>	<p>۰/۵</p>
<p>۶- علل ایجاد بیابان‌های آتاکاما و گبی چیست؟</p>	<p>۰/۵</p>
<p>۷- منظور از بیابان‌زایی و بیابان‌زدایی چیست؟</p>	<p>۰/۵</p>
<p>۸- اشکال کاوشی و اشکال تراکمی را توضیح دهید و برای هر مورد یک مثال بزنید.</p>	<p>۱</p>
<p>۹- چرا کشت تک محصولی مورد تایید کارشناسان محیط‌زیست نیست؟</p>	<p>۰/۵</p>
<p>صفحه ۲ از ۳</p>	

۰/۵	۱۰- دو مورد از ویژگی‌های مهم صنایع نو چیست؟	
۰/۵	۱۱- هدف از ایجاد سازمان اوپک چیست؟	
۱/۵	۱۲- کشورها برای کاهش تأثیرات منفی تجارت خارجی بر صنایع و رونق اقتصاد خود دست به چه اقداماتی می‌زنند؟ (۳ مورد)	
۰/۵	۱۳- ناحیه سیاسی ویژه شامل چه مناطقی است؟ فقط نام ببرید.	
۱	۱۴- جغرافیای سیاسی را تعریف کنید و برای اثر سیاست بر مکان (نه مکان بر سیاست) یک مثال بزنید.	
۰/۵	۱۵- تفاوت اصلی مرزبندی تطبیقی و تحمیلی در چیست؟	
۰/۷۵	۱۶- در نظام سیاسی فدرال، ایالت‌ها در چه اموری از حکومت مرکزی تبعیت می‌کنند؟	
۰/۵	۱۷- کدام نظریه در سیاست‌های جنگ‌طلبانه آلمان و بروز جنگ‌های جهانی اول و دوم تأثیرگذار بوده است؟ این نظریه توسط چه کسی مطرح شد؟	
۱	۱۸- کشورهای محاط و کشورهای طویل را با هم مقایسه کنید.	
۱	۱۹- نیروی دریایی راهبردی به چه نیرویی گفته می‌شود؟	
۱	۲۰- چه عواملی جغرافیایی در قدرت ملی یک کشور نقش دارد؟ فقط نام ببرید (۴ مورد)	
۱	۲۱- بهترین شکل برای یک کشور چه شکلی است؟ چرا؟	
۱/۲۵	<p>۳ با توجه به شکل پاسخ دهید.</p> <p>۱- نیم‌رخ توپوگرافی زیر را رسم کنید و نوع آن را مشخص کنید این توپوگرافی مشخص کننده دره است یا تپه؟</p>	
		
صفحه ۳ از ۳		

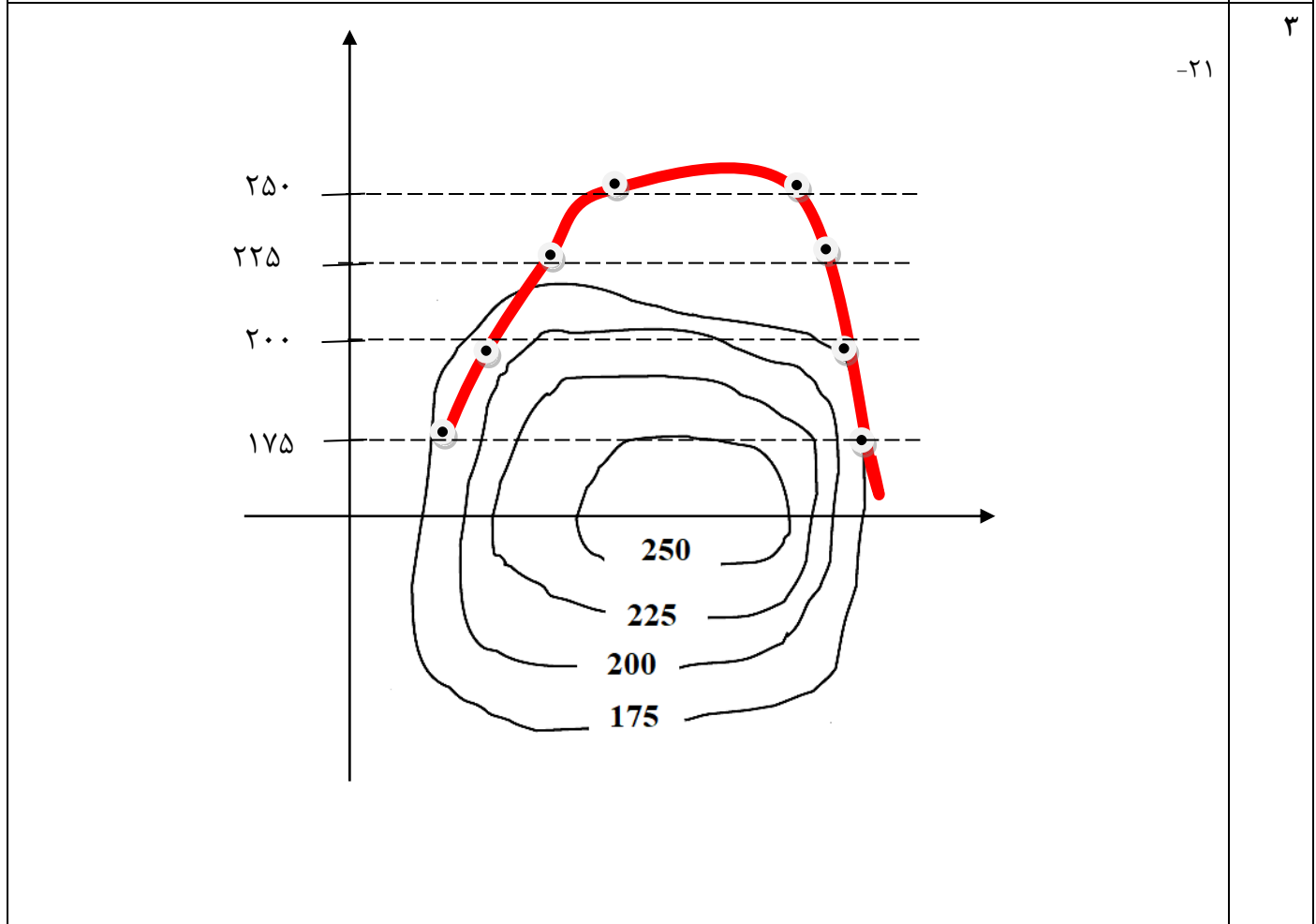


اداره ی کل آموزش و پرورش شهر تهران  
اداره ی آموزش و پرورش شهر تهران منطقه ۶ تهران  
دبیرستان غیر دولتی دخترانه سرای دانش واحد فلسطین  
کلید سؤالات پایان ترم نوبت دوم سال تمصیلی ۱۴۰۲-۱۴۰۱

نام درس: جغرافیای یازدهم  
نام دبیر: .....  
تاریخ امتحان: ..... / ..... / ۱۴۰۲  
ساعت امتحان: ..... صبح / عصر  
مدت امتحان: ..... دقیقه

ردیف	راهنمای تصحیح	محل مهر یا امضاء مدیر
۱	<p>۱- ب ( نواحی به فعالیت‌های انسان‌ها شکل می‌دهند). ۲- الف ( وردسپهر – هواکره) ۳- ب ( رأس السرطان و رأس الجدی – عرض جغرافیایی بالا) ۴- الف (برخان) ۵- د ( یک مرکز کم فشار (شکل a) - تپه نا متقارن (شکل b) ۶- د ( بارش و دما- گیاهان) ۷- الف (مصنوعی- طبیعی) ۸- د (تک‌ساخت- فدرال) ۹- ب (مدارات و نصف‌النهارها) ۱۰- ج ( مسیحیت- یهود) ۱۱- ب ( سه قاره آسیا، اروپا و افریقا- فقط شرق اروپا- مکیندر) ۱۲- ج ( راتزل: توجه به موقعیت جغرافیایی - مکیندر: تاکید بر قدرت خشکی - آلفرد ماهان: دسترسی به فضاهای دریایی و اقیانوسی)</p>	
۲	<p>۱- ناحیه بخشی از سطح زمین است که ویژگی‌های جغرافیایی (طبیعی- اقتصادی- اجتماعی- فرهنگی و ...) همگون و خاصی دارد؛ به طوری که با بخش‌های مجاور خود متفاوت است. ۲- خیر مثلاً بیابان لوت که یک ویژگی طبیعی است در استان‌های خراسان، کرمان و سیستان بلوچستان قرار دارد. یا قوم پشتون که یک ویژگی انسانی است در کشورهای پاکستان و افغانستان سکونت دارند. ۳- هوا وضعیت گذرا و موقتی هواکره (اتمسفیر) در یک محل در یک مدت زمانی کوتاه آب‌وهوا شرایط و وضعیت هوای یک ناحیه در مدت زمانی بسیار طولانی ۴- چون بر روی عناصر آب‌وهوایی چون دما، فشار و رطوبت و بارش تأثیر می‌گذارد. ۵- ۱- وجود هوای مرطوب ۲- عامل صعود ۶- آناکاما: به دلیل استقرار مرکز پرفشار جنب استوایی گبی: دوری از منابع رطوبت و شکل و جهت ناهموازی‌ها ۷- بیابان‌زایی: یعنی بیابانی شدن یا گسترش بیابان‌ها بیابان زدایی: پیش‌گیری از گسترش بیابان‌ها ۸- اشکال کاوشی: نوعی از فرسایش که ذرات از یک محل کنده می‌شوند و در محل دیگر منتقل می‌شوند. مانند: رگ (دشت ریگی) / کِلوت (یاردانگ) اشکال تراکمی: در این نوع فرسایش ذرات در یک محل توسط باد در یک مکان انباشت می‌شوند مانند: برخان و تلماسه (تپه‌های ماسه‌ای) ۹- به دلیل خطر فرسایش و ضعیف شدن خاک بر اثر استفاده مداوم از کودها و آفت‌کش‌ها ۱۰- ۱- بر محور فناوری پیشرفته و استفاده از متخصصان و محققان قرار دارد ۲- بر مبنای نوآوری و رقابت اند ۳- ناگزیر به برقراری ارتباط با فناوری‌های روز دنیا و صادر به کشورهای دیگر هستند</p>	

۱۱- دفاع از منافع خود- جلوگیری از آسیب‌پذیری ناشی از کاهش قیمت نفت در بازار جهانی
۱۳- وضع تعرفه‌های گمرکی و مالیات بر کالاهای وارداتی- محدود یا ممنوع کردن واردات برخی از کالاها - تشکیل اتحادیه‌های اقتصادی- تجاری - ایجاد مناطق آزاد تجاری
۱۴- شاخه‌ای از علم جغرافیاست که از دو عنصر سیاست و جغرافیا ترکیب شده است چرا که فضای جغرافیایی بر تصمیمات سیاسی اثر می‌گذارد و برعکس. مانند: احداث تونل مانس بین فرانسه و انگلستان یا اختلافات طبقاتی موجود در کشور فیلیپین
۱۵- در مرزبندی تطبیقی شرایط فرهنگی در نظر گرفته می‌شود اما در مرزبندی تحمیلی شرایط فرهنگی لحاظ نمی‌شود.
۱۶- در زمینه دفاع- سیاست خارجی - واحد پول ملی
۱۷- نظریه هارتلند (یا قدرت خشکی)- مکیندر
۱۸- به کشورهایی که طول آنها حداقل ۶ برابر عرضشان باشد کشور طویل گفته می‌شود. کشورهای محاطی کشورهایی هستند که درون یک کشور دیگر محصورند.
۱۹- به نیرویی گفته می‌شود که قادر است در محدوده آب‌های عمیق اقیانوسی عملیات انجام دهد و بتواند خود را از تهدیدهای روی آب، زیر آب و هوا حفظ کند. محدودیتی برای اجرای عملیات در دوردست‌ها نداشته باشد و قادر به حفظ منافع ملی خود در منطقه دریایی باشد.
۲۰- ۱- موقعیت جغرافیایی ۲- وسعت، شکل و ناهمواری‌های کشور ۳- بنیادهای زیستی ۴- منابع انرژی و معدنی ۵- جمعیت



جمع بارم : ۲۰ نمره	نام و نام خانوادگی مصحح :	امضاء:
--------------------	---------------------------	--------