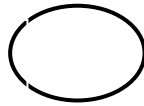




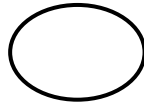
۴. عزیزم حاصل را به دست بیاور و علامت مناسب بگذار ( $<=>$ )

$$9 + 8 =$$



$$10 + 20 + 5 + 5 - 5 =$$

$$90 - 30 =$$



$$70 - 10 =$$

۵. در هر ردیف الگو را ادامه بده

$$10 - 15 - 20 - \dots - \dots - \dots - \dots - \dots - \dots$$

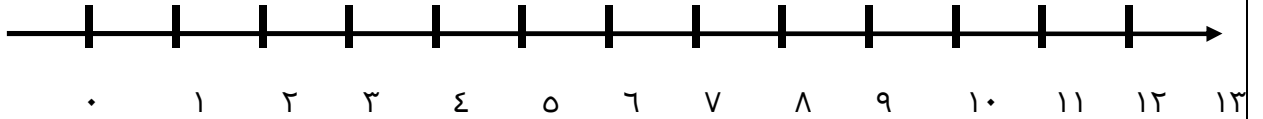
$$\dots - \dots - \dots - \dots - \dots - \dots - 60 - 70$$

۶. عزیزم مسئله را از راهی دوست داری حل کن

آموزگار یک کلاس در ابتدای سال به هر دانش آموز کلاس یک گل هدیه داد . سه دسته ۱۰ تایی گل و ۲ تا گل هدیه داد  
در آبان ماه به مناسبت روز دانش آموز ۳ دسته ۱۰ تایی و ۲ گل دیگر هدیه داد . آموزگار چند گل هدیه داد ؟

۷. عزیزم مسئله را با کمک محور حل کن

اتوبوسی با ۱۳ مسافر حرکت کرد . در ایستگاه اول ۸ مسافر پیاده شدند در ایستگاه دوم ۴ نفر سوار شدند  
اتوبوس چند مسافر دارد ؟



۱/۲۵

۸. بادکنک فروشی ۱۳ بادکنک داشت . بادی وزید و ۶ بادکنک او را با خود برد حالا چند بادکنک برای او باقی مانده  
است ؟

۹. ساعت چند است عزیزم ؟



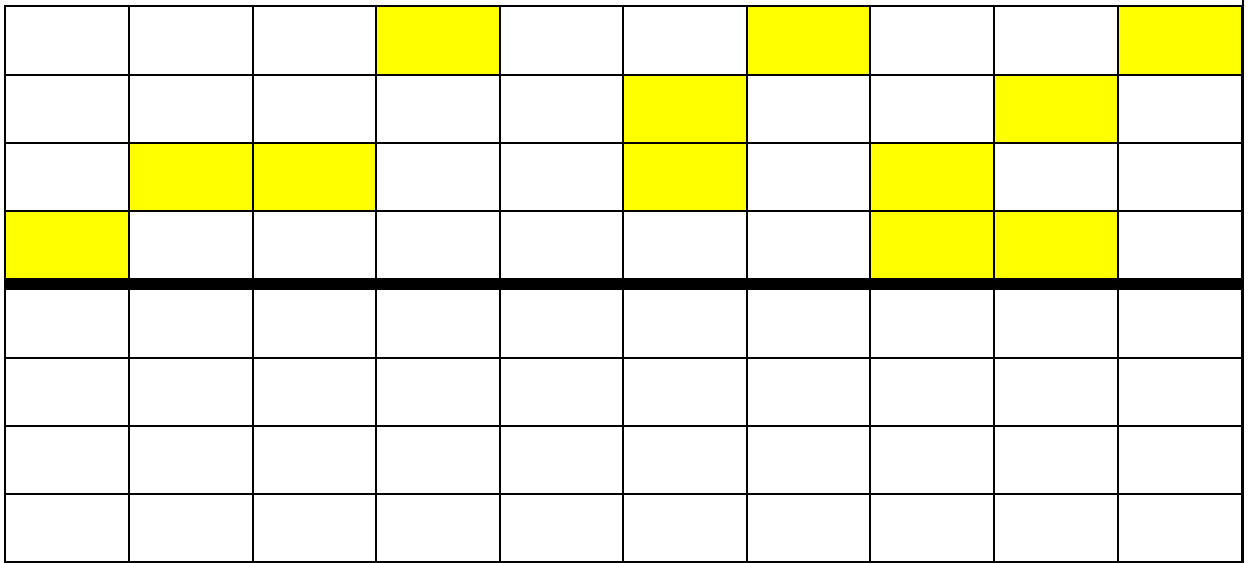
ساعت بین ----- و ----- است .



ساعت ----- است

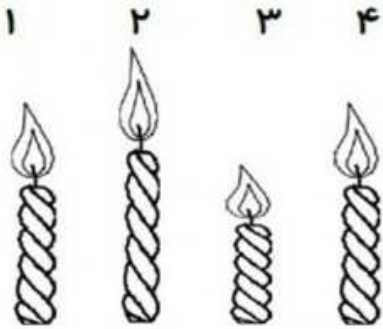
۱

۱۰. سمت راست شکل را مانند سمت چپ کامل کن



۴

۱۱. در جای خالی عدد مناسب بنویس




شمع شماره ۱ ..... کوتاه ترین شمع است .

شمع شماره ۱ ---- با شمع شماره ۱ ---- هم اندازه است .

۱

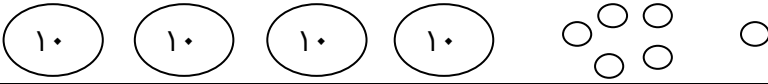
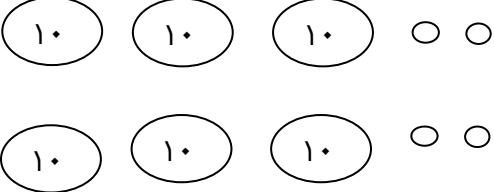
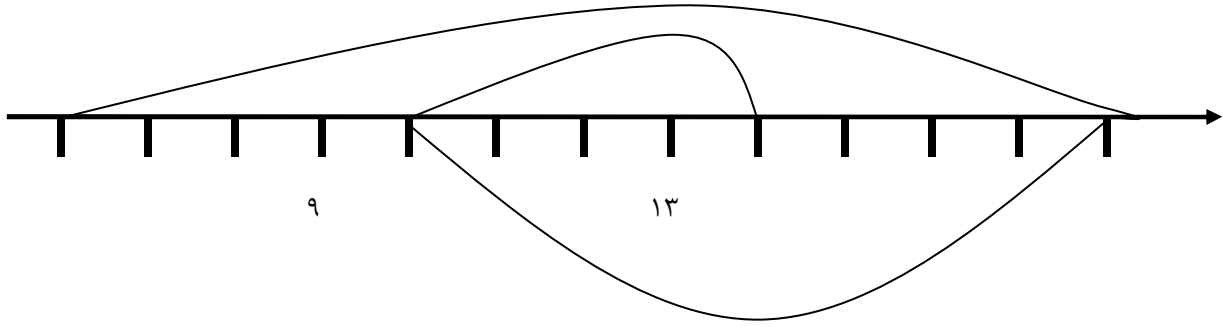
۱۲. الگو را ادامه بده



۲

اداره ی کل آموزش و پرورش شهر تهران  
 اداره ی آموزش و پرورش شهر تهران منطقه ۴ تهران  
 دبستان غیر دولتی دخترانه سرای دانش واحد رسالت  
**کلید** سوالات جمع بندی پایان ترم نوبت دوم سال تمصیلی ۱۴۰۲ - ۱۴۰۱

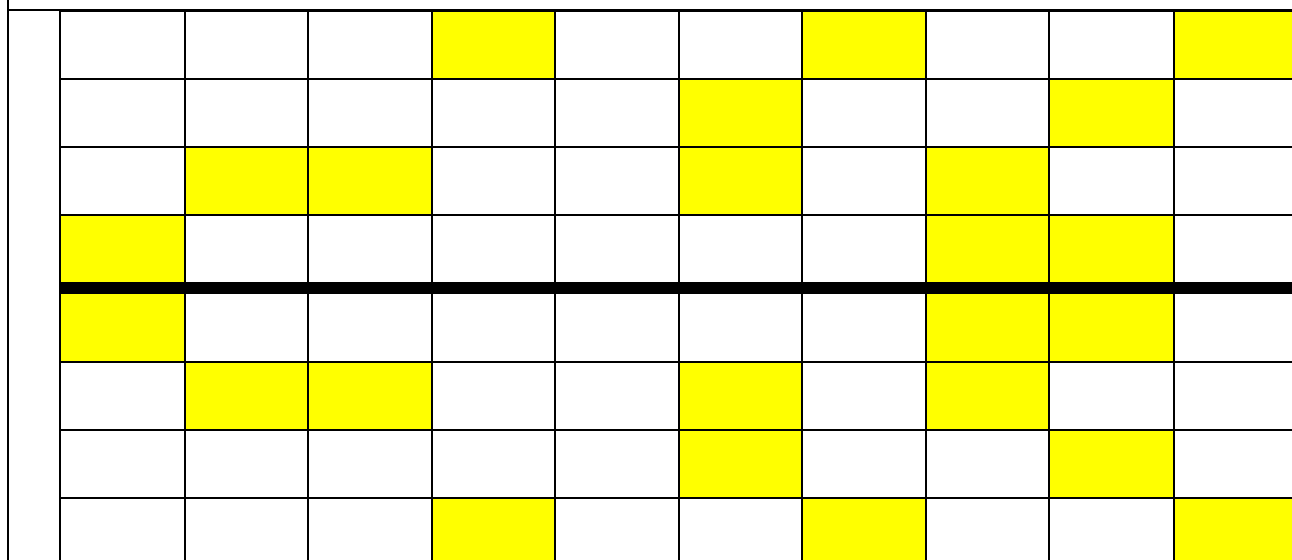
نام درس: ریاضی  
 نام دبیره: رضازاده  
 تاریخ امتحان: ۱۴۰۲/۰۲/۲۳  
 ساعت امتحان: ۰۷:۳۰ صبح / عصر  
 مدت امتحان: ۹۰ دقیقه

ردیف	راهنمای تصحیح محل مهر یا امضاء مدیر
۱	۲۸, بیست و هشت
۲	چهل و شش 
۳	۴۴-۴۳-۴۲-۴۱-۴۰-۳۹-۳۸-۳۷-۳۶ ۷۴-۷۳-۷۲-۷۱-۷۰-۶۹-۶۸-۶۷-۶۶
۴	$۱۷ < ۳۵$ $۶۰ = ۶۰$
۵	۵۰-۴۵-۴۰-۳۵-۳۰-۲۵-۲۰-۱۵ ۷۰-۶۰-۵۰-۴۰-۳۰-۲۰-۱۰
۶	۶۴ 
۷	
۸	$۱۳ - ۶ = ۷$

۱۰ و ۱۱

۹

ساعت ۱۲

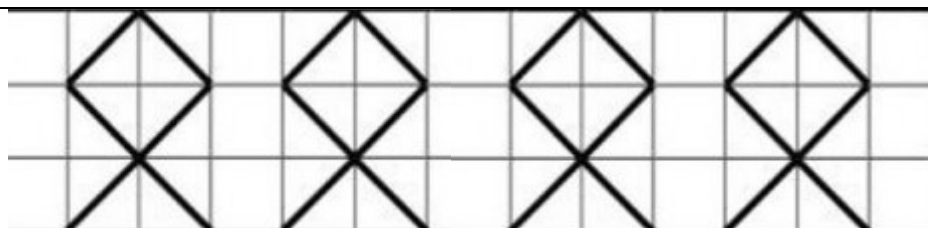


۱۰

۳

۱ و ۴

۱۱



۱۲

امضا :

نام و نام خانوادگی مصحح : رضازاده

جمع بارم : ۲۰ نمره

