

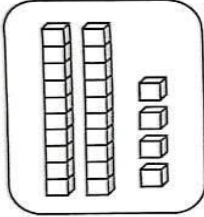
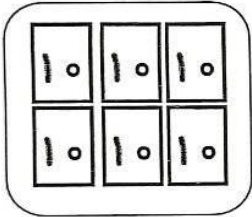
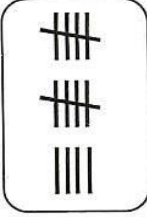
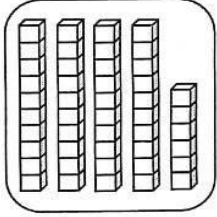
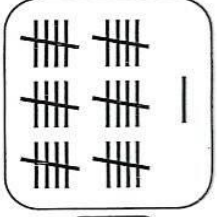


نام درس: ریاضی
نام دبیر: سپیده تشکری- ندا سلیمانی

جمهوری اسلامی ایران
اداره ی کل آموزش و پرورش شهر تهران
اداره ی آموزش و پرورش شهر تهران منطقه ۲ تهران
دبستان غیردولتی پسرانه سرای دانش واحد مرزداران
آزمون ارزشیابی توصیفی نوبت دوم سال تحصیلی ۱۴۰۲-۱۴۰۱

نام و نام خانوادگی:
.....
مقطع و رشته: اول دبستان
تعداد صفحه سؤال: ۴ صفحه

ردیف	سؤالات	شماره
	<p>پسر توانمند برای عدد سمت چپ چوب خط بکش و برای عدد سمت راست شکل بکش .</p> <div style="display: flex; justify-content: space-around; align-items: center;"><div style="border: 1px solid black; border-radius: 20px; padding: 20px; width: 150px; text-align: center; font-size: 2em;">۱۹</div><div style="border-left: 1px solid black; border-right: 1px solid black; height: 100px; width: 10px;"></div><div style="border: 1px solid black; border-radius: 20px; padding: 20px; width: 150px; text-align: center; font-size: 2em;">۲۲</div></div>	۱
	<p>باهوش من شکل هارا دسته بندی کن و در جاهای خالی عدد مناسب بنویس</p> <div style="display: flex; justify-content: space-between;"><div data-bbox="188 913 660 1272" style="border: 1px solid black; padding: 10px;"></div><div data-bbox="810 1146 1407 1191" style="text-align: center;">— دسته ی سه تایی و — دسته ی یکی</div></div> <div style="display: flex; justify-content: space-between; margin-top: 20px;"><div data-bbox="175 1294 750 1653" style="border: 1px solid black; padding: 10px;"></div><div data-bbox="849 1527 1407 1572" style="text-align: center;">— دسته ی ده تایی و — دسته ی یکی</div></div>	۲
	<p>ریاضیدان کوچک عدد مناسب هر شکل را بنویس</p> <div style="display: flex; justify-content: space-around; align-items: flex-end;"><div data-bbox="226 1818 430 2132" style="border: 1px solid black; border-radius: 15px; padding: 10px; text-align: center;"> <input style="width: 50px; height: 30px;" type="text"/></div><div data-bbox="469 1818 721 2132" style="border: 1px solid black; border-radius: 15px; padding: 10px; text-align: center;"> <input style="width: 50px; height: 30px;" type="text"/></div><div data-bbox="756 1818 903 2132" style="border: 1px solid black; border-radius: 15px; padding: 10px; text-align: center;"> <input style="width: 50px; height: 30px;" type="text"/></div><div data-bbox="941 1818 1158 2132" style="border: 1px solid black; border-radius: 15px; padding: 10px; text-align: center;"> <input style="width: 50px; height: 30px;" type="text"/></div><div data-bbox="1197 1818 1414 2132" style="border: 1px solid black; border-radius: 15px; padding: 10px; text-align: center;"> <input style="width: 50px; height: 30px;" type="text"/></div></div>	۳

پسرم با توجه به شکل ها جمع و تفریق بنویس.

The image shows two rows of base ten blocks. The top row shows two groups of blocks: one with 3 tens rods and one with 4 tens rods. Below them is an addition equation: $\square + \square = \square$. The bottom row shows a group of 4 tens rods, with the last one crossed out with an X. Below it is a subtraction equation: $\square - \square = \square$.

۴

نوشتن عددها را ادامه بده

۴۷-۴۸ - - - - -

۱۴-۱۳ - - - - -

۷۳-۷۴ - - - - -

۵

عدد ها را بخوان با رقم یا حروف بنویس عزیزم .

The image shows a grid of cartoon characters holding signs. The top row has four characters: the first holds a sign with the number ۴۶, the second holds a blank sign, the third holds a sign with the number ۷۳, and the fourth holds a blank sign. Below each sign is a box with a horizontal line and a Persian word: 'نود و هشت' (under the blank sign), 'شانزده' (under the blank sign), and 'شصت و سه' (under the blank sign). The bottom row has four characters: the first holds a blank sign, the second holds a sign with the number ۳۱, the third holds a blank sign, and the fourth holds a sign with the number ۵۴. Below each sign is a box with a horizontal line and a Persian word: 'هشتاد و هفت' (under the blank sign).

۶

گل پسر مسئله زیر را با چوب خط حل کن .

رضا ۱۴ بادکنک داشت ۴ تا از بادکنک ها ترکیدها حالا رضا چند بادکنک دارد ؟

۷

جمع و تفریق های زیر را ذهنی حل کن دلبندم .

$$۶۰ - ۲۰ =$$

$$۱۰ + ۲۰ + ۳۰ =$$

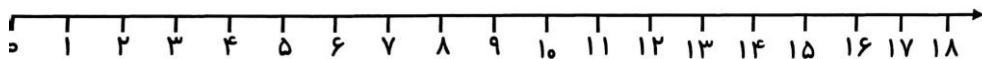
$$۳ + ۲ + ۱۷ =$$

۸

گل پسر مسئله را با محور انجام بده .

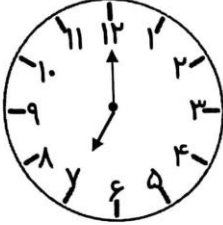
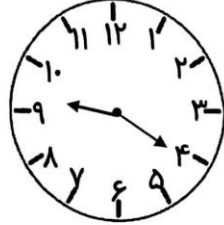
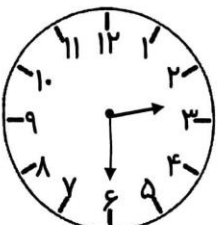

مهدی از گل فروشی ۲ شاخه گل مریم خرید ۳ شاخه گل رز و ۷ شاخه گل داوودی حالا مهدی چند شاخه گل دارد ؟

۹



پسر توانمندم جاهای خالی را با عدد مناسب پر کن.

۱۰

			
ساعت است.	ساعت از گذشته است.	زمان بین و است.	کسی به ساعت مانده است.

الگوی شمارش را ادامه بده عزیزم.

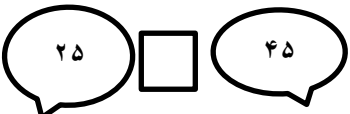
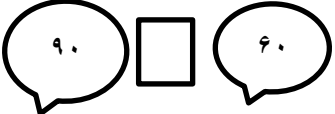
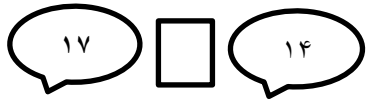
۲ - ۶ - - - - -

۱۰ - ۲۰ - - - - -

- - - - - ۲۲ - ۲۵ -

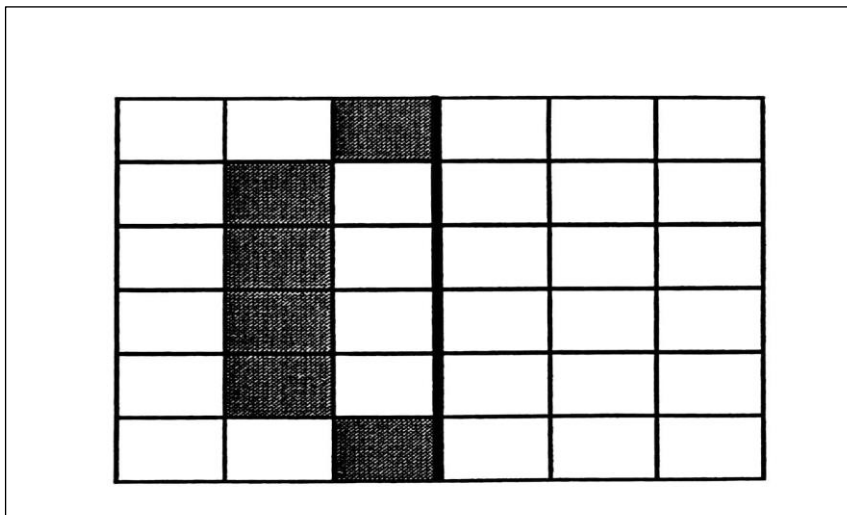
۱۱

گل پسر اعداد را مقایسه کن علامت <=> بگذار .

		
--	--	--

۱۲

مربع ها را طوری رنگ بزن که دو نیمه آن مثل هم باشد.



۱۳

دست پرتوان عزیزم



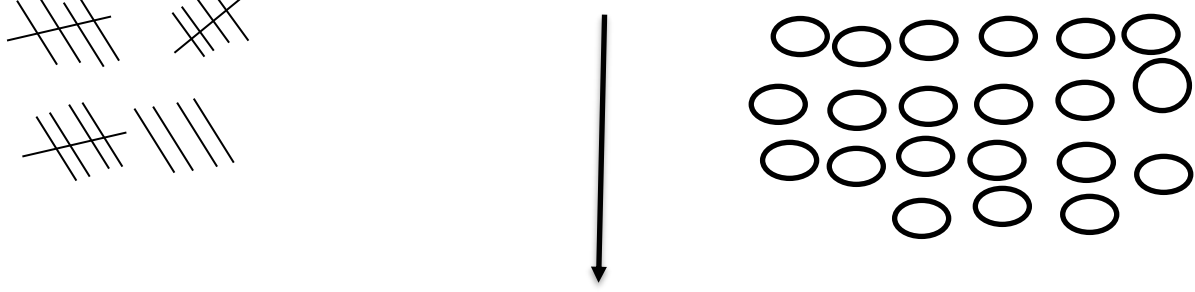
نقاط قوت

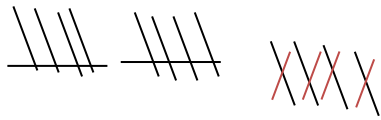
نقاط ضعف

ارزیابی آموزگار:

نام درس: ریاضی
 نام دبیر: سپیده تشکری - نداسلیمانی

اداره ی کل آموزش و پرورش شهر تهران
 اداره ی آموزش و پرورش شهر تهران منطقه ۲ تهران
 پیش دبستان و دبستان غیر دولتی پسرانه سرای دانش واحد مرزداران
 کلید سؤالات ارزشیابی توصیفی نوبت دوم سال تحصیلی ۱۴۰۱-۱۴۰۲

ردیف	راهنمای تصحیح	محل مهر یا امضاء مدیر
۱		
۲	<p>۴ دسته ی سه تایی و ۲ دسته ی یکی</p> <p>۲ دسته ی ده تایی و دو دسته ی یکی</p>	
۳	<p>به ترتیب از چپ به راست</p> <p>۲۴- ۶۰- ۱۹- ۴۵- ۳۱</p>	
۴	<p>$۴۰+۳۰= ۷۰$</p> <p>$۱۰-۵۰=۴۰$</p>	
۵	<p>۵۴-۵۳-۵۲-۵۱-۵۰-۴۹-۴۸-۴۷</p> <p>-۲۰-۱۹-۱۸-۱۷-۱۶-۱۵-۱۴-۱۳</p> <p>۸۰-۷۹-۷۸-۷۶-۷۵-۷۴-۷۳</p>	
۶	<p>به ترتیب از راست به چپ</p> <p>۱۶-هفتاد و سه - ۹۸-چهل و شش - پنجاه و چهار - ۸۷-سی و یک - ۶۳</p>	



$4-14=10$

۷

حالا رضا ۱۰ بادکنک دارد .

به ترتیب از راست به چپ

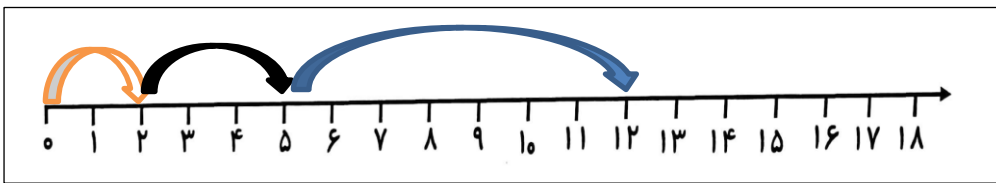
۸

$22-70-40$

$2+3+7=12$

مهدی ۱۲ شاخه گل دارد

۹



به ترتیب از راست به چپ

۱۰

کمی به ۵ مانده است زمان بین ۲ و ۳ است

ساعت از ۳ گذشته ساعت ۷ است

$16-14-12-10-8-6-4-2$

$70-60-50-40-30-20-10$

$19-16-13-10-9-25-22$

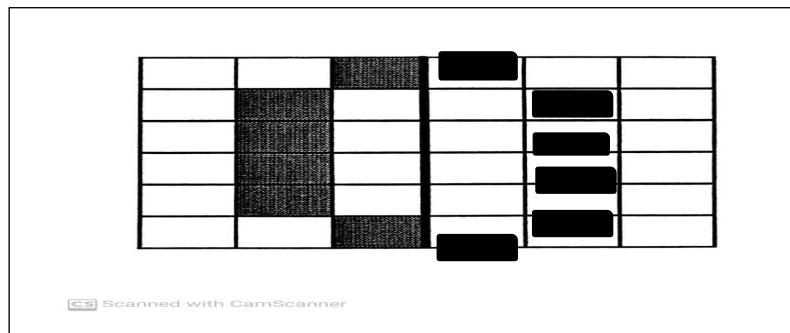
۱۱

$17 > 14$

$90 > 60$

$25 < 45$

۱۲



۱۳

امضاء:

نام و نام خانوادگی مصحح :