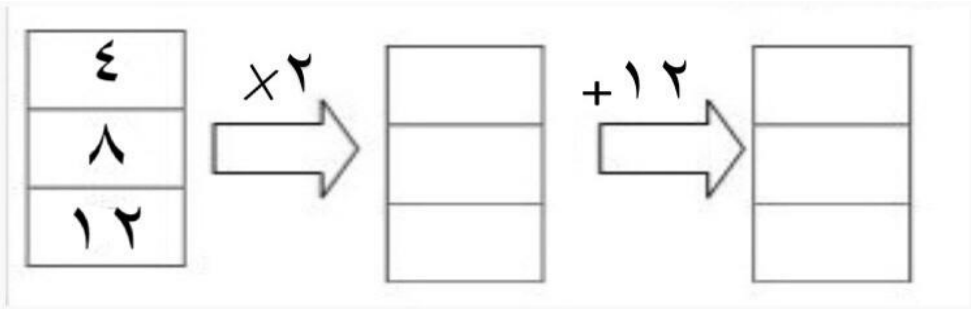


نام و نام خانوادگی: .....  
 مقطع و رشته: چهارم ابتدایی  
 نام پدر: .....  
 شماره داوطلب: .....  
 تعداد صفحه سؤال: ۲ صفحه

جمهوری اسلامی ایران  
 اداره ی کل آموزش و پرورش شهر تهران  
 اداره ی آموزش و پرورش شهر تهران منطقه ۴ تهران  
 دبستان غیردولتی دخترانه سرای دانش واحد رسالت  
 آزمون پایان نوبت اول سال تحصیلی ۱۴۰۱-۱۴۰۰

نام درس: ریاضی  
 نام دبیر: شیرین پور رحیمی  
 تاریخ امتحان: ۱۴۰۰/۱۰/۰۸  
 ساعت امتحان: ۰۸:۰۰ صبح/عصر  
 مدت امتحان: ۶۰ دقیقه

محل مهر و امضاء مدیر	نمره به عدد:	نمره به حروف:	نمره به عدد:	نمره به حروف:
	نام دبیر:	تاریخ و امضاء:	نام دبیر:	تاریخ و امضاء:
نام	سوالات			
۱	عدد ۵۷۸۹۰۰۵ را به حروف بنویسید .			
۱	عدد مخلوط $2\frac{1}{3}$ را با رسم شکل نشان دهید .			
۲	در مزرعه ای $\frac{5}{20}$ مزرعه را گندم و $\frac{7}{20}$ مزرعه را جو کاشته اند . چه کسری از این مزرعه را گندم و جو کاشته اند ؟ چه کسری باقی مانده است ؟			
۲	حاصل کسرهایی زیر را بدست آورید . $\frac{4}{12} + \frac{1}{6} =$ $\frac{7}{13} - \frac{3}{13} =$ $5 \times \frac{7}{9}$			
۳	ماشین ورودی خروجی زیر را کامل کنید . 			
۲	صدا در هر ثانیه مسافتی در حدود ۳۴۰ متر را طی می کند . در ۵ ثانیه چه مسافتی را طی می کند ؟			

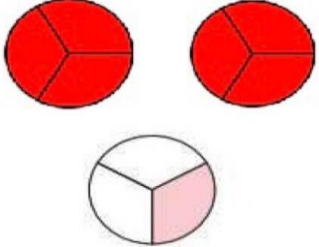
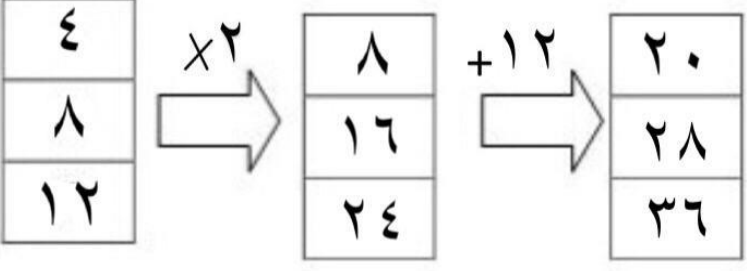
۲	<p>حاصل جمع و ضرب زیر را به صورت تقریبی بدست آورید . ( عدد ها را به نزدیک ترین ده تایی تقریب بزنید ) .</p> <p>۶۷+۲۳</p> <p>۷۳×۲۵</p>	۷
۱/۵	<p>حاصل ضرب زیر را بدست آورید .</p> $\begin{array}{r} ۲۵۳ \\ \times ۲۲۴ \\ \hline \end{array}$	۸
۱/۵	<p>بهار ۱۳ سال دارد . سن مادر بهار از ۳ برابر سن او ۲ سال بیشتر است . مادر بهار چند سال دارد ؟</p>	۹
۴	<p>الگوهای عددی زیر را ادامه دهید .</p> <p>۲۰ - ۱۵ - ۱۰ - ۵ - ..... - ..... - .....</p> <p>۱۷ - ۲۰ - ۲۳ - ۲۶ - ..... - .....</p> <p>۲۰ - ۱۸ - ۱۶ - ۱۴ - ..... - ..... - .....</p>	۱۰
صفحه ۲ از ۲		

جمع بارم : ۲۰ نمره



اداره ی کل آموزش و پرورش شهر تهران  
 اداره ی آموزش و پرورش شهر تهران منطقه ۴ تهران  
 دبستان غیر دولتی دخترانه سرای دانش واحد رسالت  
**کلید** سوالات پایان نوبت اول سال تحصیلی ۱۴۰۱-۱۴۰۰

نام درس:  
 نام دبیر: شیرین پور رحیمی  
 تاریخ امتحان: ۱۴۰۰/۱۰/  
 ساعت امتحان: ۸:۰۰ صبح / عصر  
 مدت امتحان: ۶۰ دقیقه

ردیف	راهنمای تصحیح	محل مهر یا امضاء مدیر
۱	پنج میلیون و هفتصد و هشتاد و نه هزار و پنج	
۲		
۳	$\frac{5}{20} + \frac{7}{20} = \frac{12}{20}$ $\frac{20}{20} - \frac{12}{20} = \frac{8}{20}$	
۴	$\frac{4}{12} + \frac{1}{6} = \frac{4}{12} + \frac{2}{12} = \frac{6}{12}$ $\frac{7}{13} - \frac{3}{13} = \frac{4}{13}$ $\frac{35}{9}$	
۵		
۶	۱۷۰۰	
۷	۹۰ ۲۱۰۰	
۸	۵۶۶۷۲	
۹	۴۱	

۵ - ۱۰ - ۱۵ - ۲۰ - ۲۵ - ۳۰ - ۳۵ ۱۷ - ۲۰ - ۲۳ - ۲۶ - ۲۹ - ۳۲ ۲۰ - ۱۸ - ۱۶ - ۱۴ - ۱۲ - ۱۰ - ۸	۱۰
نام و نام خانوادگی مصحح: شیرین پور رحیمی	جمع بارم: ۲۰ نمره
امضاء:	