

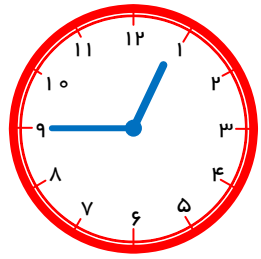
نام و نام خانوادگی:
 مقطع و رشته:
 نام پدر:
 شماره داوطلب:
 تعداد صفحه سؤال: ۳ صفحه

جمهوری اسلامی ایران
 اداره ی کل آموزش و پرورش شهر تهران
 اداره ی آموزش و پرورش شهر تهران منطقه ۷ تهران
 دبستان غیردولتی پسرانه سرای دانش واحد شریعتی
 آزمون پایانترم دوم سال تحصیلی ۱۴۰۱-۱۴۰۰

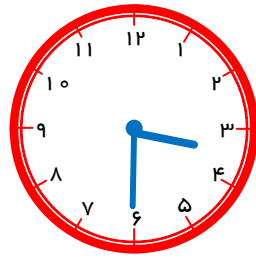
نام درس: ریاضی
 نام دبیر: فائزه فتحی
 تاریخ امتحان: / / ۱۴۰۱
 ساعت امتحان: : :
 مدت امتحان: ۶۰ دقیقه

ردیف	سؤالات	نمره								
۱	<p>الگورا ادامه دهید.</p>									
۲	<p>حاصل عبارت های زیر را با چوب خط حل کنید و جواب را با عدد بنویسید.</p>									
۳	<p>جواب جمع و تفریق های زیر را بنویسید.</p> <p> $۲۵-۵=$ $۷۵+۵=$ $۶۰+۱۰=$ $۱۰+۵+۵=$ $۴۵-۵=$ $۹۰+۱۰=$ $۲۰+۳۰+۱۰=$ $۱۵+۵+۵=$ $۱۵-۵=$ $۶۳+۲=$ $۵+۵+۱۰+۱۰=$ $۳۵+۱۵=$ $۶۵-۵=$ $۷۰+۱۰=$ $۴۰+۳۰=$ $۱۰+۱۰+۵+۲=$ </p>									
۴	<p>جمع های مختلف عدد را بنویسید.</p> <table border="1" style="width: 100%; border-collapse: collapse;"> <tr> <td style="width: 25%; text-align: center;">۷</td> <td style="width: 25%;"></td> <td style="width: 25%;"></td> <td style="width: 25%;"></td> </tr> <tr> <td style="text-align: center;">۵</td> <td></td> <td></td> <td></td> </tr> </table>	۷				۵				
۷										
۵										

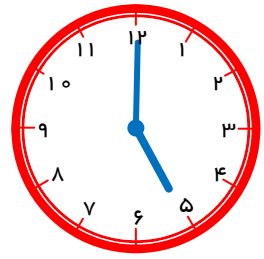
به ساعت ها نگاه کنید و جاهای خالی را کامل کنید.



کمی مانده به ساعت است.



ساعت بین و است.



ساعت است.

۹

کامل کنید.

(ب) ۴ ده تایی و ۱ یکی می شود

(الف) ۳۵ می شود ده تایی و یکی

(د) ۸ ده تایی و ۰ یکی می شود

(ج) ۱۸ می شود ده تایی و یکی

(ر) ۱ ده تایی و ۴ یکی می شود

(ذ) ۷۱ می شود ده تایی و یکی

(ی) ۸ ده تایی و ۶ یکی می شود

(ن) ۳۶ می شود ده تایی و یکی

۱۰

فاطمه ۸ شاخه گل به کلاس آورد و ۵ شاخه را روی میز آموزگار گذاشت. با کمک محور نشان دهید که چند شاخه گل هنوز در دستش باقی مانده است؟

۱۱

علی ۲ بسته ده تایی مداد خرید. پدرش ۱ بسته ده تایی دیگر برای او خرید. علی چند مداد دارد؟

۱۲

رضا ۴۰ توپ داشت. ۱۰ توپ را به خواهرش داد. ۵ توپ دیگر هم به دوستش داد. حالا او چند توپ دارد؟

۱۳