

نام و نام خانوادگی:

مقطع و رشته: دهم انسانی

نام پدر:

شماره داوطلب:

تعداد صفحه سؤال: ۲ صفحه

جمهوری اسلامی ایران

اداره ی کل آموزش و پرورش شهر تهران

اداره ی آموزش و پرورش شهر تهران منطقه ۶/۴ تهران

دبیرستان غیردولتی سرای دانش

آزمون پایان ترم نوبت اول سال تحصیلی ۱۴۰۳-۱۴۰۲

نام درس: منطق

نام دبیر: سرای دانش

تاریخ امتحان: ۱۰/۱۰/۱۴۰۲

ساعت امتحان: ۰۰:۰۸ صبح / عصر

مدت امتحان: ۷۰ دقیقه

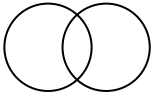
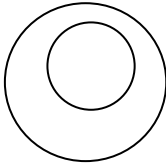
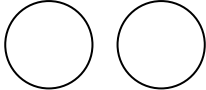
نمره به عدد:		نمره به حروف:	
نام دبیر:		نام دبیر:	
تاریخ و امضا:		تاریخ و امضا:	
نمره به عدد:		نمره به حروف:	
نام دبیر:		نام دبیر:	
تاریخ و امضا:		تاریخ و امضا:	
ردیف	سؤالات	ردیف	سؤالات
۱	دانش بشری به دو حیطة و تقسیم می شود.	۰/۵	
۲	در تعریف با دسته بندی ویژگی های یک مفهوم به ویژگی مشترک با سایر مفاهیم مشابه و ویژگی خاص آن، به تعریف مفهوم می پردازیم.	۰/۲۵	
۳	الف: شرایط استقرای تعمیمی قوی را نام ببرید. یک شرط را به دلخواه با مثال توضیح دهید. ب: در صورتی که استقرای تعمیمی ما ضعیف باشد، گرفتار چه نوع مغالطه ای هستیم؟	۱/۲۵	
۴	قضیه ی حملی قضیه ای است که در آن به یا چیزی برای چیزی حکم می شود.	۰/۵	
۵	کدام یک از عبارت های زیر «تصور» و کدام یک «تصدیق» است؟ الف: مزارع کنار جاده ب: همه وسایل پذیرایی برای شما مهیا است ج: پری دریایی زیبا است د: دوست عزیزم	۱	
۶	نوع «دلالت» الفاظ زیر را مشخص کنید. الف: متاسفانه کتاب شما را گم کردم. ب: کله اش بوی قرمه سبزی می دهد. ج: موبایلم خراب شده، باید ببرم تعمیرات د: با حرفی که زدم میخکوب شد.	۱	
۷	در عبارت های زیر کدام «مغالطه» به کار رفته است؟ دلیل انتخاب خود را بیان کنید. الف: رضا گفت که من باید به کارخانه بروم. ب: علی تصدیق رانندگی دارد و تصدیق در منطق بحث می شود، پس او منطق بلد است. ج: مطلب ارائه شده توسط شیرین مورد ارزیابی قرار گرفت. د: اولی: به نظرم با این موسسه وارد کار نشوید. آبی از آنها گرم نمی شود. دومی: اشکال نداره آب را روی اجاق گاز گرم می کنیم.	۲	
۸	کدام مفهوم «کلی» است و کدام مفهوم «جزئی»؟ دلیل انتخاب خود را بیان کنید. الف: همان نوشیدنی همیشگی ب: راهنمای مسافرات نوروزی ج: قلعه فلک الافلاک د: برادر سپیده	۱	
۹	میان مفاهیم زیر چه نوع نسبتی از نسبت های چهارگانه برقرار است؟ با رسم شکل آن را مشخص کنید. الف: ترش - لواشک	۱/۵	

	ب: دانش - منطق ج: انسان - کاکتوس	
۰/۷۵	با توجه به شکل زیر نوع نسبت‌های مفاهیم را مشخص کنید:  <p>۱. الف و ب ۲. ج و ب ۳. الف و ج</p>	۱۰
۰/۷۵	مفاهیم زیر را طبقه بندی کنید: ورزش - فوتبال - هندبال - ورزش‌های بدون توپ - دو میدانی - ورزش‌های توپی	۱۱
۱/۵	نوع تعریف‌های زیر را مشخص کنید: الف: به کرات پلوتون، مشتری و عطارد، سیاره می‌گویند. ب: کتان: پارچه‌ای که از گل پنبه تهیه می‌شود. ج: فارسی معرب کلمه پارسی است.	۱۲
۱	کدام یک از شرایط تعریف صحیح در تعریف‌های زیر رعایت نشده است؟ الف: مربع: شکلی دارای چهار ضلع ب: خدا: واجب‌الوجود بالذات ج: پلنگ: حیوان پستاندار درنده د: حرکت: عدم سکون، سکون: عدم حرکت	۱۳
۲	مشخص کنید کدام استدلال «قیاسی» و کدام «استقرایی» است. سپس نوع استدلال‌های استقرایی را بنویسید. الف: سگ گله هنگام دزدیده شدن گوسفندان پارس نکرده، پس حتماً دزد غریبه نیست. ب: ماه تولد مریم با برادرش یکی است. بنابراین او خلق و خوی برادرش را دارد. ج: دو سوال این کتاب ایراد داشت، پس سوالات این کتاب ایراد دارند. د: از آنجا که هر فلز گرما را منتقل می‌کند و این قاشق فلزی است، پس این قاشق گرما را منتقل می‌کند.	۱۴
۰/۵	نوع مغالطه‌ی استدلال زیر را مشخص کنید و دلیل انتخاب خود را بیان کنید: رانندگی من با پراید خیلی خوب است، پس می‌توانم تراکتور را هم خوب برانم.	۱۵
۲/۵	«اقسام قضایای» زیر را مشخص کنید: الف: بعضی الف ب نیست. ب: همه انسان‌ها به توجه نیاز دارند. ج: آسیا بزرگترین قاره جهان است. د: برخی از فلاسفه کتابی ننوشته‌اند. ه: اگر الان حرکت نکنی به کلاست نمی‌رسی.	۱۶
۲	«اجزای قضیه» حملی زیر را مشخص کنید: الف: هیچ چیزی بی‌هدف نیست. ب: هر کس سهم خودش را می‌دهد.	۱۷



اداره ی کل آموزش و پرورش شهر تهران
 اداره ی آموزش و پرورش شهر تهران منطقه تهران
 دبیرستان غیر دولتی دخترانه سرای دانش
کلید سؤالات پایان ترم نوبت اول سال تحصیلی ۱۴۰۲-۱۴۰۳

نام درس: منطق
 نام دبیر: سرای دانش
 تاریخ امتحان: ۱۰ / ۱۰ / ۱۴۰۲
 ساعت امتحان:
 صبح / عصر
 مدت امتحان: ۷۰ دقیقه

ردیف	راهنمای تصحیح	محل مهر یا امضاء مدیر
۱	تصور - تصدیق	
۲	مفهومی ۵	
۳	الف: ۱. نمونه‌ها باید تصادفی باشند. ۲. نمونه‌ها باید متفاوت بوده و بیانگر همه طیف‌های مختلفی باشند که در جامعه آماری ما وجود دارند. ۳. تعداد نمونه‌ها باید نسبت به کل جامعه آماری نسبت مناسبی داشته باشند. توضیح مورد سوم: به عنوان مثال، نتایج حاصل از آماری که از ۱۰ دبیرستان از مجموع ۲۰۰ دبیرستان به دست می‌آید، نمیتواند بیانگر کل دبیرستانها باشد. اما آماری که از ۱۷۰ دبیرستان به دست آمده است، تا حد زیادی قابل تعمیم به ۲۰۰ دبیرستان خواهد بود. ب: مغالطه تعمیم شتابزده	
۴	ثبوت - نفی	
۵	الف: تصور ب: تصدیق ج: تصدیق د: تصور	
۶	الف: مطابقی ب: التزامی ج: تضمینی د: التزامی	
۷	الف: ابهام در مرجع ضمیر: ضمیر من مبهم است که به گوینده بر میگردد یا به رضا ب: اشتراک لفظ در کلمه تصدیق ج: شیوه نگارش کلمات: جمله نیاز به ویرگول دارد. بعد از ارائه شده یا بعد از شیرین د: توسل به معنای ظاهری: آبی گرم نشدن کنایه از بی فایده بودن است اما معنای ظاهری آن در نظر گرفته شده	
۸	الف: جزئی: به خاطر وجود همان بر سر عبارت ب: کلی: راهنما نه اسم خاص است نه این و آن دارد ج: جزئی: اسم خاص د: کلی: برادر نه اسم خاص است نه این و آن دارد	
۹	الف: عموم و خصوص من وجه ب: عموم و خصوص مطلق ج: تباین	  
۱۰	۱: عموم و خصوص من وجه ۲: عموم و خصوص مطلق	

	۳: تباین	
	<p>ورزش</p> <p>ورزش های توپی } فوتبال هندبال</p> <p>ورزشهای بدون توپ } دومیدانی</p>	۱۱
	<p>الف: تعریف با ذکر مصداق</p> <p>ب: مفهومی</p> <p>ج: لفظی یا لغوی</p>	۱۲
	<p>الف: مانع نیست</p> <p>ب: واضح نیست</p> <p>ج: مانع نیست</p> <p>د: دوری است</p>	۱۳
	<p>الف: استقرایی : استنتاج بهترین تبیین</p> <p>ب: استقرایی: استقرای تمثیلی</p> <p>ج: استقرایی : استقرای تعمیمی</p> <p>د: استدلال قیاسی</p>	۱۴
	تمثیل ناروا. هر دو از لحاظ رانندگی بودن شبیه همنند. اما دلیل نمیشود که اگر رانندگی ام در پایه ۲ خوب است در پایه ۱ هم خوب باشم	۱۵
	<p>الف: سالبه جزئیه</p> <p>ب: موجب کلیه</p> <p>ج: موجب شخصیه</p> <p>د: سالبه جزئیه</p> <p>ه: قضیه شرطیه</p>	۱۶
	<p>الف: هیچ: سور ، چیزی: موضوع ، بی هدف: محمول ، نیست: رابطه</p> <p>ب: هر کس دهنده سهم خویش است.</p> <p>هر: سور، کس: موضوع، دهنده سهم خویش: محمول، است: رابطه.</p>	۱۷
امضاء:	نام و نام خانوادگی مصحح :	جمع بارم : ۲۰ نمره