


| ردیف | سؤالات | نمره |
|------|---|------|
| | <p>۱- با دو کارت عدد دورقمی بسازید .</p> <p>با عدد های ۷ و ۸ و ۰ عدد دورقمی بسازید .</p> <p>۲- بزرگ ترین عدد دورقمی است .</p> <p>یکان عددی ۸ و دهگان آن ۲ می باشد آن عدد چیست ؟</p> <p>یکان عددی ۳ و دهگان آن ۵ تا بیشتر می باشد آن عدد چیست ؟</p> <p>۹ دسته ی ده تایی منهای دسته ده تایی می شود ۴ دسته ده تایی</p> <p>۳ دسته ی ده تایی به اضافه ی ۴ دسته ده تایی می شود دسته ده تایی</p> <p>۳- حاصل را بدست آورید .</p> $40 + 10 + 10 + 5 =$ $60 - 20 =$ $20 + 30 + 4 + 10 + 5 =$ $50 - 20 =$ <p>۴- الگو را ادامه بده</p> <p>۱۰ - ۲۰ - ۳۰ - - - - -</p> <p>۷ - ۱۴ - - - - -</p> <p>۹۶ - ۹۵ - ۹۴ - - - - -</p> <p>۵ - ۱۰ - - - - -</p> <p>۵- در دریاچه ای ۵۴ ماهی قرمز و ۲۶ ماهی سیاه برای پرورش ریختند در این دریاچه چه تعداد ماهی قرمز و سیاه ریختند ؟</p> <p>۶- ۶۷ ستاره در آسمان بود . ۲۸ تا از آن ها زیر ابر بودند چند تا ستاره در آسمان مانده است ؟</p> <p>۷- جواب سوال به صورت تقریبی به دست آورید</p> $\begin{array}{r} 56 \rightarrow \dots\dots \\ + \\ 24 \rightarrow \dots\dots \\ \hline \end{array}$ $\begin{array}{r} 86 \rightarrow \dots\dots \\ - \\ 32 \rightarrow \dots\dots \\ \hline \end{array}$ | |

۸- نام اشکال را بنویسید .



نام:

نام:

نام:

گوشه:

گوشه:

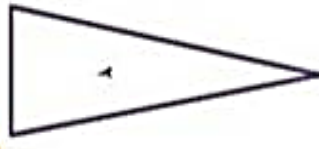
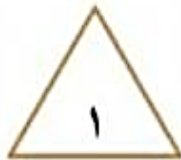
گوشه:

ضلع:

ضلع:

ضلع:

۹- تقارن شکل ها را بکش



۱۰- شباهت:

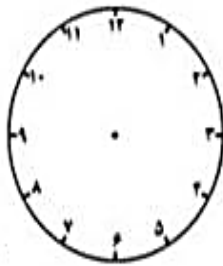
تفاوت:

$$\begin{array}{r} ۴ \ ۵ \\ + \\ ۲ \ ۵ \\ \hline \end{array}$$

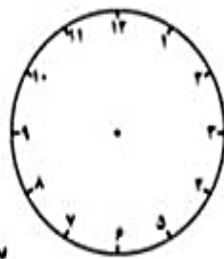
$$\begin{array}{r} ۴ \ ۶ \\ - \\ ۲ \ ۵ \\ \hline \end{array}$$

۱۱- جمع و تفریق را به صورت فرایندی حل کنید (با کمک شکل)

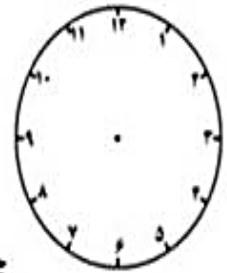
۱۲- ساعت را نشان بده



۸:۲۰



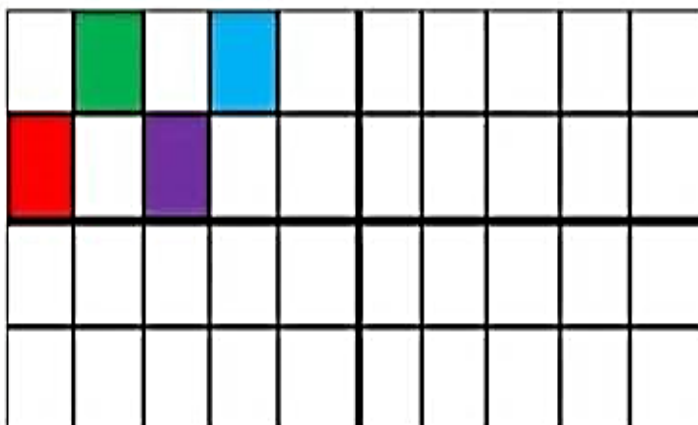
سه و ربع



چهار نیم

۱۳- تقارن دیگر را رنگ کنید .

خط تقارن خطی است

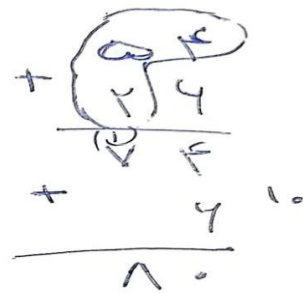





خدا قوت گلم



اداره ی کل آموزش و پرورش شهر تهران
 اداره ی آموزش و پرورش شهر تهران منطقه ۴ تهران
 دبستان غیر دولتی دخترانه سرای دانش واحد الغدير
کلید سؤالات میان ترم نوبت اول سال تمصیلی ۱۴۰۴ - ۱۴۰۳

نام درس: ریاضی
 نام دبیر: مدیث باب الموائجی
 تاریخ امتحان: ۲۸ / ۸ / ۱۴۰۳
 ساعت امتحان: ۸ صبح
 مدت امتحان: ۷۵ دقیقه

| ردیف | راهنمای تصحیح | محل مهر یا امضاء مدیر |
|------|---|-----------------------|
| ۱ | ۱- الف: ۶۳ و ۳۶ ب: ۷۰-۸۰-۸۷-۷۸ | |
| ۲ | ۲- الف: ۹۹ ب: ۲۸ ج: ۸۳ د: ۵ ه: ۷ | |
| ۳ | از سمت چپ بالا به ترتیب ۶۵ ۴۰ ۶۹ ۳۰ | |
| ۴ | ۴۰-۵۰-۶۰-۷۰-۸۰-۹۰-۱۰۰ ۲۱-۲۸-۳۵-۴۲-۴۹-۵۶-۶۳-۷۰ ۹۳-۹۲-۹۱-۹۰-۸۹-۸۸-۸۷ ۱۵-۲۰-۲۵-۳۰-۳۵-۴۰-۴۵-۵۰ | |
| ۵ |  <p>۸۰ عدد ماهی قرمز و سیاه ریختند</p> | |
| ۶ |  <p>۲۹ ستاره ماه نده است</p> | |
| ۷ |  | |
| ۸ | از شکل سمت راست به ترتیب شش ضلعی - ۶ گوشه و ۶ ضلع دارد. دایره - گوشه و ضلع ندارد. مثلث - ۳ گوشه و ۳ ضلع دارد. | |



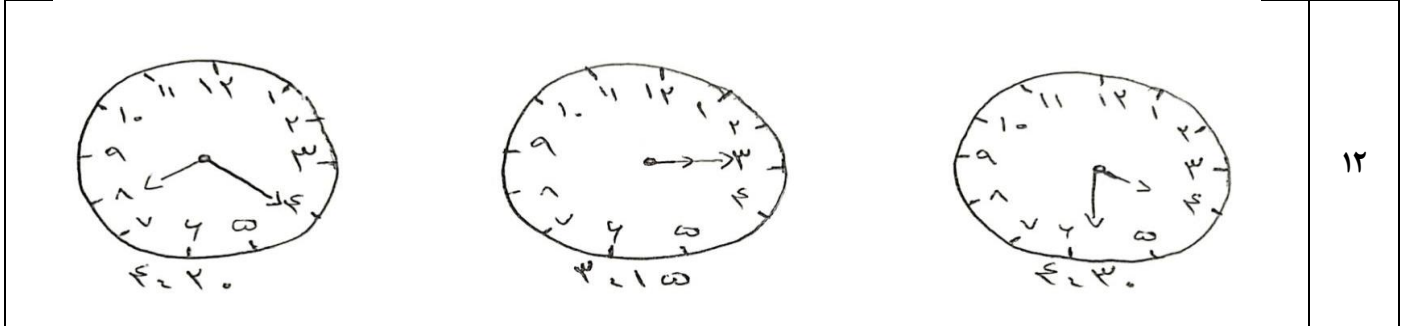
۹

شبهت: هر دو ۳ ضلع و ۳ گوشه دارند و مثلث هستند.
 تفاوت: در شکل یک تمامی ضلع ها مساوی هستند اما در شکل ۲ فقط ۲ ضلع رو به رو مساوی هستند - شکل دوم درازتر است.

۱۰

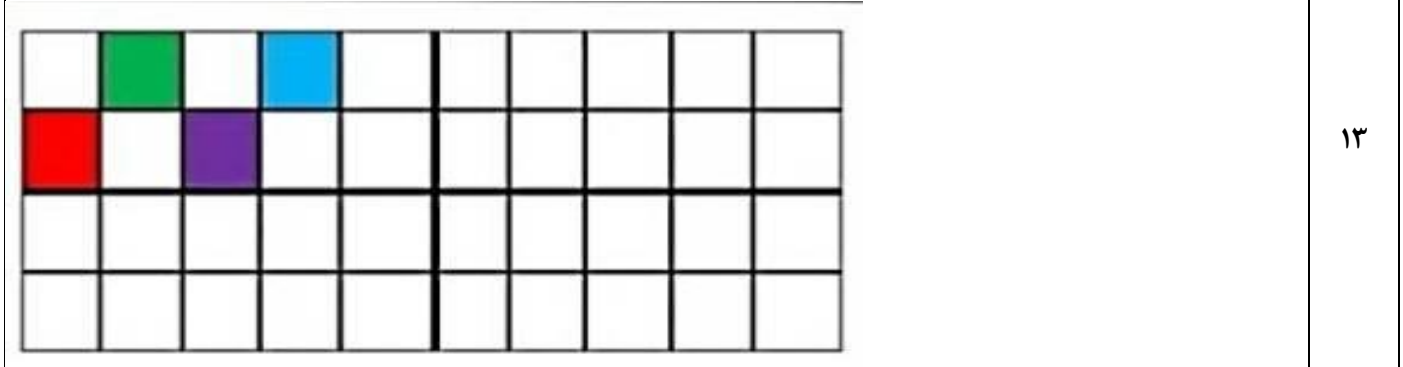


۱۱



۱۲

خط تقارن خطی است که شکل را به دو قسمت مساوی تقسیم می کند.



۱۳

| | | |
|--------|---------------------------|--------------------|
| امضاء: | نام و نام خانوادگی مصحح : | جمع بارم : ۲۰ نمره |
|--------|---------------------------|--------------------|