

نام و نام خانوادگی:

مقطع: دوم دبستان

نام پدر:

شماره داوطلب:

تعداد صفحه سؤال: ۳ صفحه

جمهوری اسلامی ایران

اداره ی کل آموزش و پرورش شهر تهران

اداره ی آموزش و پرورش شهر تهران منطقه ۷ تهران

دبستان غیردولتی پسرانه سرای دانش واحد شریعتی

آزمون پایان ترم نوبت دوم سال تحصیلی ۱۴۰۱-۱۴۰۰


نام درس: ریاضی

نام دبیر: زینب سراج

تاریخ امتحان: / / ۱۴۰۱

ساعت امتحان: : صبح / عصر

مدت امتحان: ۶۰ دقیقه

ردیف	سؤالات	نمره
	<p>با کارت اعداد زیر به سوالات پاسخ بده .</p> <div style="text-align: center;">  </div> <p>الف) چه عدد های سه رقمی می توان با این کارت ها ساخت ؟</p> <p>..... و و و و و</p> <p>ب) بزرگترین عدد کدام است ؟</p> <p>به عدد : به حروف :</p> <p>پ) کدام عدد ها یکان از دهگان کوچکتر است ؟</p> <p>..... و و</p> <p>ت) کدام عدد ها زوج است ؟</p> <p>..... و</p>	۱
	<p>یک مستطیل رسم کن که درازای آن ۵ سانتی متر و ۶ میلی متر و پهنای آن ۲ سانتی متر و ۴ میلی متر باشد.</p>	۲
	<p>علامت > = < بگذار .</p> <p style="text-align: center;">۶۵۸ ۶۸۵ ۸۷۹ ۸۹۹ ۴۳۱ ۳۹۸ ۲۳۴ 234</p>	۳

ساعت زیر را بخوان و به سوالات پاسخ بده.

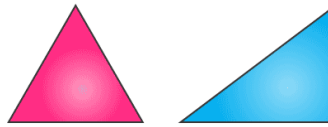


۴

الف) ساعت چند است ؟

ب) ده دقیقه قبل ساعت چند بوده است ؟

شباهت و تفاوت های این دو مثلث چیست ؟



۵

شباهت :

تفاوت :

با کمک شابلون رسم کن .

الف) یک شکل بکش که گوشه ندارد سپس یک خط تقارن برایش رسم کن.

ب) یک شکل بکش که چهار گوشه دارد و هر چهار ضلع آن با هم برابر است.

۶

به هر سوال با کمک سکه ها پاسخ بده .

الف) شکل رو به رو چند ریال را نشان می دهد ؟



۷

ب) ۷۶۸ ریال را با سکه نشان بده .

الگوهای زیر را ادامه بده .

۲۸۵-۲۹۰-۲۹۵-.....-.....-.....-

۱-۳-۵-۷-.....-.....-.....-

۸

جمع و تفریق های زیر را زیرهم بنویس سپس با کمک روش تکنیکی حل کن.

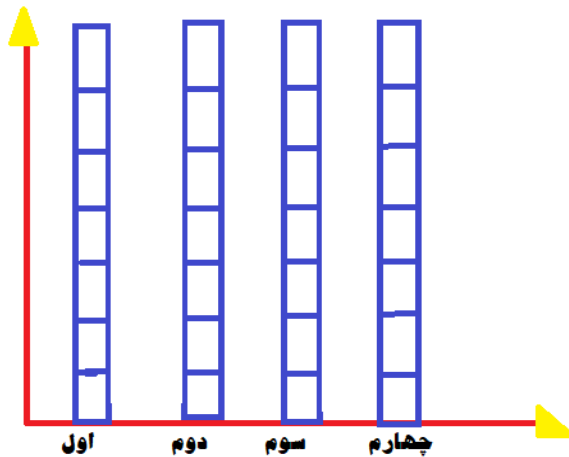
$$۲۳۸ + ۳۵۵$$

$$۶۱۱ - ۴۰۸$$

۹

جدول زیر تعداد دانش آموز های عینکی هر کلاس را نشان می دهد.

با توجه به جدول نمودار را کامل کن سپس به سوالات پاسخ بده.



تعداد	چوب خط	کلاس
۳		اول
۶		دوم
۵		سوم
۷		چهارم

۱۰

الف) تعداد عینکی های کدام کلاس بیشتر است ؟

ب) مجموع عینکی ها چند نفر است ؟

پدر سعید می خواهد کاشی ها اتاق سعید را عوض کند . او یکبار ۵۵ کاشی و یکبار دیگر ۳۷ کاشی خرید .

الف) او کلا چند کاشی خریده است ؟ (با روش فرایندی)

۱۱

ب) او امروز ۴۴ کاشی را استفاده کرد ، چند کاشی دیگر باقی مانده ؟ (با روش فرایندی)