

نام و نام خانوادگی: .....

مقطع و رشته: .....

نام پدر: .....

شماره داوطلب: .....

تعداد صفحه سؤال: ۲ صفحه

جمهوری اسلامی ایران

اداره ی کل آموزش و پرورش شهر تهران

اداره ی آموزش و پرورش شهر تهران منطقه ۴ تهران

دبستان غیردولتی دخترانه سرای دانش واحد رسالت

جمع بندی میان ترم دوم سال تمصیلی ۱۴۰۲ - ۱۴۰۱

نام درس: ریاضی چهارم

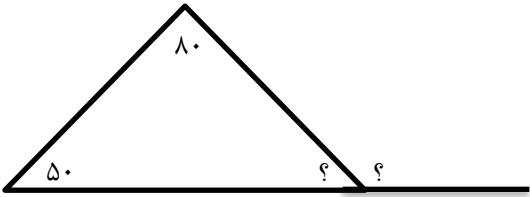

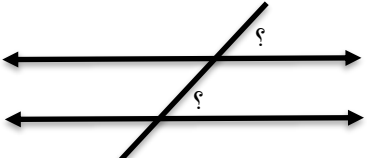
نام دبیر: پاکزاد

تاریخ امتحان: ...../...../۱۴۰۲

ساعت امتحان: ۳۰ : ۰۷ صبح / عصر

مدت امتحان: ۹۰ دقیقه

نام دبیر:	نمره به عدد:		نمره به حروف:	
	نام دبیر:	تاریخ و امضا:	نمره به عدد:	نمره به حروف:
محل مهر و امضا: مدیر				
ردیف	سؤالات			
۱	<p>پاسخ کوتاه دهید.</p> <p>الف) ارزش بزرگ ترین رقم در عدد ۶۵۳۸۹۵.۱۴۰ را بنویسید؟</p> <p>ب) دو کسر مساوی با <math>\frac{۴۶}{۷۳}</math> بنویسید.</p> <p>ج) مقسوم علیه تقسیمی ۸ و خارج قسمت آن ۱۵، باقی مانده نیز ۱ است، مقسوم را پیدا کنید.</p>			
۲	<p>جاهای خالی را پر کنید.</p> <p>الف) یک تن برابر ..... کیلوگرم است.</p> <p>ب) به جواب تقسیم ..... گفته می شود.</p> <p>پ) <math>\frac{۱}{۳}</math> یعنی همان .....</p> <p>ت) چهل هزار ..... تا هزارتا است.</p> <p>ج) <math>\frac{۴}{۷}</math> یعنی ..... <math>\frac{۲}{۷}</math></p> <p>د) عدد ۴۹ ..... و .....</p>			
۳	<p>الگوی عددی زیر را ادامه دهید و رابطه ی بین اعداد را توضیح دهید.</p> <p>شکل ۱      شکل ۲      شکل ۳      شکل ۴</p> <p>○      ○○      ○○○      ○○○○      _____ و _____</p> <p>○      ○○      ○○○      ○○○○</p> <p>رابطه .....:</p>			
۴	<p>حاصل عبارت های زیر را بدست آورید.</p> <p>۲.۵</p> $2 \times \frac{1}{5} + 3 \times \frac{1}{5} =$ $\times \frac{18}{13} =$ $6 \times \frac{7}{100} =$ <p>۳۴۵۶   ۷۸</p>			

۱	<p>برای کسر و عدد مخلوط داده شده شکل بکشید؟</p> $\frac{3}{5} =$ $\frac{2}{4} =$	۵
۱	<p>یک کشاورز ۹۵۰ کیلوگرم محصول را بطور مساوی در ۱۹ کیسه ریخته است در هر کیسه چند کیلوگرم برنج ریخته است؟</p>	۶
۱	<p>اندازه زاویه های خواسته شده را به دست آورید؟</p> 	۷
۱	<p>کسرهای زیر را به صورت عدد اعشاری بنویسید؟</p> $\frac{7}{10} =$ $4\frac{1}{2} =$ $\frac{2}{5} =$	۸
۱	<p>محیط مثلثی به اضلاع <math>\frac{8}{7}</math> و <math>\frac{3}{5}</math> و <math>\frac{14}{3}</math> را بدست آورید.</p>	۹
۰.۵	<p>از نقطه ی داده شده خط عمود بر خط (م) رسم کنید؟</p> 	۱۰
۰.۵	<p>اگر دو خط زیر موازی باشند اندازه ی زاویه ی خواسته شده را بدست آورید؟</p> 	۱۱
۱	<p><math>\frac{1}{1}</math> سانتیمتر یعنی ..... سانتی متر و ..... میلی متر  <math>\frac{1}{7}</math> سانتی متر یعنی ..... سانتی متر و ..... تا <math>\frac{1}{1}</math> سانتی متر</p>	۱۲
صفحه ۲ از ۳		

۱۳	حاصل عبارت زیر را روی محور نشان دهید؟
۱.۵	$4/7 - 1/2 =$
۱۴	به کمک دو خط کش ۷۰ و ۸۰ سانتی متری طول یک میز را اندازه گرفته ایم. ۳۰ سانتی متر از خط کش ها روی هم قرار گرفته است. طول میز چقدر است؟
۱۵	پارچه ای به طول ۱۰ متر خریدیم. بعد از شستن ۰/۸ متر از آن آب رفت. اندازه ی پارچه چند متر شده است.
صفحه ۳ از ۳	

جمع بارم : ۲۰ نمره

نام درس: ریاضی چهارم

نام دبیر: پاکزاد

تاریخ امتحان: ...../...../۱۴۰۲

ساعت امتحان: ۷:۳۰ صبح / عصر

مدت امتحان: ۹۰ دقیقه


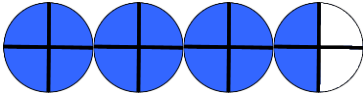
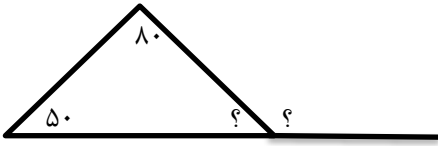
اداره ی کل آموزش و پرورش شهر تهران


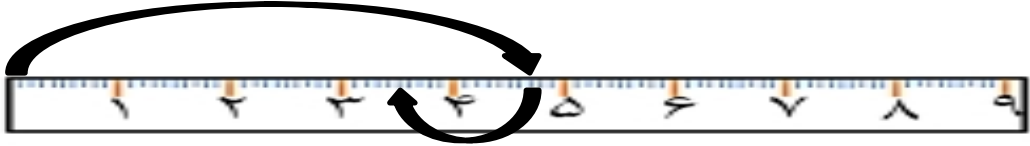
اداره ی آموزش و پرورش شهر تهران منطقه ۴ تهران

دبستان غیر دولتی دخترانه سرای دانش واحد رسالت

کلید سؤالات جمع بندی میان ترم دوم سال تحصیلی ۱۴۰۲ - ۱۴۰۱



ردیف	راهنمای تصحیح	محل مهر یا امضاء مدیر
۱	الف) دهگان هزار ب) $\frac{۳۶}{۷۲} = \frac{۶}{۱۲} = \frac{۳}{۶}$	پ) $۸ \times ۱۵ + ۱ = ۱۲۱$
۲	الف) ۱۰۰۰ ج) ۲۱ ب) خارج قسمت د) ۳ و ۷	ت) ۴۰ ث) ۱۴۶ و) موازی
۳	رابطه $\times$ شماره شکل	
		شماره شکل
		تعداد دایره
		۱
		۲
		۳
		۴
		۵
		۶
		۱۰
		۱۲
۴		$۶ \times \frac{۷}{۱۰۰} = \frac{۴۲}{۱۰۰}$ $۲ \times \frac{۱}{۵} + ۳ \times \frac{۱}{۱۵} = \frac{۲}{۵} + \frac{۳}{۱۵} = \frac{۹}{۱۵}$ $۱۸ \times ۱۳ = ۲۳۴$ $\begin{array}{r} ۳۴۵۶ \quad   \quad ۷۸ \\ -۳۱۲۰ \quad ۴۴ \\ \hline ۰۳۳۶ \\ -۳۱۲ \\ \hline ۰۳۴ \end{array}$
۵		$\frac{۳}{۵} =$  $\frac{۳}{۴} =$ 
۶	در هر کیسه ۵۰ کیلوگرم برنج ریخته است.	$\begin{array}{r} ۹۵۰ \quad   \quad ۱۹ \\ -۹۵۰ \quad ۵۰ \\ \hline \dots \end{array}$
۷		 $۸۰ + ۵۰ = ۱۳۰$ $۱۸۰ - ۱۳۰ = ۵۰$ $۱۸۰ - ۵۰ = ۱۳۰$

$\frac{7}{10} = 0.7$ $\frac{4}{2} = 4 \frac{5}{10} = 4.5$ $\frac{2}{5} = \frac{4}{10} = 0.4$	۸
$14/3 + 3/5 + 8/7 + = 26/5$	۹
	۱۰
	۱۱
$7 - 1$	۱۲
 $4/7 - 1/2 = 3/5$	۱۳
$80 + 70 = 150$ $150 - 30 = 120$	۱۴
$10/0 - 0/8 = 9/2$	۱۵
<b>امضاء:</b>	<b>نام و نام خانوادگی مصحح:</b>
<b>جمع بارم: ۲۰ شماره</b>	