
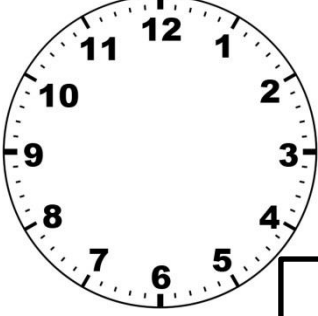


نام و نام خانوادگی:
 پایه: دهم دبستان
 نام پدر:
 تعداد صفحه سؤال: ۲ صفحه

جمهوری اسلامی ایران
 اداره ی کل آموزش و پرورش شهر تهران
 اداره ی آموزش و پرورش شهر تهران منطقه ۴ تهران
 دبستان غیردولتی دخترانه سرای دانش واحد رسالت
 جمع بندی میان ترم نوبت اول سال تحصیلی ۱۴۰۲ - ۱۴۰۱

نام درس: ریاضی
 نام دبیر: خانم آقاسینی
 تاریخ امتحان: ۱۲ / ۰۹ / ۱۴۰۱
 ساعت امتحان: ۰۷:۳۰ صبح / عصر
 مدت امتحان: ۹۰ دقیقه

محل مهر و امضاء مدیر	نمره به عدد:	نمره به حروف:
	نمره تجدید نظر به عدد:	نمره به حروف:
نام دبیر:	نام دبیر:	تاریخ و امضاء:
سؤالات	نمره	پاسخ
<p>الگوی عددی زیر را ادامه دهید:</p> <p>۷-۱۴.....-.....-.....</p> <p>۲۲-۲۸-۲۴.....-.....-.....</p> <p>۲۰-۲۵.....-.....-.....</p> <p><input type="checkbox"/> <input type="checkbox"/> <input type="checkbox"/> <input type="checkbox"/> <input type="checkbox"/></p>	۱	
<p>۱۴ پرندۀ روی درخت بودند. ۶ تا از پرندۀ ها پریدند. حالا چند پرندۀ روی درخت مانده اند؟ (رسم محور)</p> <p>←-----→</p>	۲	
<p>۵ دسته ی ده تایی به اضافه ۴ دسته ی ده تایی می شود.....</p> <p>۵۰+۴۰=.....</p> <p>۶ دسته ی ده تایی منهای ۲ دسته ی ده تایی می شود:</p> <p>۶۰-۲۰=.....</p>	۳	
<p>ساعت های خواسته شده زیر نشان دهید:</p> <p> <input type="text" value="۴:۱۵"/></p> <p> <input type="text" value="۶:۵۵"/></p>	۴	
<p>صبا ۸۳ توپ والیبال دارد. اگر او به دینا ۲۷ توپ بدهد. برای صبا چند توپ باقی می ماند؟ (با رسم شکل)</p>	۵	

جمع و تفریق های زیر را به صورت فرآیندی حل کنید؟

$$\begin{array}{r} 77 \\ -31 \\ \hline \end{array}$$

$$\begin{array}{r} 35 \\ +61 \\ \hline \end{array}$$


۶

جواب جمع و تفریق زیر را به صورت تقریبی به دست آورید :

$$\begin{array}{r} 16 \\ -25 \\ \hline \end{array}$$

$$\begin{array}{r} 35 \\ +25 \\ \hline \end{array}$$

۷



جمع بارم : ۲۰ نمره

نام درس:

نام دبیر:

تاریخ امتحان: ۱۴۰۱/۰۹/

ساعت امتحان: ۰۷:۳۰ صبح / عصر

مدت امتحان: ۹۰ دقیقه

اداره ی کل آموزش و پرورش شهر تهران
 اداره ی آموزش و پرورش شهر تهران منطقه ۴ تهران
 دبستان غیر دولتی دخترانه سرای دانش واحد رسالت
کلید سؤالات جمع بندی میان ترم نوبت اول سال تحصیلی ۱۴۰۲ - ۱۴۰۱



ردیف	راهنمای تصحیح	محل مهر یا امضا: مدیر
۱		
۲		
۳		
۴		
۵		
۶		
۷		
۸		
۱۰		

	۱۱
	۱۲
	۱۳
	۱۴
	۱۵
	۱۶
	۱۷
	۱۸
	۱۹
	۲۰

جمع بارم : ۲۰ نمره	نام و نام خانوادگی مصحح :	امضاء:
--------------------	---------------------------	--------