

نام درس:

نام دبیر:

تاریخ امتحان: ۱۴۰۲/۰۲

ساعت امتحان: 07:30 صبح / عصر

مدت امتحان: 90 دقیقه

جمهوری اسلامی ایران

اداره ی کل آموزش و پرورش شهر تهران

اداره ی آموزش و پرورش شهر تهران منطقه 4 تهران دبستان

غیر دولتی دخترانه سرای دانش واحد رسالت

جمع بندی میان ترم نوبت اول سال تحصیلی 1402 - 1401

نام و نام خانوادگی:

پایه:


نام پدر:

تعداد صفحه سؤال: 2 صفحه


محل مهر و امضاء مدیر	نمره به عدد: نمره به حروف:		نمره به عدد: نمره به حروف:	
	نام دبیر:	تاریخ و امضاء:	نام دبیر:	تاریخ و امضاء:
۱	<p>۱. برای شکل سمت راست تفریق و برای شکل سمت چپ جمع بنویس</p> <p>○ ○ ○ ○ ○</p> <p>⊙ ⊙ ⊙ ⊙ ○</p> <p><input type="checkbox"/> <input type="checkbox"/> <input checked="" type="checkbox"/></p> <p><input type="checkbox"/> <input type="checkbox"/> <input type="checkbox"/></p> <p><input type="checkbox"/> <input checked="" type="checkbox"/> <input type="checkbox"/></p>			
۲/۵	۲. جاهای خالی را کامل کن			
	۱۹	۷۴	۲۱	۸۳
	نود و سه	چهل و نه	دوازده	هفده
۱	<p>۳. با توجه به جمع نوشته شده مربع ها را با رنگ های مختلف رنگ کن و حاصل را بنویس</p> <p><input type="text"/> <input type="text"/> <input type="text"/> <input type="text"/> <input type="text"/> <input type="text"/> <input type="text"/> <input type="text"/> <input type="text"/> <input type="text"/></p> <p>$۱ + ۲ + ۴ + ۵ =$</p>			
۴	<p>۴. جواب جمع و تفریق ها را بنویس، مقایسه کن و در جای خالی علامت مناسب بگذار</p> <p>$۷۰ - ۱۰ =$ ○ $۲۰ + ۳۰ =$</p> <p>$۱۰ + ۸ =$ ○ $۲۵ - ۱۰ =$</p> <p>$۷۵ - ۱۰ =$ ○ $۷۵ - ۱۰ =$</p>			

$$7 + 9 = \bigcirc \quad 25 - 5 =$$

۵. در جاهای خالی عدد مناسب بنویس و برای هر قسمت شکل بکش



۱ دسته ده تایی و ۹ یکی می شود _____



۳ دسته ده تایی و ۶ یکی می شود _____

۲

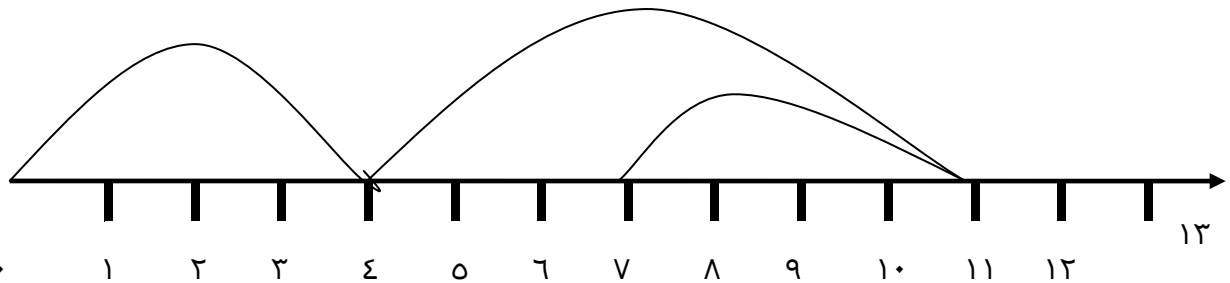
۶. جاهای خالی را با اعداد مناسب کامل کن

$$\begin{array}{r}
 ۴۸ \quad - \quad ۵۲ \quad - \quad ۵۶ \\
 \text{---} \quad \text{---} \quad \text{---} \\
 \text{---} \quad \text{---} \quad \text{---} \\
 +۴ \quad \quad +۴
 \end{array}$$

$$۵۵ \quad - \quad ۵۶ \quad - \quad ۵۷ \quad - \quad - \quad - \quad - \quad -$$

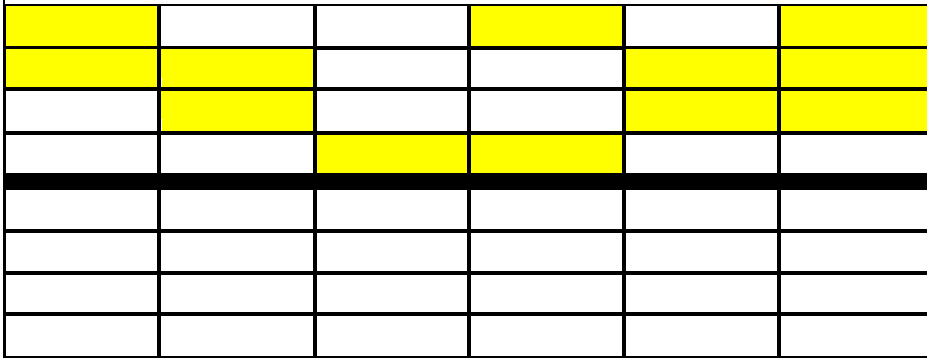
1.5

۷. برای محور یک مسئله بنویس و آن را حل کن



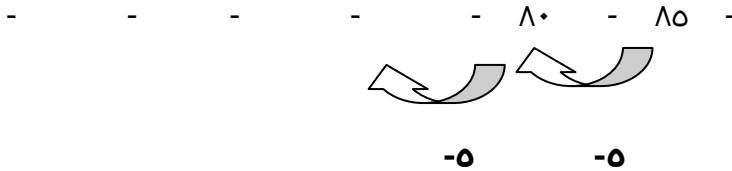
۳

۸. دخترم نیمه دیگر شکل را کامل کن



۹. عزیزم جاهای خالی را با نوشتن اعداد مناسب کامل کن

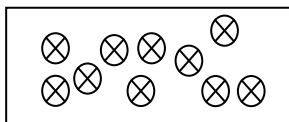
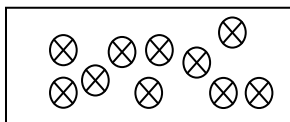
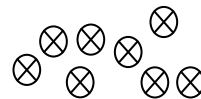
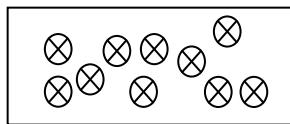
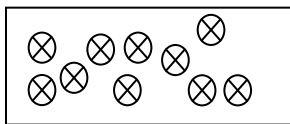
1.5



۱۰ - به تعداد عدد نوشته شده گردی بکش

مادر آرش ۴۸ کاموا داشت . او با ۵ کاموا کلاه بافت و با ۳ کاموای دیگر شال بافت

چند کاموا برای او باقی مانده است؟



نام درس: ریاضی

نام دبیر: رضازاده

تاریخ امتحان: ۱۴۰۲/۰۲ ساعت امتحان:

07:30 صبح/عصر مدت امتحان: 90

دقیقه

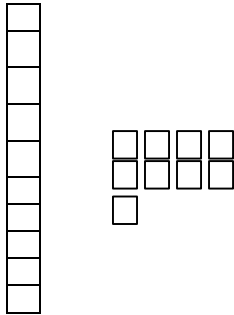
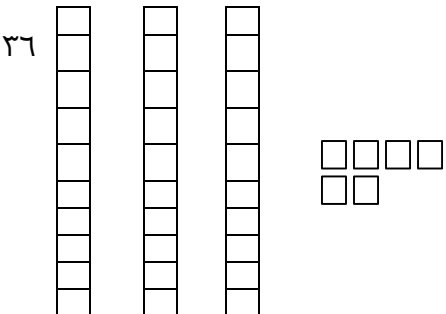
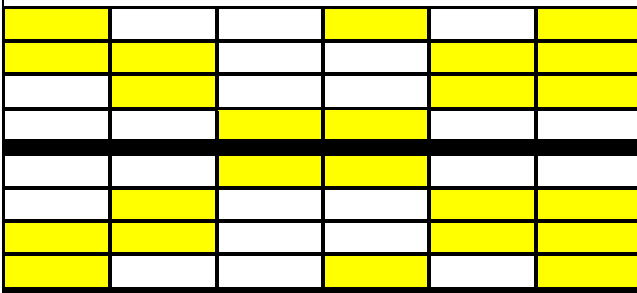
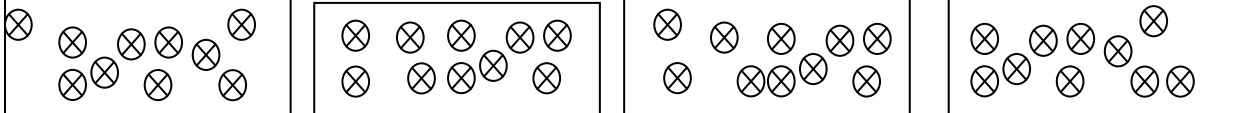
اداره ی کل آموزش و پرورش شهر تهران

اداره ی آموزش و پرورش شهر تهران منطقه 4 تهران

دبستان غیر دولتی دخترانه سرای دانش واحد رسالت

کلید سوالات جمع بندی میان ترم نوبت دوم سال تحصیلی 1401 - 1402



ردیف	راهنمای تصحیح	محل مهر یا امضاء مدیر
1		$۶+۶=۱۰$ $۹-۲=۷$
2		۱۹ - نود و سه - هفتاد و چهار - ۴۹ - بیست و یک - ۱۲ - هشتاد و سه - ۱۷
3		$۱+۲+۴+۵=۱۲$
4		$۵۰ < ۶۰$ $۱۸ > ۱۵$ $۶۵ > ۳۴$ $۱۶ < ۲۰$
5		۱۹  ۳۶ 
6		۸۰ - ۷۶ - ۷۲ - ۶۸ - ۶۴ - ۶۰ ۶۳ - ۶۲ - ۶۱ - ۶۰ - ۵۹ - ۵۸ - ۵۷
7		مریم ۴ سیب داشت . مادرش به او ۷ سیب داد . او ۴ سیب را به خواهرش داد حالا او چند سیب دارد ؟
8		
10		 $۳+۵=۸$ $۴-۸=۴۰$

