

نام و نام خانوادگی:

پایه:

نام پدر:

تعداد صفحه سؤال: ۱ صفحه






جمهوری اسلامی ایران
 اداره ی کل آموزش و پرورش شهر تهران
 اداره ی آموزش و پرورش شهر تهران منطقه ۴ تهران
 دبستان غیردولتی دخترانه سرای دانش واحد رسالت
 جمع بندی میان ترم نوبت اول سال تحصیلی ۱۴۰۲ - ۱۴۰۱

نام درس: ریاضی
 نام دبیر: شاهی
 تاریخ امتحان: ۱۴۰۱/۰۹/۰۷
 ساعت امتحان: ۰۷:۳۰ صبح / عصر
 مدت امتحان: ۹۰ دقیقه





محل مهر و امضا: مدیر	نمره به عدد:	نمره به حروف:	نمره به عدد:	نمره به حروف:
	نام دبیر:	تاریخ و امضا:	نام دبیر:	تاریخ و امضا:

شماره	سوالات	نمره
-------	--------	------


از هر کدام از تصاویر زیر چند تا داریم؟ در جدول مقابلش خانه رنگ کن.

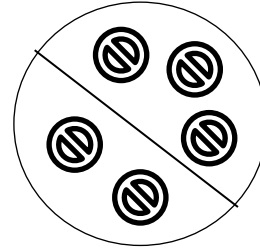


به هر دسته دو تا شکل اضافه کن و چوب خط آن را بکش.

	<input type="text"/>		<input type="text"/>
	<input type="text"/>		
	<input type="text"/>		

به تعداد چوب خط ها از چینه های سمت چپ خط بزن و به تعداد باقی مانده از چینه های سمت راست رنگ بزن.











<input type="text"/>	<input type="text"/>		<input type="text"/>	<input type="text"/>
<input type="text"/>	<input type="text"/>		<input type="text"/>	<input type="text"/>
<input type="text"/>	<input type="text"/>		<input type="text"/>	<input type="text"/>
<input type="text"/>	<input type="text"/>		<input type="text"/>	<input type="text"/>
<input type="text"/>	<input type="text"/>		<input type="text"/>	<input type="text"/>

در هر دایره تعداد شکل های دو قسمت با هم چند تا می شود؟ عدد آن را بنویس.



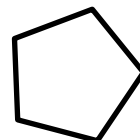

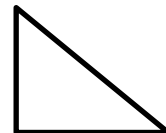
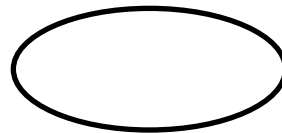
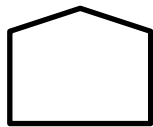
۴

جدول شگفت انگیز روبرو را حل کن.

۵

هر کدام از شکل های هندسی زیر چند گوشه دارند؟ شکل هایی که تعداد گوشه هایشان با هم برابر است را به هم وصل کن.



۶

نام درس:

نام دبیره:

تاریخ امتحان: ۱۴۰۱/۰۹/

ساعت امتحان: ۰۷:۳۰ صبح / عصر

مدت امتحان: ۹۰ دقیقه


اداره ی کل آموزش و پرورش شهر تهران


اداره ی آموزش و پرورش شهر تهران منطقه ۴ تهران

دبستان غیر دولتی دخترانه سرای دانش واحد رسالت


کلید سؤالات جمع بندی میان ترم نوبت اول سال تمصیلی ۱۴۰۲ - ۱۴۰۱



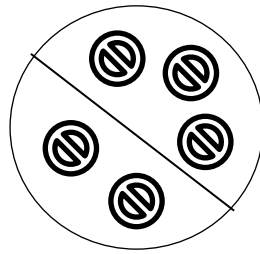
ردیف	راهنمای تصحیح	محل مهر یا امضاء مدیر																														
۱	<p>از هر کدام از تصاویر زیر چند تا داریم؟ در جدول مقابلش خانه رنگ کن.</p> <table border="1" data-bbox="630 631 1391 1205"> <tr> <td></td> <td><input type="checkbox"/></td> <td><input type="checkbox"/></td> <td><input type="checkbox"/></td> <td></td> <td></td> </tr> <tr> <td></td> <td><input type="checkbox"/></td> <td></td> <td></td> <td></td> <td></td> </tr> <tr> <td></td> <td><input type="checkbox"/></td> <td><input type="checkbox"/></td> <td></td> <td></td> <td></td> </tr> <tr> <td></td> <td><input type="checkbox"/></td> <td><input type="checkbox"/></td> <td><input type="checkbox"/></td> <td><input type="checkbox"/></td> <td></td> </tr> <tr> <td></td> <td><input type="checkbox"/></td> <td><input type="checkbox"/></td> <td><input type="checkbox"/></td> <td><input type="checkbox"/></td> <td><input type="checkbox"/></td> </tr> </table>		<input type="checkbox"/>	<input type="checkbox"/>	<input type="checkbox"/>				<input type="checkbox"/>						<input type="checkbox"/>	<input type="checkbox"/>					<input type="checkbox"/>	<input type="checkbox"/>	<input type="checkbox"/>	<input type="checkbox"/>			<input type="checkbox"/>	<input type="checkbox"/>	<input type="checkbox"/>	<input type="checkbox"/>	<input type="checkbox"/>	
	<input type="checkbox"/>	<input type="checkbox"/>	<input type="checkbox"/>																													
	<input type="checkbox"/>																															
	<input type="checkbox"/>	<input type="checkbox"/>																														
	<input type="checkbox"/>	<input type="checkbox"/>	<input type="checkbox"/>	<input type="checkbox"/>																												
	<input type="checkbox"/>	<input type="checkbox"/>	<input type="checkbox"/>	<input type="checkbox"/>	<input type="checkbox"/>																											
۲	<p>به هر دسته دو تا شکل اضافه کن و چوب خط آن را بکش.</p> <table border="1" data-bbox="151 1265 1189 1478"> <tr> <td></td> <td><input type="checkbox"/></td> <td></td> <td><input type="checkbox"/></td> </tr> <tr> <td></td> <td><input type="checkbox"/></td> <td></td> <td><input type="checkbox"/></td> </tr> <tr> <td></td> <td><input type="checkbox"/></td> <td></td> <td><input type="checkbox"/></td> </tr> </table>		<input type="checkbox"/>		<input type="checkbox"/>		<input type="checkbox"/>		<input type="checkbox"/>		<input type="checkbox"/>		<input type="checkbox"/>																			
	<input type="checkbox"/>		<input type="checkbox"/>																													
	<input type="checkbox"/>		<input type="checkbox"/>																													
	<input type="checkbox"/>		<input type="checkbox"/>																													
۳	<p>به تعداد چوب خط ها از چینه های سمت چپ خط بزن و به تعداد باقی مانده از چینه های سمت راست رنگ بزن.</p> <table border="1" data-bbox="151 1556 1252 1926"> <tr> <td></td> <td><input type="checkbox"/></td> <td></td> <td><input type="checkbox"/></td> </tr> <tr> <td></td> <td><input type="checkbox"/></td> <td></td> <td><input type="checkbox"/></td> </tr> </table>		<input type="checkbox"/>		<input type="checkbox"/>		<input type="checkbox"/>		<input type="checkbox"/>																							
	<input type="checkbox"/>		<input type="checkbox"/>																													
	<input type="checkbox"/>		<input type="checkbox"/>																													
۴	<p>در هر دایره تعداد شکل های دو قسمت با هم چند تا می شود؟ عدد آن را بنویس.</p>																															



۳



۴

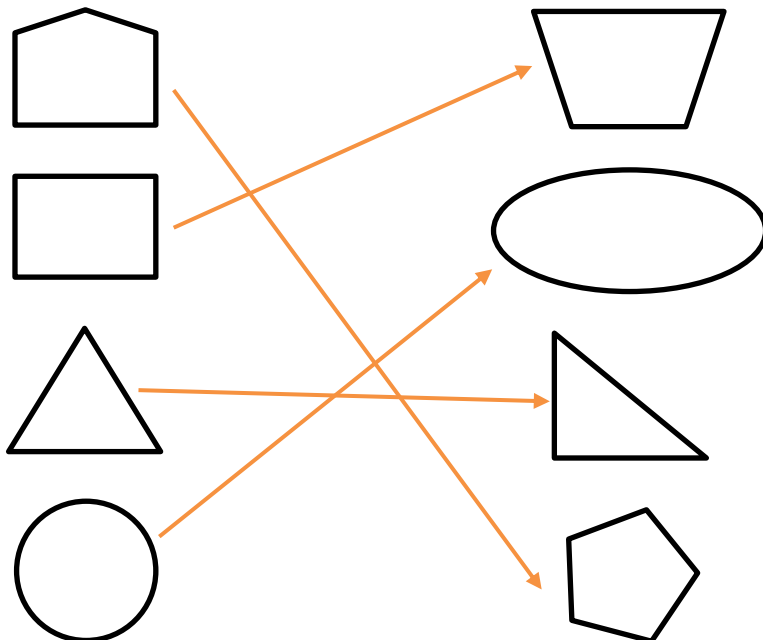


۵

جدول شگفت انگیز روبرو را حل کن.

۵

هر کدام از شکل های هندسی زیر چند گوشه دارند؟ شکل هایی که تعداد گوشه هایشان با هم برابر است را به هم وصل کن.



۶

امضاء:

نام و نام خانوادگی مصحح :

جمع بارم : ۲۰ نمره