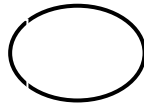


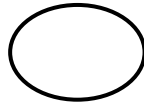
۴. عزیزم حاصل را به دست بیاور و علامت مناسب بگذار ($<=>$)

$$۹ + ۸ =$$



$$۱۰ + ۲۰ + ۵ + ۵ - ۵ =$$

$$۹۰ - ۳۰ =$$




$$۷۰ - ۱۰ =$$

۵. در هر ردیف الگو را ادامه بده

$$۱۰ - ۱۵ - ۲۰ - \dots - \dots - \dots - \dots - \dots - \dots$$



$$\dots - \dots - \dots - \dots - \dots - \dots - ۶۰ - ۷۰$$

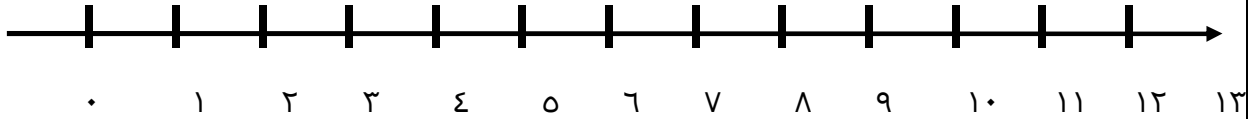


۶. عزیزم مسئله را از راهی دوست داری حل کن

آموزگار یک کلاس در ابتدای سال به هر دانش آموز کلاس یک گل هدیه داد . سه دسته ۱۰ تایی گل و ۲ تا گل هدیه داد
در آبان ماه به مناسبت روز دانش آموز ۳ دسته ۱۰ تایی و ۲ گل دیگر هدیه داد . آموزگار چند گل هدیه داد ؟

۷. عزیزم مسئله را با کمک محور حل کن

اتوبوسی با ۱۳ مسافر حرکت کرد. در ایستگاه اول ۸ مسافر پیاده شدند در ایستگاه دوم ۴ نفر سوار شدند
اتوبوس چند مسافر دارد؟



۱/۲۵

۸. بادکنک فروشی ۱۳ بادکنک داشت. بادی وزید و ۶ بادکنک او را با خود برد حالا چند بادکنک برای او باقی مانده
است؟

۹. ساعت چند است عزیزم؟



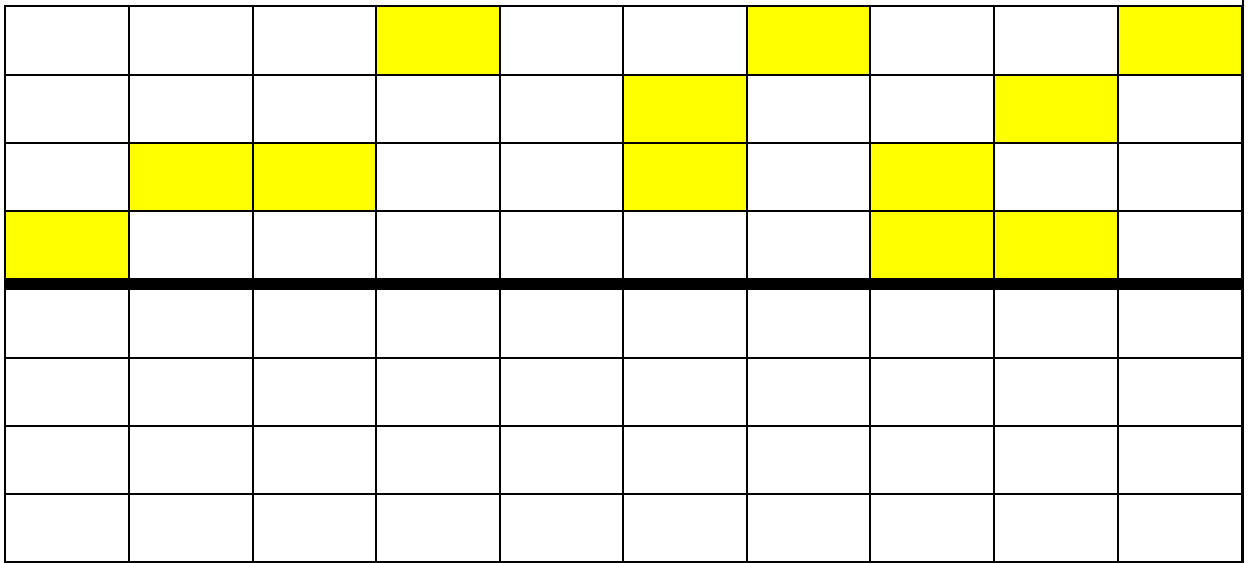
ساعت بین ----- و ----- است.



ساعت ----- است

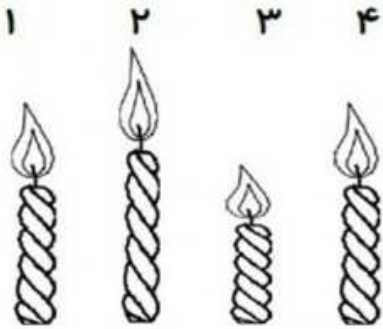
۱

۱۰. سمت راست شکل را مانند سمت چپ کامل کن



۴

۱۱. در جای خالی عدد مناسب بنویس




شمع شماره ۱ کوتاه ترین شمع است .

شمع شماره ۱ ---- با شمع شماره ۱ ---- هم اندازه است .

۱

۱۲. الگو را ادامه بده



۲

نام درس: ریاضی

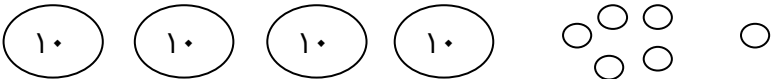
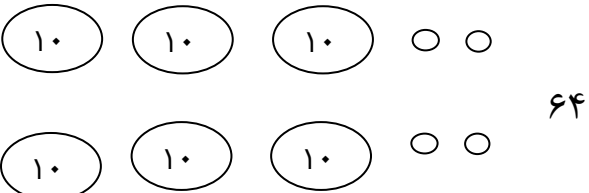
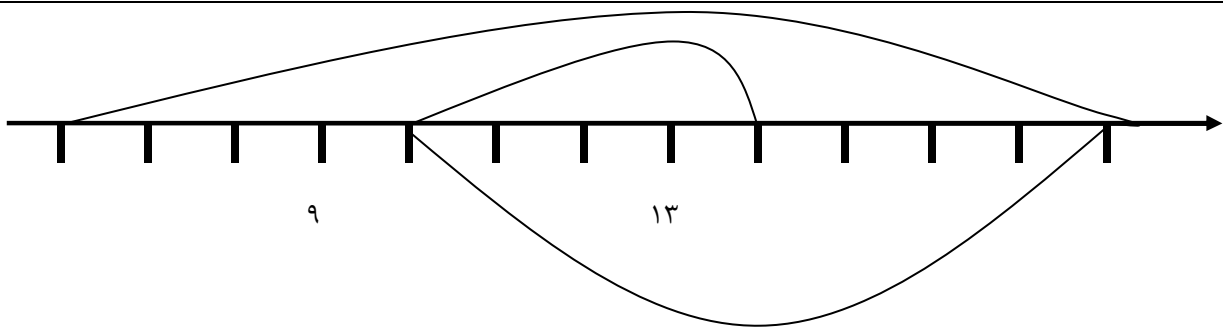
نام دبیر: رضازاده

تاریخ امتحان ۱۴۰۳/۰۲/۲۴

ساعت امتحان: صبح / عصر

مدت امتحان: دقیقه

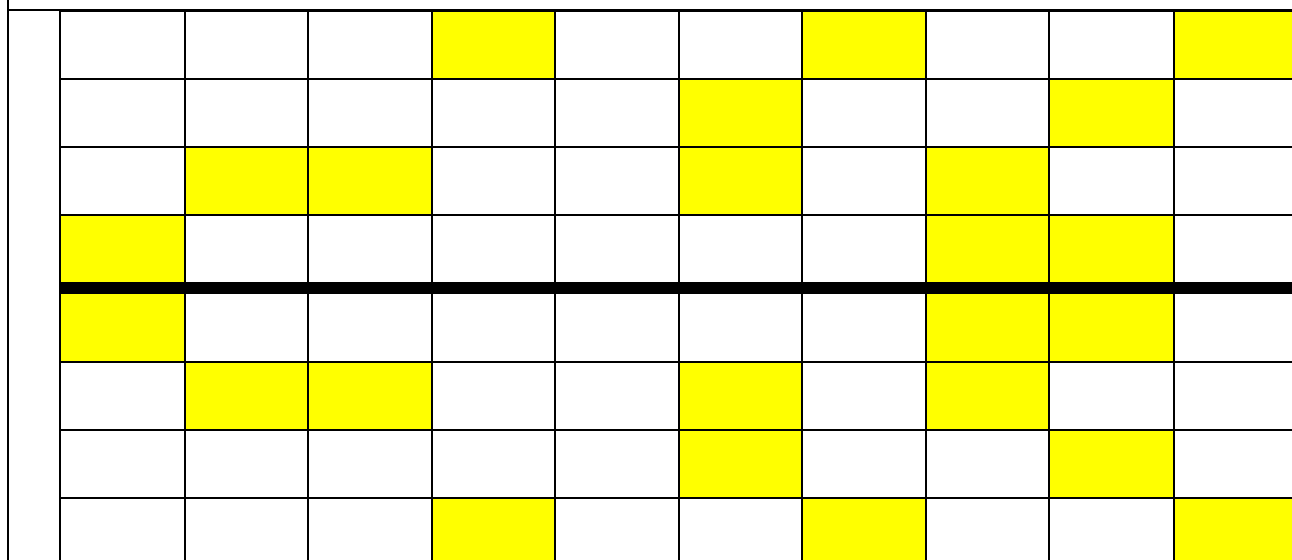
اداره ی کل آموزش و پرورش شهر تهران
اداره ی آموزش و پرورش شهر تهران منطقه ۴ تهران
دبستان غیر دولتی دخترانه سرای دانش واحد رسالت
کلید سوالات پایان ترم نوبت دوم سال تحصیلی ۱۴۰۳-۱۴۰۲

ردیف	راهنمای تصحیح محل مهر یا امضاء مدیر
۱	۲۸ , بیست و هشت
۲	چهل و شش 
۳	۳۶-۳۷-۳۸-۳۹-۴۰-۴۱-۴۲-۴۳-۴۴ ۶۶-۶۷-۶۸-۶۹-۷۰-۷۲-۷۳-۷۴
۴	$۱۷ < ۳۵$ $۶۰ = ۶۰$
۵	۱۵-۲۰-۲۵-۳۰-۳۵-۴۰-۴۵-۵۰ ۰-۱۰-۲۰-۳۰-۴۰-۵۰-۶۰-۷۰
۶	
۷	
۸	$۱۳ - ۶ = ۷$

۱۰ و ۱۱

۹

ساعت ۱۲

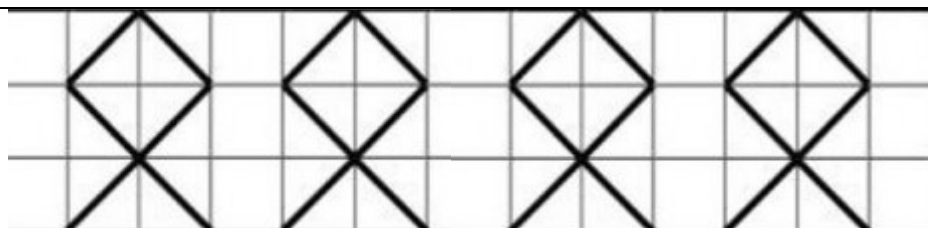


۱۰

۳

۴ و ۱

۱۱



۱۲

امضا :

نام و نام خانوادگی مصحح : رضازاده

جمع بارم : ۲۰ نمره

