

نام و نام خانوادگی:
 مقطع و رشته:
 نام پدر:
 شماره داوطلب:
 تعداد صفحه سؤال: ۲ صفحه

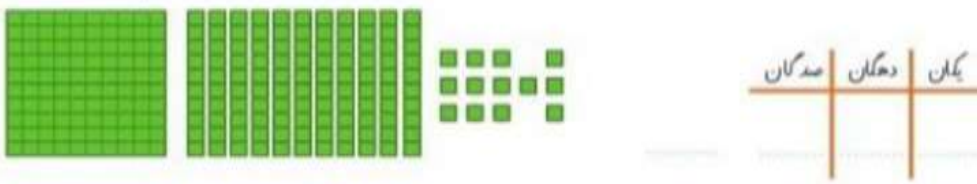
جمهوری اسلامی ایران
 اداره ی کل آموزش و پرورش شهر تهران
 اداره ی آموزش و پرورش شهر تهران منطقه ۴ تهران
 دبستان غیردولتی دخترانه سرای دانش واحد رسالت
 جمع بندی پایان ترم نوبت دوم سال تحصیلی ۱۴۰۲ - ۱۴۰۱

نام درس: ریاضی
 نام دبیر: مریم سادات آقاحسینی
 تاریخ امتحان: ۱۴۰۲/۰۱/۲۶
 ساعت امتحان: ۳۰ : ۰۷ صبح / عصر
 مدت امتحان: ۹۰ دقیقه

محل مهر و امضاء مدیر	نمره به عدد:	نمره به حروف:	نمره به عدد:	نمره به حروف:
	نام دبیر:	نام دبیر:	تاریخ و امضاء:	تاریخ و امضاء:

شماره	سؤالات
-------	--------

عددی را که هر شکل نشان می دهد ابتدا در جدول قرار داده و پس از کامل شدن در جای داده شده بنویسید:



حاصل جمع و تفریق های زیر را به دست آورید:

با استفاده از روش فرایندی

$$\begin{array}{r} 363 \\ + 514 \\ \hline \end{array}$$

$$\begin{array}{r} 985 \\ - 643 \\ \hline \end{array}$$

با استفاده از روش تکنیکی

$$\begin{array}{r} 587 \\ + 296 \\ \hline \end{array}$$

$$\begin{array}{r} 701 \\ - 348 \\ \hline \end{array}$$

قد مریم ۱۷۳ سانتی متر است و برادرش ۱۶ سانتی متر از او کوتاهتر است .

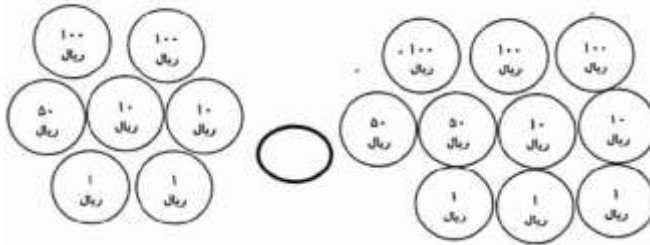
الف) قد برادر مریم چند سانتی متر است؟

ب) قد مریم و برادرش روی هم چند سانتی متر است؟

عبارت های مساوی را هم رنگ کن :

۹ سانتی متر	۵ سانتی متر و ۷ میلی متر	۶۰ میلی متر	۵۷ میلی متر
۶۰۰ سانتی متر	۵ سانتی متر	۹۰ میلی متر	۶ سانتی متر

علامت مناسب قرار دهید :



۲۵۹ ۴۰۰

۷۰۰ ۴۱۰

۲۰۸ ۱۹۹

۱۹۸ ۲۳۱

۵

جای خالی را کامل کن:



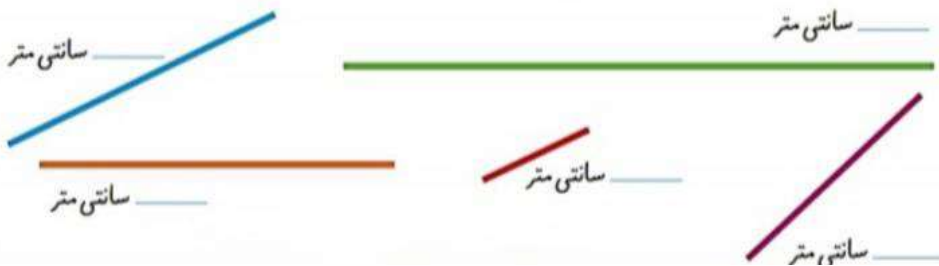
..... قسمت از قسمت مساوی رنگ شده است .



..... قسمت از قسمت مساوی رنگ شده است .

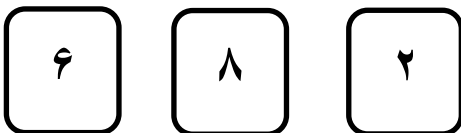
۶

اندازه ی خط های زیر را با خط کش اندازه بگیر و بنویس:



۷

با کارت های زیر تمام عدد های سه رقمی را بنویس که حاصل جمع دهگان و صدگان آن ها برابر یکانشان باشد:



۸



یک صفحه ی چرخنده مثل شکل زیر رنگ شده است.

الف) قسمت از قسمت از شکل رنگ شده است.

ب) احتمال ایستادن عقربه روی کدام رنگ کمتر است؟

۹

