

نام و نام خانوادگی: .....

مقطع و رشته: دوم دبستان

نام پدر: .....

شماره داوطلب: .....

تعداد صفحه سؤال: ۲ صفحه

جمهوری اسلامی ایران

اداره ی کل آموزش و پرورش شهر تهران

اداره ی آموزش و پرورش شهر تهران منطقه ۷ تهران

دبستان غیردولتی پسرانه سرای دانش واحد شریعتی

آزمون پایان ترم نوبت اول سال تحصیلی ۱۴۰۱-۱۴۰۰

نام درس: علوم





نام دبیر: زینب سراج

تاریخ امتحان: ..... / ..... / ۱۴۰۰

ساعت امتحان: ..... : ..... / عصر

مدت امتحان : ..... دقیقه

| نام دبیر:     | نمره به عدد:  |              | محل مهر و امضا: مدیر |
|---------------|---|--------------|----------------------|
|               | نمره به حروف:   | نمره به عدد: |                      |
| نام دبیر:     | تاریخ و امضا:   | نام دبیر:    | تاریخ و امضا:        |
| ردیف          | سؤالات  |              | نمره                 |
| ۱             | مشاهده یعنی چه؟   |              |                      |
| ۲             | <p>جاهای خالی را با عبارت مناسب پر کن.</p> <p>زمین در هر ..... ساعت یکبار به دور خودش می چرخد.</p> <p>در گذشته با استفاده از سایه ..... درست می کردند و زمان را از روی آن تعیین میکردند.</p> <p>باد شدید ..... نام دارد.</p> <p>برای تعیین وزش باد از ..... استفاده میکنیم.</p> <p>در روز هوا ..... تر از شب است.</p> <p>هر جسمی که از خودش نور بدهد ..... است.</p> |              |                      |
| ۳             | حواس پنج گانه را نام ببر.   |              |                      |
| ۴             | <p>دور جواب درست خط بکش.</p> <p>کدام گار به پاکیزه نگه داشتن هوا کمک می کند؟ موتور - کارخانه - ماشین - درخت کاشتن</p> <p>کدام صدا آزار دهنده است؟ صدای تلفن - صدای آمبولانس - صدای بوق - صدای بلبل</p> <p>کدام یک در شب فعالیت می کند؟ شتر - خرگوش - جغد - گنجشک</p>  |              |                      |
| ۵             | <p>چرا نباید از آب رودخانه ها خورد؟</p>   |              |                      |
| صفحه ی ۱ از ۲ |   |              |                      |

|                      |  |    |
|----------------------|--|----|
|                      | <p>پاسخ کوتاه بده.</p> <p>شب و روز چگونه به وجود می آید؟</p>   | ۶  |
|                      | <p>برای اندازه گیری سردی و گرمی از کدام وسیله استفاده می شود؟</p>    | ۷  |
|                      | <p>چرا در زمستان روزها سرد تر از تابستان است؟</p>  | ۸  |
|                      | <p>دسته بندی کن.</p> <p>آمیولانس - چراغ قوه - سوت - گاو - طبل - شمع - آتش - بمب</p> <p>صدا دارد : .....</p> <p>نور دارد : .....</p>  | ۹  |
|                      | <p>هر رنگ چراغ راهنما به چه معنا است؟</p>   | ۱۰ |
| <p>صفحه ی ۲ از ۲</p> |  |    |



اداره ی کل آموزش و پرورش شهر تهران  
اداره ی آموزش و پرورش شهر تهران منطقه ۷ تهران  
دبستان غیر دولتی پسرانه سرای دانش واحد شریعتی  
**کلید** سؤالات پایان ترم نوبت اول سال تمصیلی ۱۴۰۱-۱۴۰۰

نام درس: علوم  
نام دبیر: زینب سراج  
تاریخ امتحان: ..... / ..... / ۱۴۰۰  
ساعت امتحان: ..... صبح / عصر  
مدت امتحان: ..... دقیقه

| ردیف                      | راهنمای تصحیح   | محل مهر یا امضاء مدیر |
|---------------------------|---|-----------------------|
| ۱                         | استفاده درست از حواس پنج گانه   |                       |
| ۲                         | ۲۴<br>ساعت<br>طوفان<br>بادنما<br>گرم تر<br>چشمه نور                                     |                       |
| ۳                         | بویایی چشایی لامسه شنوایی بینایی  |                       |
| ۴                         | درخت کاشتن<br>بوق<br>جغد  |                       |
| ۵                         | چون آلوده است و تسفیه شده نیست.   |                       |
| ۶                         | از گردش زمین به دور خودش  |                       |
| ۷                         | دماسنج  |                       |
| ۸                         | چون خورشید مایل می تابد   |                       |
| ۹                         | صدا دارد: آمبولانس - سوت - گاو - طبل - بمب<br>نور دارد: آمبولانس - چراغ قوه - شمع - آتش |                       |
| ۱۰                        | قرمز: ایست<br>زرد: احتیاط<br>سبز: حرکت  |                       |
| نام و نام خانوادگی مصحح : |   | امضاء:                |