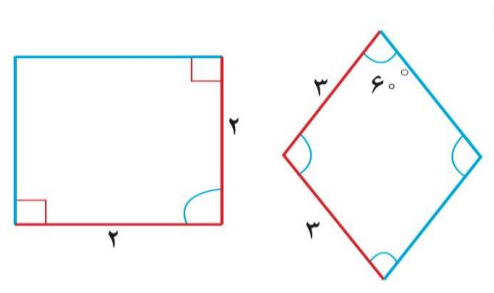
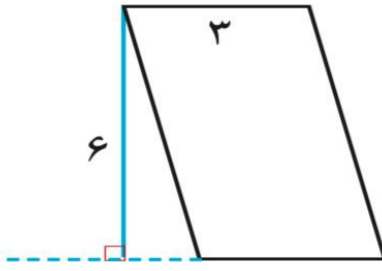
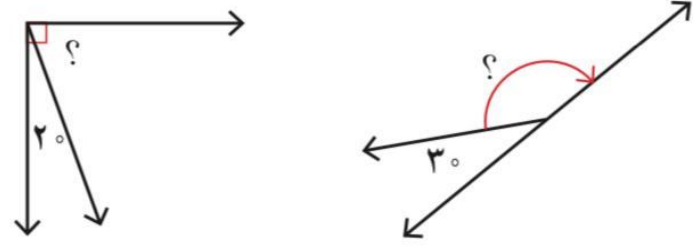


نام و نام خانوادگی:
 مقطع و رشته: چهارم ابتدایی
 نام پدر:
 شماره داوطلب:
 تعداد صفحه سؤال: ۲ صفحه

جمهوری اسلامی ایران
 اداره ی کل آموزش و پرورش شهر تهران
 اداره ی آموزش و پرورش شهر تهران منطقه ۴ تهران
 دبستان غیردولتی دخترانه سرای دانش واحد رسالت
 آزمون پایان ترم نوبت دوم سال تحصیلی ۱۴۰۱-۱۴۰۰

نام درس: ریاضی
 نام دبیر: شبرین پوررحیمی
 تاریخ امتحان: ۱۴۰۱/۰۳/۰۲
 ساعت امتحان: ۰۸:۰۰ صبح/عصر
 مدت امتحان: ۹۰ دقیقه

محل مهر و امضاء مدیر		نمره به عدد:	نمره به حروف:
		نمره تجدید نظر به عدد:	نمره به حروف:
نام دبیر:		نام دبیر:	تاریخ و امضاء:
		تاریخ و امضاء:	نام دبیر:
ردیف	سؤالات	نمره	نمره
۲	الف) به چه زاویه ای زاویه تند می گویند؟ ب) زاویه راست چند درجه است؟ ج) به وسیله زاویه ها را اندازه گیری می کنیم. د) مجموع زاویه های یک مثلث درجه است.		
۲	الف) ۳۰ دقیقه بعد از ساعت ۴:۴۵ : ۶ چند است؟ ب) یک ساعت و ۴۰ دقیقه چند دقیقه است؟ ج) ۱۰۰ ثانیه یعنی دقیقه و ثانیه.		
۱/۵	از یک توپ پارچه به طول ۶ متر ۳/۷ متر را جدا کردیم. چند متر باقی می ماند؟		
۲	حاصل عبارت های زیر را بدست آورید. $4/3 + 1/6 - 3/2 =$ $9/8 - 2/3 - 5/7 =$		
صفحه ۱ از ۲			

۲	<p>در شکل های صفحه بعد اندازه بعضی از ضلع ها و زاویه ها داده شده است . اندازه ضلع ها و زاویه های آن ها را بنویسید</p> 	۵
۱	<p>مساحت متوازی الاضلاع زیر را بدست آورید .</p> 	۶
۲	<p>طول یک زمین کشاورزی مستطیل شکل ۱۰۰ متر و عرض آن ۴۰ متر است . برای جاده سازی در روستا ۴۷۰ متر مربع استفاده شده است . چه مقدار از زمین هنوز برای کشاورزی قابل استفاده است ؟</p>	۷
۱/۵	<p>یک تاس را می اندازیم این احتمال را که هریک از اتفاق های زیر بیفتد با یک عبارت مناسب بیان کنید .</p> <p>الف) عدد ۳ بیاید .</p> <p>ب) عدد ۷ بیاید .</p> <p>پ) عدد بزرگتر از ۴ بیاید .</p> <p>ت) یکی از عددهای ۱ و ۲ و ۳ و ۴ و ۵ و ۶ بیاید .</p>	۸
۱	<p>اندازه زاویه های خواسته شده را بدست آورید .</p> 	۹
صفحه ۲ از ۲		



اداره ی کل آموزش و پرورش شهر تهران
 اداره ی آموزش و پرورش شهر تهران منطقه ۴ تهران
 دبستان غیر دولتی دخترانه سرای دانش واحد رسالت
کلید سؤالات پایان ترم نوبت دوم سال تحصیلی ۱۴۰۱-۱۴۰۰

نام درس: ریاضی چهارم
 نام دبیر: شیرین پوررحیمی
 تاریخ امتحان: ۱۴۰۱/۰۳/۰۲
 ساعت امتحان: ۰۸:۰۰ **صبح** / عصر
 مدت امتحان: ۹۰ دقیقه

ردیف	راهنمای تصحیح	محل مهر یا امضاء مدیر
۱	الف) به زاویه ای که از ۹۰ درجه کوچکتر باشد زاویه تند می گویند . ب) ۹۰ درجه ج) نقاله د) ۱۸۰ درجه	
۲	الف) ۱۵ : ۷ ب) ۱۰۰ دقیقه ج) ۱ دقیقه و ۴۰ ثانیه	
۳	۲/۳	
۴	الف) ۲/۷ ب) ۱/۸	
۵		
۶	۱۸	
۷	مساحت زمین کشاورزی : ۴۰۰۰ زمین قابل استفاده : ۳۵۳۰	
۸	الف) به احتمال کمتر اتفاق می افتد . ب) به طور حتم اتفاق نمی افتد . پ) به احتمال کمتر اتفاق می افتد . ت) به طور حتم اتفاق می افتد .	
۹	۷۰ - ۱۵۰	
جمع بارم: ۱۵ نمره		نام و نام خانوادگی مصحح : شیرین پوررحیمی
		امضاء: