




نام درس: علوم  
نام دبیر: فائزه نوری

جمهوری اسلامی ایران  
اداره ی کل آموزش و پرورش شهر تهران  
اداره ی آموزش و پرورش شهر تهران منطقه ۲ تهران  
دبستان غیردولتی پسرانه سرای دانش واحد مرزداران  
آزمون ارزشیابی توصیفی نوبت اول سال تحصیلی ۱۴۰۲-۱۴۰۱

نام و نام خانوادگی: .....  
مقطع و رشته: سوم دبستان  
تعداد صفحه سؤال: ۲ صفحه

ردیف	سؤالات	پنج
	چند نوع آینه وجود دارد؟ <input type="radio"/> نوع ۲ <input type="radio"/> نوع ۳ <input type="radio"/> نوع ۴	۱
	از آینه ی تخت کجا ها استفاده می شود؟ <input type="radio"/> آرایشگاه ها <input type="radio"/> دندان پزشکی <input type="radio"/> پیچ جاده ها	۲
	تبدیل یک ماده از حالت جامد به حالت مایع چه نامیده می شود؟ <input type="radio"/> ذوب شدن <input type="radio"/> تبخیر <input type="radio"/> انجماد	۳
	در کدام محل عمل تبخیر زودتر انجام می گیرد؟ چرا؟   <input type="checkbox"/> دستمال خیس <input type="checkbox"/> دستمال خیس	۴
	برای هر کدام از حالت های ماده دو مثال بگو. جامد ← ..... و ..... گاز ← ..... و ..... مایع ← ..... و .....	۵
	با توجه به تصویر توضیح دهید رود چگونه به وجود می آید؟  بارش برف در کوه	۶

	<p>تصویر زیر چه پدیده ای را نشان می دهد؟ توضیح دهید .</p> 	۷
	<p>نوع تغییر حالت مواد زیر را مشخص کنید .</p> <p>خشک شدن آب روی زمین</p> <p>سفت شدن بستنی در فریزر</p> <p>آب شدن شمع در اثر گرما</p>	۸
	<p>کاربرد گاز های زیر را بیان کنید .</p> <p>گاز اکسیژن :</p> <p>گاز هلیوم:</p> <p>گاز متان (گاز شهری) :</p>	۹
	<p>کاربرد و وظیفه ی چربی ها در هرم مواد غذایی در بدن چیست ؟</p>	۱۰
	<p>مراحل یک تحقیق علمی (پژوهش) را به ترتیب بنویسید.</p>	۱۱
	<p>گروه پروتئین ها در هرم غذایی شامل چه چیزهایی می شوند ؟</p>	۱۲
	<p>برای اندازه گیری حجم مایعات از واحد ..... و جرم اجسام از واحد ..... استفاده می شود .</p>	۱۳
	<p>علت شور شدن آب دریا ها و اقیانوس ها چیست ؟</p>	۱۴

نام درس: علوم  
نام دبیر: فائزه نوری

اداره ی کل آموزش و پرورش شهر تهران  
اداره ی آموزش و پرورش شهر تهران منطقه ۲ تهران  
پیش دبستان و دبستان غیر دولتی پسرانه سرای دانش واحد مرزداران  
کلید سؤالات ارزشیابی توصیفی نوبت اول سال تحصیلی ۱۴۰۱-۱۴۰۲

ردیف	راهنمای تصحیح	محل مهر یا امضاء مدیر
۱	۳ نوع	
۲	آرایشگاه ها	
۳	ذوب شدن	
۴	در مکانی که آفتاب وجود دارد چون تابش مستقیم نور خورشید باعث می شود آب موجود در پارچه سریع تر تبخیر شود .	
۵	جامد : بستنی ، میزو.... مایع : شیر ، آب میوه و.... گاز : بخار هوا ، گاز اکسیژن و...	
۶	آبی که از بارش باران یا برف به وجود می آید در سرازیری به راه می افتد ابتدا جوی های کوچک تشکیل می شود و سپس رود را به وجود می آورند .	
۷	وقتی نور خورشید به آینه می تابد از آن برمی گردد به این پدیده بازتابش نور می گویند .	
۸	تبخیر انجماد ذوب	
۹	برای تنفس بیماران و غواصان در زیر آب بالون برای پخت و پز غذا	
۱۰	به بدن انرژی می دهند و باعث گرم شدن بدن می شوند .	
۱۱	۱- طرح سوال ۲- جمع آوری اطلاعات ۳- جمع بندی و دسته بندی اطلاعات ۴- نتیجه گیری و ارائه ی گزارش	
۱۲	گوشت ، مرغ ، ماهی ، شیر ، لبنیات و تخم مرغ	
۱۳	لیتر - کیلوگرم	
۱۴	سنگ ها و خاک های مسیر رودخانه ها در خود نمک دارند و آب پس از عبور از این ها شور می شود .	
نام و نام خانوادگی مصحح : فائزه نوری		امضاء: