

نام و نام خانوادگی:

مقطع و رشته: سوم دبستان

نام پدر:

شماره داوطلب:

تعداد صفحه سؤال: ۲ صفحه

جمهوری اسلامی ایران

اداره ی کل آموزش و پرورش شهر تهران

اداره ی آموزش و پرورش شهر تهران منطقه ۴ تهران

دبستان غیردولتی دخترانه سرای دانش واحد رسالت

آزمون پایان نوبت اول سال تحصیلی ۱۴۰۱-۱۴۰۰

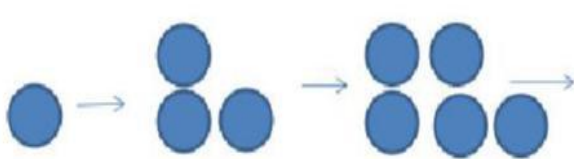

نام درس: ریاضی

نام دبیر: شیرین پوررحیمی

تاریخ امتحان: ۱۴۰۰/۱۰/۰۸

ساعت امتحان: ۰۸:۰۰ صبح/عصر

مدت امتحان: ۶۰ دقیقه

محل مهر و امضاء مدیر	نمره به عدد:	نمره به حروف:
	نمره تجدید نظر به عدد:	نمره به حروف:
نام دبیر:	نام دبیر:	تاریخ و امضاء:
تاریخ و امضاء:	نام دبیر:	تاریخ و امضاء:
نام	سؤالات	نوع
۳/۵	<p>الگوهای زیر را ادامه دهید .</p> <p>۱-۳-۶-۱۰-۱۵-.....-.....-.....</p> <p>۱۰-۱۵-۲۰-۲۵.....-.....-.....</p> <p>۹-۱۵-۲۱-۲۷-.....-.....-.....</p>	۱
۱	<p>بین شکل های زیر یک رابطه پیدا کنید و شکل بعدی را بنویسید .</p> 	۲
۱	<p>با شمارش الگوی چند تا چند تا تعداد دایره های زیر را بدست آورید .</p> 	۳
۲	<p>پاسخ جمع های زیر را بصورت ذهنی بدست آورید .</p> <p>$۵+۷+۳+۵ =$</p> <p>$۱+۹+۴+۶ =$</p>	۴
۱	<p>قطار هر شب ساعت ۱۵ : ۲۰ از تهران به سمت شیراز حرکت این قطار چند بعد از ظهر است ؟</p> <p>اگر این قطار ۳ ساعت در راه باشد چه ساعتی به مقصد می رسد ؟</p>	۵
۲	<p>عدد ۶۸۷۲ را به حروف بنویسید .</p>	۶
صفحه ۱ از ۲		

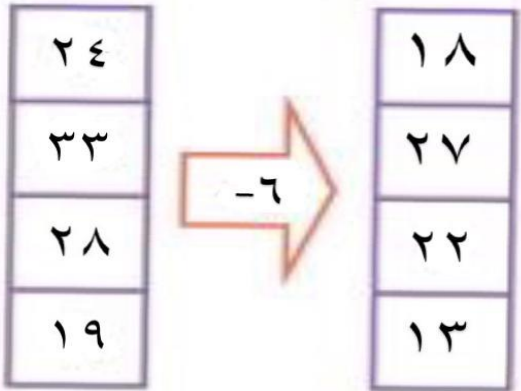
	ارزش مکانی کدام عدد بیشتر است؟	
۱/۵	با توجه به محور عددهای داده شده را بصورت تقریبی نشان دهید. ۱۰۵-۳۵۰-۷۰۹	۷
۳	شکل های زیر چه کسری را نشان می دهند؟	۸
۲	جاهای خالی را پر کنید. هر دایره تعداد شعاع دارد. به کسر $\frac{1}{2}$ هم می گویند. ۹۰۰ تومان ریال است. ۲۰۰۰ ریال تومان است.	۹
۰/۵	به خطی که دایره را به دو قسمت مساوی تقسیم می کند چه می گویند؟ (۱) خط کسری (۲) قطر (۳) شعاع (۴) زاویه	۱۰
۱/۵	کسرهای زیر را مقایسه کنید.	۱۱
	$\frac{2}{5} \square \frac{2}{3}$ $\frac{3}{7} \square 2$ $\frac{4}{8} \square \frac{3}{8}$	
۱	ماشین ورودی خروجی زیر را کامل کنید.	۱۲



اداره ی کل آموزش و پرورش شهر تهران
 اداره ی آموزش و پرورش شهر تهران منطقه ۴ تهران
 دبستان غیر دولتی دخترانه سرای دانش واحد رسالت
کلید سؤالات پایان نوبت اول سال تحصیلی ۱۴۰۱-۱۴۰۰

نام درس:
 نام دبیر:
 تاریخ امتحان: ۱۴۰۰/۱۰/۰۸
 ساعت امتحان: ۰۸:۰۰ صبح / عصر
 مدت امتحان: ۶۰ دقیقه

ردیف	راهنمای تصحیح	محل مهر یا امضاء مدیر
۱		$1 - 3 - 6 - 10 - 15 - 21 - 28$ $10 - 15 - 20 - 25 - 30 - 35 - 40$ $9 - 15 - 21 - 27 - 33 - 39$
۲	دو تا دو تا به تعداد دایره ها اضافه می شود . شکل چهارم ۷ دایره دارد .	
۳		$3 - 6 - 9 - 12 - 15 - 18$ $6 - 12 - 18$
۴		$3 + 7 + 5 + 5 = 20$ $6 + 4 + 9 + 1 = 20$
۵		$8 : 15$ $11 : 15$ یا $23 : 15$
۶	شش هزار و هشتصد و هفتاد و دو ارزش مکانی ۶ بیشتر است .	
۷		
۸		1 1 2 2 1 5 1 1 2

<p>بی شمار نیم ۹۰۰۰ ۲۰۰</p>	<p>۹</p>
<p>(۲) قطر</p>	<p>۱۰</p>
<p> $\frac{4}{8} > \frac{3}{8}$ $\frac{6}{7} < \frac{7}{7}$ $\frac{2}{5} < \frac{2}{4}$ </p>	<p>۱۱</p>
<p>  </p>	<p>۱۲</p>
<p>امضاء:</p>	<p>نام و نام خانوادگی مصحح : شیرین پوررحیمی جمع بارم : ۲۰ نمره</p>