




نام و نام خانوادگی:
 مقطع و رشته: اول ابتدایی
 نام پدر:
 شماره داوطلب:
 تعداد صفحه سؤال: ۲ صفحه

جمهوری اسلامی ایران
 اداره ی کل آموزش و پرورش شهر تهران
 اداره ی آموزش و پرورش شهر تهران منطقه ۴ تهران
 دبستان غیردولتی دخترانه سرای دانش واحد رسالت
 آزمون پایان ترم نوبت دوم سال تحصیلی ۱۴۰۱-۱۴۰۰

نام درس: ریاضی
 نام دبیر: فاطمه بزرگی
 تاریخ امتحان: ۱۴۰۱/۰۳/۰۲
 ساعت امتحان: ۰۸:۰۰ صبح/عصر
 مدت امتحان: ۶۰ دقیقه

نام دبیر:	نمره به عدد:	نمره به حروف:	محل مهر و امضاء مدیر
	نمره تجدید نظر به عدد:	نمره به حروف:	
نام دبیر:	تاریخ و امضاء:	نام دبیر:	تاریخ و امضاء:
شماره سؤال	سؤالات		
۱	الگوی عددی زیر را ادامه بده.-.....-.....-.....-.....-.....-.....-.....-.....-..... ۲۵-۲۰-۱۵-.....-.....-.....-.....-.....-.....-.....-.....-..... ۷۲-۷۰-۶۸-.....-.....-.....-.....-.....-.....-.....-.....-..... ۷۸-۷۷-۷۶-.....		
۲	مسئله زیر را با استفاده از شکل یا چوب خط و محور حل کن. علی ۱۵ مداد داشت. ۳ مداد را به حسن داد. ۳ مداد دیگر را به حسین داد. ۳ مداد دیگر را به رضا داد. چند مداد برای علی باقی مانده است؟		
			
۳	زمانی که ساعت ها نشان می دهند را بنویس.		
	 <p>زمان بین ساعت و است.</p> <p>زمان بین ساعت و است.</p> <p>زمان بین ساعت و است.</p>		
۴	 <p>ساعت است.</p> <p>ساعت است.</p>		

اعداد مربوط به هم را وصل کن.

۹۳

۹

۲۱

۷۸

۵۰

۲,۵

۴

نه

نود و سه

هفتاد و هشت

پنجاه

بیست و یک

حاصل هر کدام را بنویس.

$۴۰ + ۲۰ = \text{-----}$

$۱۰ + ۵ + ۵۰ = \text{-----}$

$۷۰ - ۱۰ = \text{-----}$

$۲۰ - ۲۰ = \text{-----}$

۲

۵

$۵ + ۵ + ۲۰ = \text{-----}$

$۶۰ - ۱۰ = \text{-----}$

$۲۰ + ۲۰ + ۵ + ۵ = \text{-----}$

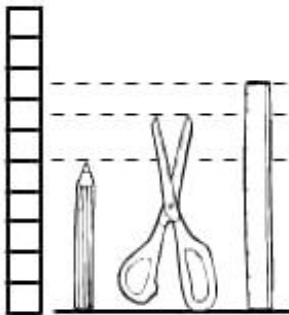
$۵۰ - ۲۰ = \text{-----}$



اندازه بگیر و جاهای خالی را پر کن.

۲

۶



اندازه ی مداد از خط کش _____ است.

اندازه ی قیچی بین _____ تا _____ است.

_____ از همه بلند تر است.

۱,۵


۷

از چپ به راست شکل های مثلث، دایره و مستطیل را با کمک شابلون بکش.

با شابلون و خط کش و مداد رنگی یک فرش زیبا طراحی کن.

۲

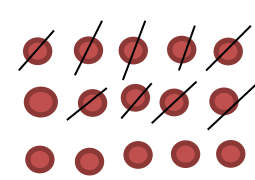
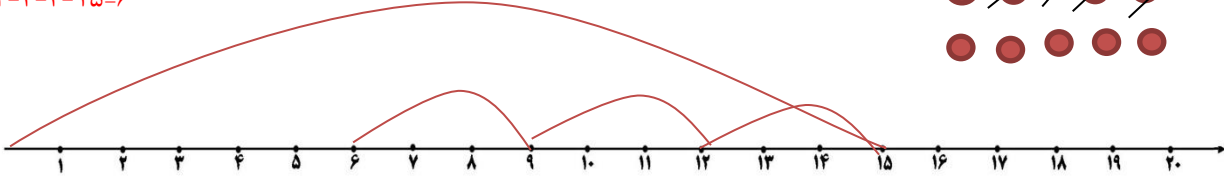





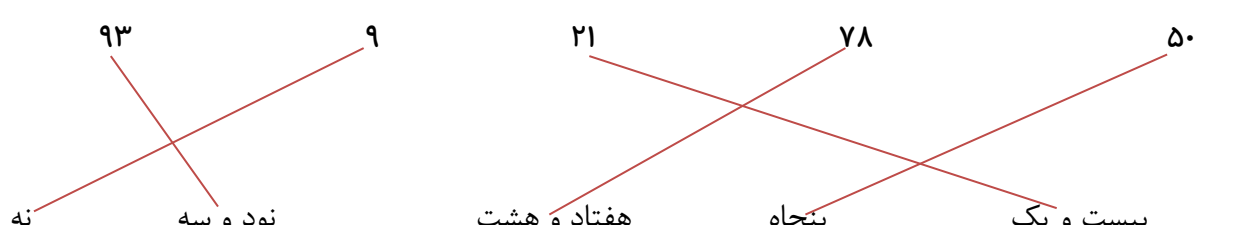
۸





اداره ی کل آموزش و پرورش شهر تهران
 اداره ی آموزش و پرورش شهر تهران منطقه ۴ تهران
دبستان غیر دولتی دخترانه سرای دانش واحد رسالت
کلید سؤالات پایان ترم نوبت دوم سال تحصیلی ۱۴۰۱-۱۴۰۰

نام درس: ریاضی
 نام دبیر: فاطمه بزرگی
 تاریخ امتحان: ۱۴۰۱/۰۳/۰۲
 ساعت امتحان: ۰۸:۰۰ **صبح** / عصر
 مدت امتحان: ۶۰ دقیقه

ردیف	راهنمای تصحیح	محل مهر یا امضاء مدیر
۱	الگوی عددی زیر را ادامه بده. $۵۰-۴۵-۴۰-۳۵-۳۰-۲۵-۲۰-۱۵$ $۸۲-۸۰-۷۸-۷۵-۷۴-۷۲-۷۰-۶۸$ $۸۴-۸۳-۸۲-۸۱-۸۰-۷۹-۷۸-۷۷-۷۶$	
۲	مسئله زیر را با استفاده از شکل یا چوب خط و محور حل کن. علی ۱۵ مداد داشت. ۳ مداد را به حسن داد. ۳ مداد دیگر را به حسین داد. ۳ مداد دیگر را به رضا داد. چند مداد برای علی باقی مانده است؟  $۱۵-۳-۳-۳=۶$ 	
۳	زمانی که ساعت ها نشان می دهند را بنویس.  زمان بین ساعت ۲ و ۳ است.  زمان بین ساعت ۱۲ و ۱ است.  زمان بین ساعت ۹ و ۱۰ است.  ساعت ۷ .. است.  ساعت ۱۱ .. است.	
۴	اعداد مربوط به هم را وصل کن. 	

حاصل هر کدام را بنویس.

$$۴۰ + ۲۰ = \underline{۶۰}$$

$$۱۰ + ۵ + ۵۰ = \underline{۶۵}$$

$$۷۰ - ۱۰ = \underline{۶۰}$$

$$۲۰ - ۲۰ = \underline{۰}$$

$$۵ + ۵ + ۲۰ = \underline{۳۰}$$

$$۶۰ - ۱۰ = \underline{۵۰}$$

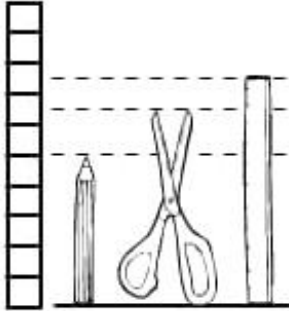
$$۲۰ + ۲۰ + ۵ + ۵ = \underline{۵۰}$$

$$۵۰ - ۲۰ = \underline{۳۰}$$



۵

اندازه بگیر و جاهای خالی را پر کن.




اندازه ی مداد از خط کش کوتاه تر است.

اندازه ی قیچی بین ۶ تا ۷ است.

خط کش از همه بلند تر است.


۶

از چپ به راست شکل های مثلث، دایره و مستطیل را با کمک شابلون بکش.



۷

با شابلون و خط کش و مداد رنگی یک فرش زیبا طراحی کن. به اختیار دانش آموز



۸

امضاء:

نام و نام خانوادگی مصحح : فاطمه بزرگی

جمع بارم : ۲۰ نمره