




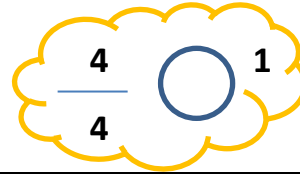
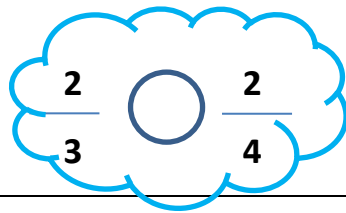
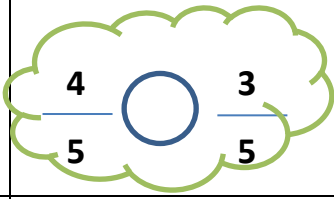


ردیف	سؤالات	نمره
	<p>مغازه داری نوعی مداد را ۴۵۰ تومان می خرد و ۵۰۰ تومان می فروشد . الف) او با فروش یک مداد چند تومان سود می کند؟ ب) او چند مداد باید بفروشد ، تا با سود آن ها بتواند یک مداد جدید بخرد؟</p>	۱
	<p>علی دیروز ساعت ۹ صبح به کتابخانه رفت و بعد از ۴ ساعت مطالعه، از آن جا خارج شد ؛ او چه ساعتی از کتابخانه خارج شد؟</p>	۲
	<p>کسر رنگی مربوط به هر شکل را بنویسید .</p> <div style="display: flex; justify-content: space-around; align-items: center;"> <div style="text-align: center;">  <p>پ: ...</p> </div> <div style="text-align: center;">  <p>ب :</p> </div> <div style="text-align: center;">  <p>الف:</p> </div> </div>	۳
	<p>عدد های زیر را روی محور نشان دهید .</p> <div style="display: flex; justify-content: space-around; align-items: center;"> <div style="text-align: center;"> <p>الف) <u>۲</u> واحد بعد از ۳</p>  </div> <div style="text-align: center;"> <p>۳</p> </div> </div> <div style="display: flex; justify-content: space-around; align-items: center; margin-top: 20px;"> <div style="text-align: center;"> <p>ب) <u>۱</u> واحد مانده به ۲</p>  </div> <div style="text-align: center;"> <p>۴</p> </div> </div>	۴
	<p>کامل کنید.</p> <p>الف) ۸ کیلومتر همان متر است . ب) ۶۲۰۰ گرم همان کیلوگرم و گرم است.</p>	۵

پ) ۶ متر همان سانتی متر است . ت) ۱۲۰ سانتی متر همان متر و سانتی متر است.

کسرهای زیر را مقایسه کنید .

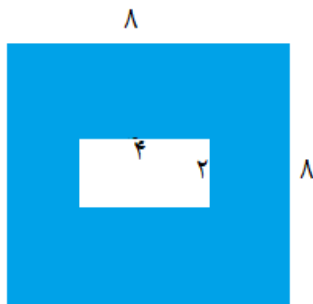


۶

زمینی به شکل مستطیل داریم که عرض آن ۱۰ متر و طول آن ۲ برابر عرضش است . می خواهیم دور این زمین را نرده بکشیم به چند متر نرده نیاز داریم؟

۷

مساحت قسمت رنگی را به دست آورید .



۸

جمع زیر را به فرایندی و تفریق را به روش جدول (تکنیکی) انجام دهید.

$$\begin{array}{r} 3208 \\ + 2521 \\ \hline \end{array}$$

$$\begin{array}{r} 7053 \\ - 5643 \\ \hline \end{array}$$

۹

پاسخ ضرب ها و تقسیم های زیر را به دست آورید.

$$(6 \times 8) + 2 = \dots\dots$$

$$(7 \times 5) - 4 = \dots\dots$$

$$20 \times 1 = \dots\dots$$

$$18 \div 6 = \dots\dots$$

$$36 \overline{) 5}$$

$$27 \overline{) 4}$$

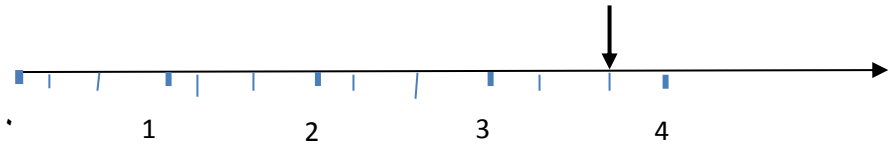
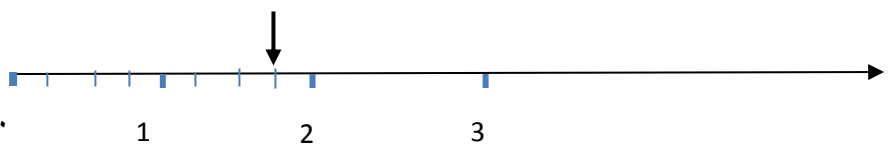
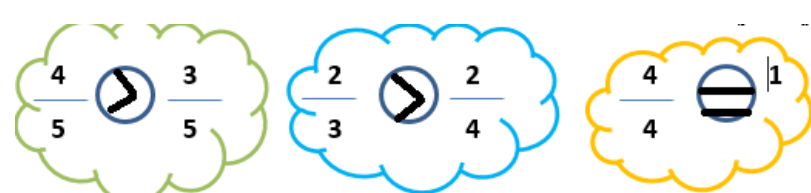
۱۰

	<p>می خواهیم ۹ بسته ی ۵ تایی شکلات را بین ۶ نفر تقسیم کنیم ، به هر نفر چند شکلات می رسد و چند شکلات باقی می ماند ؟</p>	۱۱
	<p>گلفروشی در یک روز ۱۰ شاخه گل مریم ، ۲۰ شاخه گل رز ، ۳۰ شاخه گل نرگس و ۱۰ شاخه گل لاله فروخته است. نمودار ستونی مربوط به این گل ها را رسم کنید و روی نمودار نشان دهید تعداد بیشتری از کدام گل را فروخته است؟</p>	۱۲

نام درس: ریاضی
نام دبیره: شریعت ظهیری

اداره ی کل آموزش و پرورش شهر تهران
اداره ی آموزش و پرورش شهر تهران منطقه ۲ تهران
دبستان غیر دولتی پسرانه سرای دانش واحد مرزداران
کلید ارزشیابی توصیفی نوبت دوم سال تمصیلی ۱۴۰۱-۱۴۰۰



ردیف	راهنمای تصحیح	محل مهر یا امضاء مدیر																														
(۱)		<p>$500 - 450 = 50$ (الف)</p> <p>۹ مداد (ب)</p> <table border="1"> <tr> <td>سود</td> <td>۵۰</td> <td>۱۰۰</td> <td>۱۵</td> <td>۲۰۰</td> <td>۲۵۰</td> <td>۳۰۰</td> <td>۳۵۰</td> <td>۴۰۰</td> <td>۴۵۰</td> </tr> <tr> <td>تعداد</td> <td>۱</td> <td>۲</td> <td>۳</td> <td>۴</td> <td>۵</td> <td>۶</td> <td>۷</td> <td>۸</td> <td>۹</td> </tr> <tr> <td>مداد</td> <td></td> <td></td> <td></td> <td></td> <td></td> <td></td> <td></td> <td></td> <td></td> </tr> </table>	سود	۵۰	۱۰۰	۱۵	۲۰۰	۲۵۰	۳۰۰	۳۵۰	۴۰۰	۴۵۰	تعداد	۱	۲	۳	۴	۵	۶	۷	۸	۹	مداد									
سود	۵۰	۱۰۰	۱۵	۲۰۰	۲۵۰	۳۰۰	۳۵۰	۴۰۰	۴۵۰																							
تعداد	۱	۲	۳	۴	۵	۶	۷	۸	۹																							
مداد																																
۲		<p>$9 + 4 = 13$ ساعت ۱۳ یا ۱ بعد از ظهر</p>																														
۳		<p>$\frac{4}{8}$ $\frac{1}{4}$ $\frac{2}{6}$</p>																														
۴		<p>الف) الف) $\frac{2}{3}$ واحد بعد از ۳</p>  <p>ب) ب) $\frac{1}{4}$ واحد مانده به ۲</p> 																														
۵		<p>الف) ۸۰۰۰ متر ب) ۶ کیلوگرم و ۲۰۰ گرم است پ) ۶۰۰ سانتی متر ت) ۱ متر و ۲۰ سانتی متر</p>																														
۶																																
۷		<p>۲۰ متر : طول ۱۰ متر: عرض</p> <p>60 متر = ۲۰ + ۴۰</p> <p>محیط مستطیل : $(2 \times \text{عرض}) + (2 \times \text{طول})$</p>																														

عرض \times طول : مساحت مستطیل

$$8 \times 8 = 64$$

سانتی متر مربع

$$4 \times 2 = 8$$

سانتی متر مربع : قسمت رنگی $64 - 8 = 56$

سانتی متر مربع

۸

$\begin{array}{r} 3208 \\ + 2521 \\ \hline 5208 \\ + 521 \\ \hline 5708 \\ + 21 \\ \hline 5728 \\ + 1 \\ \hline 5729 \end{array}$	$\begin{array}{r} 610 \\ - 7053 \\ \hline - 5643 \\ \hline 1410 \end{array}$
---	--

۹

پاسخ ضرب ها و تقسیم های زیر را به دست آورید.

$$(6 \times 8) + 2 = 50 \dots\dots$$

$$(7 \times 5) - 4 = \dots 31 \dots\dots$$

$$20 \times 1 = \dots 20 \dots\dots$$

۱۰

$$18 \div 6 = \dots 3 \dots\dots$$

$$\begin{array}{r} 36 \quad | \quad 5 \\ - 35 \quad | \quad 7 \\ \hline 1 \end{array}$$

$$\begin{array}{r} 27 \quad | \quad 4 \\ - 24 \quad | \quad 6 \\ \hline 3 \end{array}$$

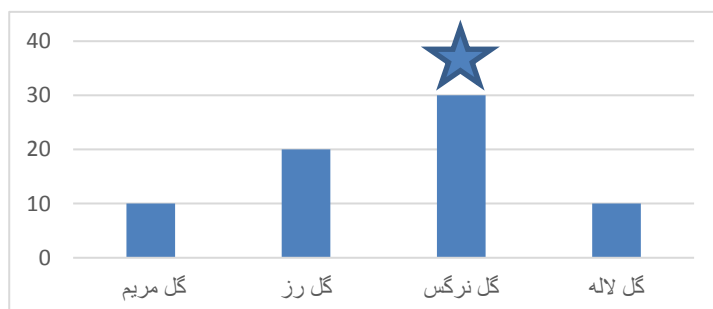
$$9 \times 5 = 45$$

$$\begin{array}{r} 45 \quad | \quad 6 \\ - 42 \quad | \quad 7 \\ \hline 3 \end{array}$$

به هر نفر ۷ شکلات می رسد و ۳ شکلات باقی می ماند

۱۱

تعداد



نوع گل

۱۲