


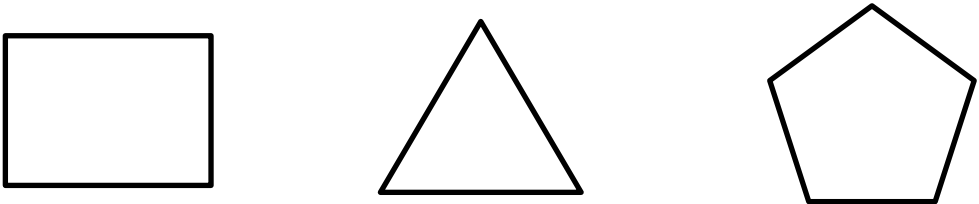


نام و نام خانوادگی:
 پایه: دوم
 نام پدر:
 تعداد صفحه سؤال: ۲ صفحه

جمهوری اسلامی ایران
 اداره ی کل آموزش و پرورش شهر تهران
 اداره ی آموزش و پرورش شهر تهران منطقه ۴ تهران
 دبستان غیردولتی دخترانه سرای دانش واحد رسالت
 جمع بندی پایان ترم نوبت اول سال تحصیلی ۱۴۰۲ - ۱۴۰۱

نام درس: ریاضی
 نام دبیر: مریم سادات آقاحسینی
 تاریخ امتحان: ۱۷ / ۱۰ / ۱۴۰۱
 ساعت امتحان: ۰۷:۳۰ صبح / عصر
 مدت امتحان: ۹۰ دقیقه

نام دبیر:	نمره به عدد:		نمره به حروف:	
	تاریخ و امضاء:	نام دبیر:	تاریخ و امضاء:	نام دبیر:
محل مهر و امضاء مدیر				
ردیف:	سوالات			نمره:
۱	الگوهای زیر را ادامه دهید: ۱۰۵-۱۱۰-..... ۱۳-۱۶-..... 			۱
۲	۷ دسته ی ده تایی منهای ۴ دسته ی ده تایی می شود..... $۷۰ - ۴۰ =$ دسته ی ده تایی به اضافه دسته ی ده تایی می شود..... $۳۰ + ۵۰ =$			۲
۳	مه‌رسانا ۵۴ شاخه گل داشت، او ۳۹ شاخه گل را به کارینا داد . حالا او چند شاخه گل دارد؟ (با رسم شکل)			۳
۴	جمع و تفریق های زیر را روی محور نشان دهید؟ $۳۰ + ۳۰ =$  $۹ - ۱۸ =$ 			۴
۵	تعداد ضلع و گوشه و خط تقارن های شکل های زیر را بنویسید و خط تقارن آن ها را رسم کنید: 			۵
	ضلع..... گوشه..... خط تقارن.....	ضلع..... گوشه..... خط تقارن.....	ضلع..... گوشه..... خط تقارن.....	

حاصل جمع و تفریق های زیر را به دست آورید: (تقریبی)

$$\begin{array}{r} 75 \\ - 32 \\ \hline \end{array} \quad \begin{array}{r} 67 \\ + 34 \\ \hline \end{array}$$

۶

ساعت چند است؟



۷

جواب جمع و تفریق های زیر را به دست آورید: (فرآیندی)

$$\begin{array}{r} 57 \\ - 36 \\ \hline \end{array}$$

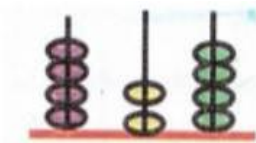
$$\begin{array}{r} 63 \\ + 16 \\ \hline \end{array}$$

۸

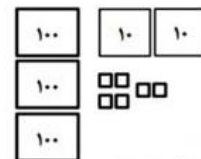
جاهای خالی را پر کنید:



ریال.....



یکی ده تایی صد تایی



صدگان	دهگان	یکان

۹


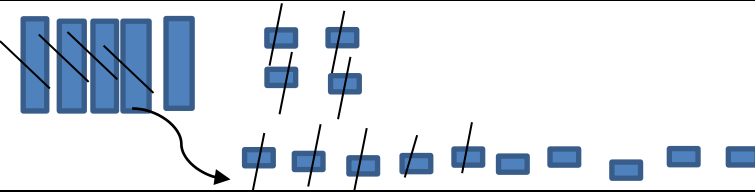


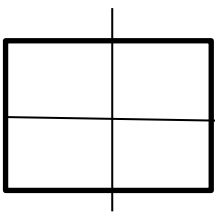
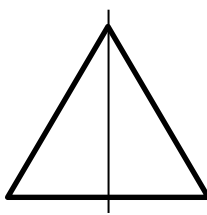
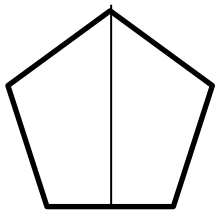
با کارت ۳ و ۹ و ۰ چند عدد دو رقمی می توان نوشت؟

۱۰



اداره ی کل آموزش و پرورش شهر تهران
 اداره ی آموزش و پرورش شهر تهران منطقه ۴ تهران
 دبستان غیر دولتی دخترانه سرای دانش واحد رسالت
کلید سؤالات جمع بندی پایان ترم نوبت اول سال تحصیلی ۱۴۰۲ - ۱۴۰۱

نام درس: ریاضی
 نام دبیر: مریم سادات آقامسینی
 تاریخ امتحان: ۱۴۰۱/۱۰/۱۷
 ساعت امتحان: ۷:۳۰ صبح / عصر
 مدت امتحان: ۹۰ دقیقه

ردیف	راهنمای تصحیح	محل مهر یا امضاء مدیر
۱		۱۰۵۱۱۰۱۱۵۱۲۰۱۲۵۱۳۰۱۳۵۱۴۰۱۴۵ ۱۶۱۳۱۰۷۴۱ 
۲	۷ دسته ی ده تایی منهای ۴ دسته ی ده تایی می شود. ۳ دسته ی ده تایی $۷۰ - ۴۰ = ۳۰$ ۵ دسته ی ده تایی به اضافه ۳ دسته ی ده تایی می شود ۸ دسته ی ده تایی $۳۰ + ۵۰ = ۸۰$	
۳		$۳۹ - ۵۴ = ۱۵$ 
۴		$۳۰ + ۳۰ = ۶۰$  $۹ - ۱۸ = ۹$ 
۵	تعداد ضلع و گوشه و خط تقارن های شکل های زیر را بنویسید و خط تقارن آن ها را رسم کنید:  ضلع ۴ گوشه ۴ خط تقارن ۲  ضلع ۳ گوشه ۳ خط تقارن ۱  ضلع ۵ گوشه ۵ خط تقارن ۱	

$$\begin{array}{r} 75 \\ - 32 \\ \hline \end{array} \rightarrow \begin{array}{r} 40 \\ - 30 \\ \hline 10 \end{array}$$

$$\begin{array}{r} 67 \\ + 34 \\ \hline \end{array} \rightarrow \begin{array}{r} 70 \\ + 30 \\ \hline 100 \end{array}$$

۶



۲:۴۰



۱۲:۱۵

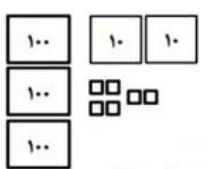
دوازده و ربع

۷

$$\begin{array}{r} 57 \\ - 36 \\ \hline 21 \end{array}$$

$$\begin{array}{r} 63 \\ + 16 \\ \hline 79 \end{array}$$

۸



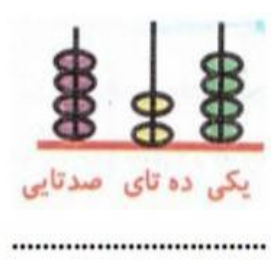
صدگان	دهگان	یکان

۳۲۶

۳۲۶



ریال



۹

۱۹۰

۱۹۰

چهار عدد دو رقمی (۳۰-۳۹-۹۰-۹۳)

۱۰

امضاء:

نام و نام خانوادگی مصحح :

جمع بارم : ۲۰ شماره