





نام و نام خانوادگی: .....  
 مقطع و رشته: اول دبستان  
 نام پدر: .....  
 شماره داوطلب: .....  
 تعداد صفحه سؤال: ۲ صفحه

جمهوری اسلامی ایران  
 اداره ی کل آموزش و پرورش شهر تهران  
 اداره ی آموزش و پرورش شهر تهران منطقه ۷ تهران  
 دبستان غیردولتی پسرانه سرای دانش واحد شریعتی  
 آزمون پایان ترم نوبت اول سال تحصیلی ۱۴۰۱-۱۴۰۰

نام درس: ریاضی  
 نام دبیر: فرنوش بلوردی  
 تاریخ امتحان: ..... / ..... / ۱۴۰۰  
 ساعت امتحان: ..... : ..... : صبح / عصر  
 مدت امتحان: ..... دقیقه

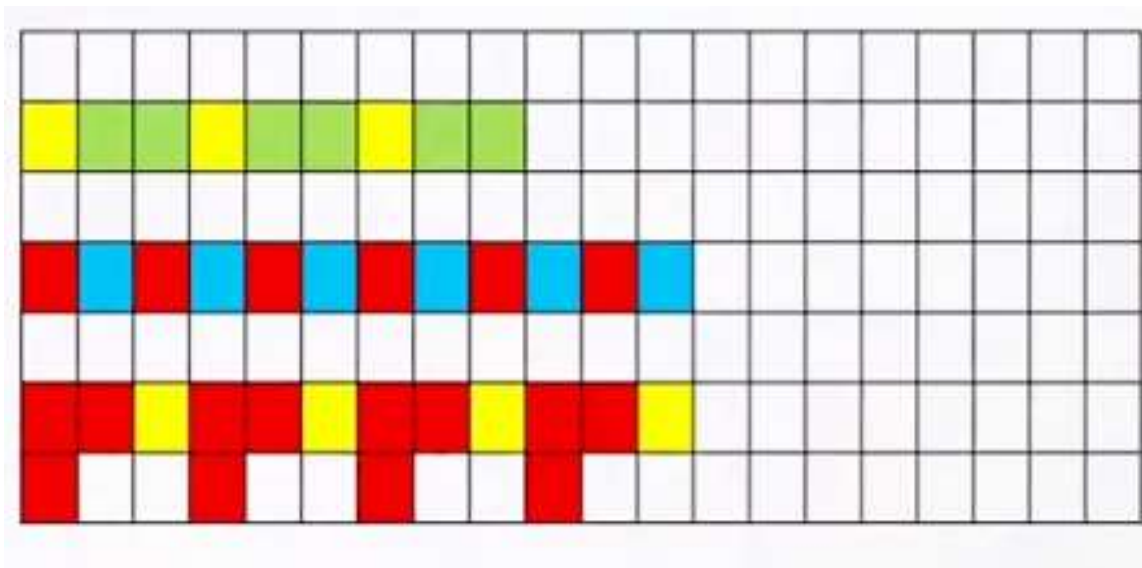
شماره سؤال	نمره به عدد: نمره به حروف:		نمره به عدد: نمره به حروف:		محل مهر و امضا: مدیر
	نام دبیر:	تاریخ و امضا:	نام دبیر:	تاریخ و امضا:	
۱	سیب سمت چپ را ضربدر بزنید.				
					
۲	بین دو عدد یکی از علامتهای $< = >$ را که مناسب است بگذار.				
	۹	۹	۵	۸	۶
	۱	۴	۳	۳	۸
۳	جمع های زیر را انجام دهید .				
	$۲+۵=$	$۵+۴=$	$۵+۱=$	$۲+۶=$	$۴+۰=$
۴	نیمه دیگر شکل را کامل کنید .				
					
۵	فرزندم ، عدد و چوب خط هر دسته را بنویس .				
					

جدول شگفت انگیز زیر را کامل کنید.



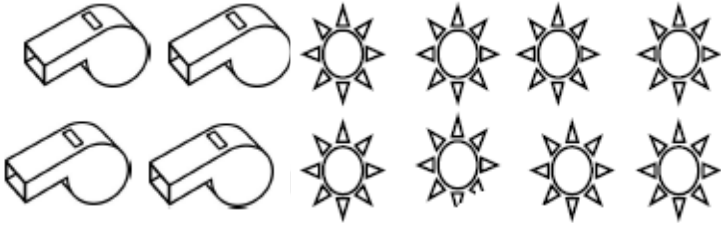
۳	۱	۲		۹	۵	۴	۷	۶
۵	۶	۹	۱		۷	۳	۸	۲
۴	۸	۷	۲	۶		۵	۱	۹
۹	۵	۱	۷	۳	۶		۴	۸
۷	۲	۸	۵	۱	۴	۶		۳
۶	۳	۴	۹	۸	۲	۱	۵	
	۴	۵	۶	۷	۹	۸	۳	۱
۱		۶	۳	۵	۸	۹	۲	۴
۸	۹		۴	۲	۱	۷	۶	۵

۶

الگوی زیر را ادامه دهید.



۷

ردیف	محل مهر یا امضاء مدیر	راهنمای تصحیح	ردیف
		سیب سمت چپ را ضربدر بزنید.	۱
		بین دو عدد یکی از علامتهای < = > را که مناسب است بگذار. $9 = 9$ $5 < 8$ $6 > 2$ $1 < 4$ $3 = 3$ $8 > 7$	۲
		جمع های زیر را انجام دهید. $2+5= 7$ $5+4= 9$ $5+1= 6$ $2+6= 8$ $4+0= 4$	۳
		نیمه دیگر شکل را کامل کنید. 	۴
		فرزندم، عدد و چوب خط هر دسته را بنویس.  $6 \#\#\# /$ $\#\#\# \quad \#\#\# \quad 8$	۵

۳	۱	۲	۸	۹	۵	۴	۷	۶
۵	۶	۹	۱	۴	۷	۳	۸	۲
۴	۸	۷	۲	۶	۳	۵	۱	۹
۹	۵	۱	۷	۳	۶	۲	۴	۸
۷	۲	۸	۵	۱	۴	۶	۹	۳
۶	۳	۴	۹	۸	۲	۱	۵	۷
۲	۴	۵	۶	۷	۹	۸	۳	۱
۱	۷	۶	۳	۵	۸	۹	۲	۴
۸	۹	۳	۴	۲	۱	۷	۶	۵

الگوی زیر را ادامه دهید.

