

نام و نام خانوادگی:

مقطع و رشته: سوم دبستان

تعداد صفحه سؤال: ۴ صفحه

جمهوری اسلامی ایران

اداره ی کل آموزش و پرورش شهر تهران

اداره ی آموزش و پرورش شهر تهران منطقه ۲ تهران

دبستان غیردولتی پسرانه سرای دانش واحد مرزداران

آزمون ارزشیابی توصیفی نوبت دوم سال تحصیلی ۱۴۰۲-۱۴۰۱

نام درس: ریاضی

نام دبیر: آرزو رحمانیان

ردیف	سوالات	نمره
	<p>۱- ضرب های زیر را از روش های خواسته شده بدست آورید.</p> <p>3×6 : روش محور</p> <p>5×4 : روش مستطیل</p> <p>7×2 : روش شکل</p> <p>6×5 : روش الگو</p> <p>8×4 : روش جمع</p>	۱
	<p>۲- برای عبارت زیر شکل بکشید. (توزیع پذیری)</p> $6 \times 8 = (4 \times 8) + (\dots \times \dots) =$	۲
	<p>۳- زهرا ۷ بسته شکلات شیری ۳ تایی و ۵ بسته شکلات توت فرنگی ۴ تایی دارد زهرا روی هم چند شکلات دارد؟</p>	۳

۴- حاصل عبارات زیر را بدست آورید.

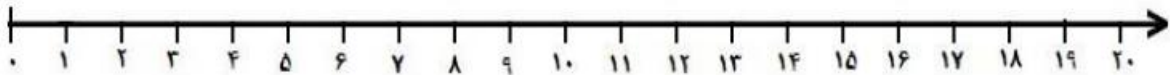
$$(6 \times 8) + (2 \times 1) =$$

$$(4 \times 8) + (2 \times 7) =$$

۴

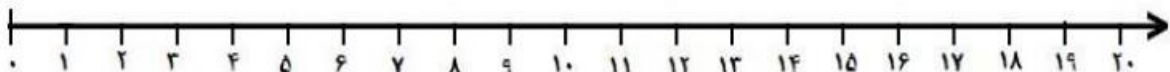
۵- ضرب و تقسیم های زیر را روی محور نشان دهید.

$$5 \times 4 = 4 \times 5$$



۵

$$18 \div 6 = \dots\dots\dots$$



۶- با رسم شکل نشان دهید که :

$$\frac{1}{2} = \frac{2}{4}$$

۷- برای تقسیم زیر یک مسئله بنویسید.

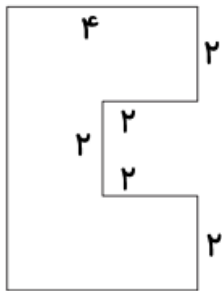
$$20 \div 5 = \square$$

۷

۸- برای دوخت یک لباس ۳ متر پارچه لازم است اگر ۲۷ متر پارچه داشته باشیم چند دست لباس می توانیم بدوزیم؟

۸

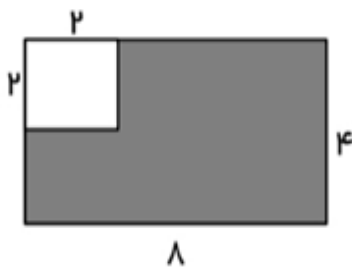
۹- با نوشتن ضرب یا جمع محیط شکل های زیر را بدست آورید.



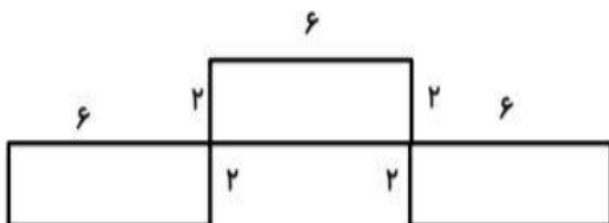
۹



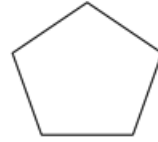
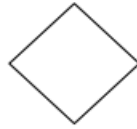
۱۰- مساحت قسمت هاشور خورده را بدست آورید.



۱۰



۱۱- قطر شکل های زیر را رسم کنید.



۱۱

۱۲- حاصل جمع و تفریق های زیر را به صورت فرآیندی بدست آورید.

$$\begin{array}{r} 9453 \\ - 82.2 \\ \hline \end{array}$$

$$\begin{array}{r} 6.24 \\ + 1312 \\ \hline \end{array}$$

۱۲

۱۳- حاصل ضرب های زیر را بدست آورید. (گسترده نویسی فراموش نشود)

$$\begin{array}{r} 87 \\ \times 5 \\ \hline \end{array}$$

$$\begin{array}{r} 62 \\ \times 4 \\ \hline \end{array}$$

$$\begin{array}{r} 645 \\ \times 2 \\ \hline \end{array}$$

$$\begin{array}{r} 46. \\ \times 8 \\ \hline \end{array}$$

۱۳

۱۴- تقسیم های زیر را انجام دهید.

$$87 \overline{) 9}$$

$$19 \overline{) 6}$$

$$46 \overline{) 5}$$

$$71 \overline{) 8}$$

$$65 \overline{) 7}$$

$$44 \overline{) 6}$$

۱۴

پسرای گلم موفق باشید


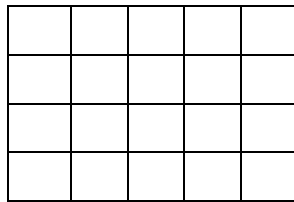
نام درس: ریاضی
نام دبیر: آرزو رحمانیان

اداره ی کل آموزش و پرورش شهر تهران
اداره ی آموزش و پرورش شهر تهران منطقه ۲ تهران
پیش دبستان و دبستان غیر دولتی پسرانه سرای دانش واحد مرزداران
کلید سؤالات ارزشیابی توصیفی نوبت دوم سال تحصیلی ۱۴۰۱-۱۴۰۲

محل مهر یا امضاء مدیر

راهنمای تصحیح

ردیف


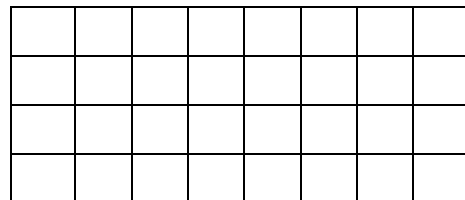


۵، ۱۰، ۱۵، ۲۰، ۲۵، ۳۰

$$۴+۴+۴+۴+۴+۴+۴+۴=۳۲$$

۱

$$(۴ \times ۸) + (۲ \times ۸) = ۴۸$$



۲

$3 \times 7 = 21$



$21 + 20 = 41$

$5 \times 4 = 20$


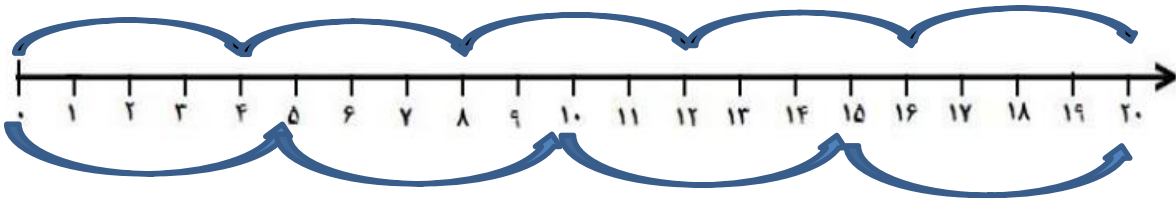
۳

زهرا روی هم ۴۱ شکلات دارد


$48 + 2 = 50$

$32 + 14 = 46$

۴



۵



۶

دلخواه

۷

 $27 \div 7 = 3$ هفت دست لباس می توانیم بدوزیم .

۸

$6 + 4 + 2 + 2 + 2 + 2 + 2 + 4 = 24$

۹

$8 \times 4 = 32$

$8 \times 4 = 32$

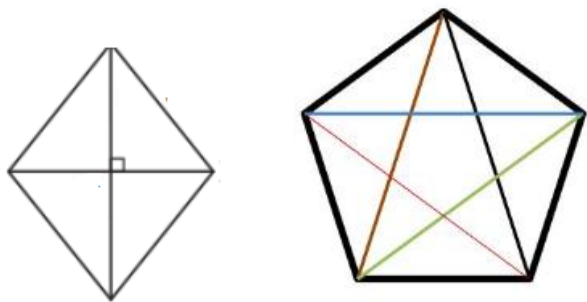
$32 - 4 = 28$



$2 \times 2 = 4$

۱۰

$$(2 \times 6) + (2 \times 6) + (2 \times 6) = 36$$



۱۱

۷۳۳۶

۱۲

۱۲۵۱

۴۳۵

۲۴۸

۱۲۹۰

۱۳

۳۶۸۰

از چپ به راست

$$\begin{array}{r}
 ۸۷ \mid ۹ \\
 \hline
 ۸۱ \mid ۹ \\
 \hline
 ۶
 \end{array}
 \quad
 \begin{array}{r}
 ۱۹ \mid ۶ \\
 \hline
 ۱۸ \mid ۳ \\
 \hline
 ۱
 \end{array}
 \quad
 \begin{array}{r}
 ۴۶ \mid ۵ \\
 \hline
 ۴۵ \mid ۹ \\
 \hline
 ۱
 \end{array}
 \quad
 \begin{array}{r}
 ۷۱ \mid ۸ \\
 \hline
 ۶۴ \mid \\
 \hline
 ۷
 \end{array}
 \quad
 \begin{array}{r}
 ۶۵ \mid ۷ \\
 \hline
 ۶۳ \mid ۹ \\
 \hline
 ۲
 \end{array}
 \quad
 \begin{array}{r}
 ۴۴ \mid ۶ \\
 \hline
 ۴۲ \mid ۷ \\
 \hline
 ۲
 \end{array}$$

۱۴

۱۵

امضاء:

نام و نام خانوادگی مصحح: آرزو رحمانیان