

نام و نام خانوادگی:

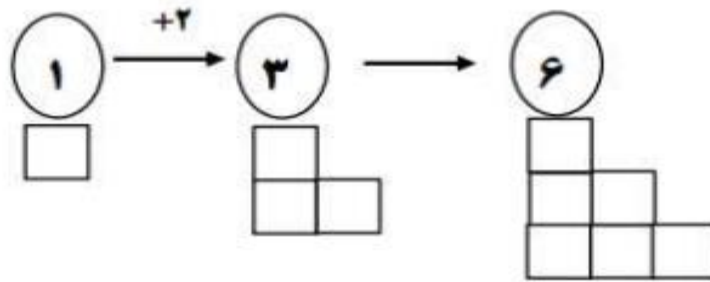
نام پشתיبان: ساجده جنیدی



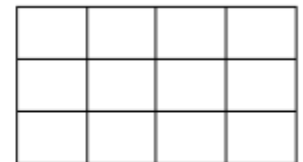
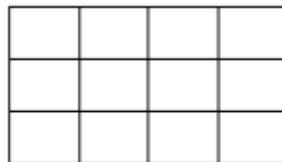
نام آموزگار: زهره احمدی

دستان (واحد سعادت آباد)

الگوی زیر را تا دو مرحله ادامه بده.



2- شکل زیر را به سه روش دسته بندی کن و برای آن جمع بنویس.



3- علی هر کیف را 450 تومان می خرد و 500 تومان می فروشد. او با فروش هر کیف چقدر سود می کند؟

اگر او 3 کیف بفروشد چقدر سود می کند؟

چند کیف بفروشد تا با سود آن بتواند یک کیف بخرد؟

4- جدول زیر را کامل کن.

زمان	16		14:18		هفته و ربع	
بعد از ظهر		8		06:15		سه و نیم

5- حاصل جمع و تفریق های زیر را بنویس.

$4000 - 2000 =$

$1000 - 300 =$

$200 + 800 =$

6- جاهای خالی را کامل کن..

عدد ۴۸۹۲ یعنی یکی، ده تایی، صدتایی و هزارتایی.

عدد یعنی ۷ یکی، ۶ ده تایی و ۳ هزارتایی.

عدد یعنی ۲ یکی، ۵ صدتایی و ۸ هزارتایی.

7- واحدهای ریال را به تومان و تومان را به ریال تبدیل کن.

۵۰۰ تومان = ریال

۱۰۰۰ ریال = تومان

۲۲ تومان = ریال

۳۴۰ ریال = تومان

8- یک دلار کشوری به اندازه 1000 تومان ارزش دارد. 5 دلار این کشور ارزش بیشتری دارد یا 4825 تومان؟ چرا؟

9- اعداد زیر را باهم مقایسه کنید.

۲۳۹۵ ○ ۲۳۸۵

۴۴۰۰ ○ ۳۴۰۰

۱۲۴۳ ○ ۱۲۴۰

10- با توجه به محور اعداد را به صورت تقریبی نشان دهید.



۹۲۰، ۲۲۵۰، ۴۷۸۱، ۶۰۹۹

11- 4000 متر چند کیلومتر است؟

325 سانتی متر یعنی متر و سانتی متر

