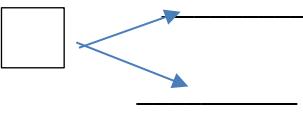
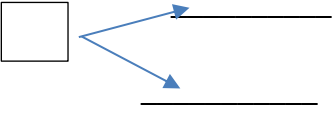






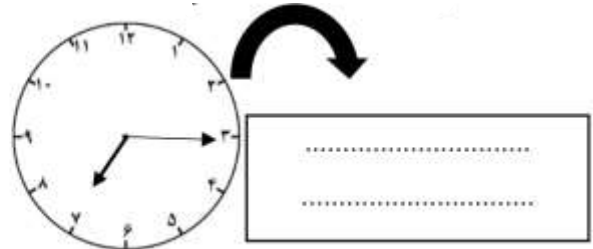
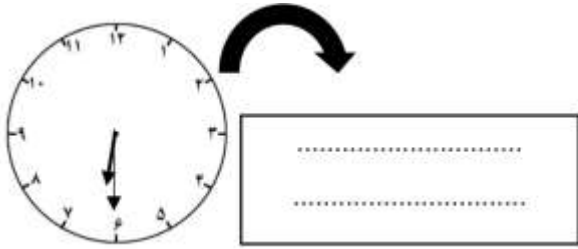
نام درس: ریاضی  
نام دبیر: سپیده میرزائی

جمهوری اسلامی ایران  
اداره ی کل آموزش و پرورش شهر تهران  
اداره ی آموزش و پرورش شهر تهران منطقه ۲ تهران  
دبستان غیردولتی پسرانه سرای دانش واحد مرزداران  
آزمون ارزشیابی توصیفی نوبت اول سال تحصیلی ۱۴۰۲-۱۴۰۱


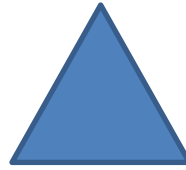

نام و نام خانوادگی: .....  
مقطع و رشته: دوم دبستان  
تعداد صفحه سؤال: ۳ صفحه

ردیف	سؤالات	نمره
۱	در جای خالی عدد مناسب بنویسید. <div style="border: 1px solid black; padding: 10px; display: flex; justify-content: space-around; align-items: center;"> <div style="border: 1px solid black; border-radius: 50%; width: 40px; height: 40px; display: flex; align-items: center; justify-content: center;">17</div> <div style="border: 1px solid black; border-radius: 50%; width: 40px; height: 40px; display: flex; align-items: center; justify-content: center;">18</div> <div style="border: 1px solid black; border-radius: 50%; width: 40px; height: 40px;"></div> <div style="border: 1px solid black; border-radius: 50%; width: 40px; height: 40px;"></div> <div style="border: 1px solid black; border-radius: 50%; width: 40px; height: 40px;"></div> <div style="border: 1px solid black; border-radius: 50%; width: 40px; height: 40px; display: flex; align-items: center; justify-content: center;">22</div> <div style="border: 1px solid black; border-radius: 50%; width: 40px; height: 40px;"></div> <div style="border: 1px solid black; border-radius: 50%; width: 40px; height: 40px;"></div> </div>	
۲	الگوهای عددی زیر را ادامه دهید. 3_6_..._..._....._ 2_8_..._....._....._	
۳	۱۱ دانش آموز در کلاس بودند. ۷ دانش آموز دیگر به کلاس آمدند ولی ۴ نفر از کلاس رفتند. حالا چند نفر در کلاس هستند؟	
۴	عددهای دو رقمی را به عدد و حروف بنویسید. (الف) رقم یکان ۴ و رقم دهگان ۷ ..... به حروف: ..... (ب) رقم یکان ۳ و رقم دهگان ۵ ..... به حروف: .....	
۵	همه ی عددهای دورقمی را که می توان با یکان ۳ و ۵ و دهگان ۶ و ۲ نوشت را به روش شاخه ای بنویسید. <div style="display: flex; justify-content: space-around; align-items: center;"> <div style="text-align: center;">  </div> <div style="text-align: center;">  </div> </div> عددهای: ..... ، ..... ، ..... ، .....	
۶	با توجه به محور به سؤالات زیر پاسخ دهید. <div style="display: flex; align-items: center;">   </div> عدد ۲۳ به ۲۰ نزدیک تر است یا به ۳۰؟ ..... عدد ۵۸ به ۵۰ نزدیک تر است یا به ۶۰؟ .....	

	<p>علی ساعت ۷ و نیم صبح به مدرسه رسید و مراسم صبحگاه ۳۰ دقیقه طول کشید و بعد از مراسم به کلاس رفت. علی چه ساعتی وارد کلاس شده است؟</p>	۷		
	<p>جواب جمع و تفریق ها را به صورت تقریبی به دست آورید.</p> <table style="width: 100%; border: none;"> <tr> <td style="text-align: center; width: 50%;"> <math display="block">\begin{array}{r} \rightarrow 53 \\ \rightarrow + 28 \\ \hline \end{array}</math> </td> <td style="text-align: center; width: 50%;"> <math display="block">\begin{array}{r} \rightarrow 69 \\ \rightarrow - 32 \\ \hline \end{array}</math> </td> </tr> </table>	$\begin{array}{r} \rightarrow 53 \\ \rightarrow + 28 \\ \hline \end{array}$	$\begin{array}{r} \rightarrow 69 \\ \rightarrow - 32 \\ \hline \end{array}$	۸
$\begin{array}{r} \rightarrow 53 \\ \rightarrow + 28 \\ \hline \end{array}$	$\begin{array}{r} \rightarrow 69 \\ \rightarrow - 32 \\ \hline \end{array}$			
	<p>جمع هایی را بنویسید که حاصل جمع برابر با ۶ شود.</p> <p>_____ + _____ = _____</p> <p>_____ + _____ = _____</p> <p>_____ + _____ = _____</p>	۹		
	<p>تفاوت و شباهت دو شکل زیر را بیان کنید.</p> <div style="display: flex; align-items: center; gap: 20px;">   </div> <p>شباهت: .....</p> <p>تفاوت: .....</p>	۱۰		
	<p>جواب جمع و تفریق ها را با روش فرایندی به دست آورید.</p> <table style="width: 100%; border: none;"> <tr> <td style="text-align: center; width: 50%;"> <math display="block">\begin{array}{r} 43 \\ + 15 \\ \hline \end{array}</math> </td> <td style="text-align: center; width: 50%;"> <math display="block">\begin{array}{r} 97 \\ - 64 \\ \hline \end{array}</math> </td> </tr> </table>	$\begin{array}{r} 43 \\ + 15 \\ \hline \end{array}$	$\begin{array}{r} 97 \\ - 64 \\ \hline \end{array}$	۱۱
$\begin{array}{r} 43 \\ + 15 \\ \hline \end{array}$	$\begin{array}{r} 97 \\ - 64 \\ \hline \end{array}$			
	<p>اگر مهرسام ۲۰ سکه ۱ ریالی به بانک بدهد ، چند سکه ۱۰ ریالی باید بگیرد؟</p>	۱۲		
	<p>زمانی که هر ساعت نشان می دهد را به دو صورت بنویسید.</p>	۱۳		




تقارن شکل های زیر را بکشید. هر کدام از شکل ها که خط تقارن ندارد را قرمز رنگ کنید.



۱۴

نام هر شکل را بنویسید و تعداد ضلع و گوشه های آن را بنویسید.



نام شکل: .....

نام شکل: .....

تعداد ضلع: .....

تعداد ضلع: .....

تعداد گوشه: .....


تعداد گوشه: .....

۱۵

نام درس: ریاضی  
نام دبیر: خانم میرزائی

اداره ی کل آموزش و پرورش شهر تهران  
اداره ی آموزش و پرورش شهر تهران منطقه ۲ تهران  
پیش دبستان و دبستان غیر دولتی پسرانه سرای دانش واحد مرزداران  
کلید سؤالات ارزشیابی توصیفی نوبت اول سال تحصیلی ۱۴۰۲-۱۴۰۱

ردیف	راهنمای تصحیح	محل مهر یا امضاء مدیر
۱		17_ 18 _ 19 _ 20_ 21_22_ 23_24_
۲		3_6_9_12_15_18_ 2_8_14_20_26_
۳		$11 + 7 - 4 = 18$
۴	الف) ۷۴ ← به حروف: هفتاد و چهار ب) ۵۳ ← به حروف: پنجاه و سه	
۵		63_65_23_25_
۶		_ 20 _ 60
۷		_ علی ساعت ۸ وارد کلاس شده است.
۸		$50 + 30 = 80$ $70 + 30 = 100$
۹		$3 + 3 = 6$ $4 + 2 = 6$ $1 + 5 = 6$
۱۰		تفاوت: اضلاع مربع باهم برابر هستند ولی ضلع های مستطیل دو به دو باهم برابر هستند. شباهت: هر دو شکل (مربع و مستطیل) ۴ ضلع و ۴ گوشه دارند.
۱۱		$\begin{array}{r} 43 \\ + 15 \\ \hline 58 \end{array}$ $\begin{array}{r} 97 \\ - 64 \\ \hline 33 \end{array}$
۱۲		مهرسام باید از بانک ۲ سکه ی ۱۰ ریالی بگیرد.
۱۳		_ ساعت شش و سی دقیقه است. ۶:۳۰ ساعت شش و نیم است. ۶:۳۰ _ ساعت هفت و پانزده دقیقه است. ۷:۱۵ ساعت هفت و ربع است. ۷:۱۵

	۱۴
<p>نام شکل: دایره  تعداد ضلع: ضلع ندارد. •  تعداد گوشه: گوشه ندارد. •</p>	<p>نام شکل: مربع  تعداد ضلع: ۴ ضلع  تعداد گوشه: ۴ گوشه</p>
<p>نام و نام خانوادگی مصحح : امضاء:</p>	